

سلسلة

الأوائل

في

العلوم

تدم أول  
2024  
شرح

الصف الثالث الإعدادي

اعداد أ / محمود هاشم

01061801314

## محتويات مذكرة الصف الثالث الإعدادي

رقم الصفحة	الدرس الأول	الوحدة الأولى القوى والحركة
من ١ إلى ١٢	الحركة في اتجاه واحد	
من ١٣ إلى ٢٣	الدرس الثاني التمثيل البياني للحركة في خط مستقيم	
من ٢٤ إلى ٣٤	الدرس الثالث الكميات الفيزيائية القياسية والمتجهة	

رقم الصفحة	الدرس الأول	الوحدة الثانية الطاقة الضوئية
من ٣٥ إلى ٥١	المرايا	
من ٥٢ إلى ٦٦	الدرس الثاني العدسات	

رقم الصفحة	الدرس	الوحدة الثالثة الكون والنظام الشمسي
من ٦٧ إلى ٧٧	الكون والنظام الشمسي	

رقم الصفحة	الدرس الأول	الوحدة الرابعة التكاثر واستمرار النوع
من ٧٨ إلى ٩١	الانقسام الخلوي	
من ٩٢ إلى ١٠١	الدرس الثاني التكاثر اللاجنسي والتكاثر الجنسي	

سؤال ماذا يحدث عند ؟ وإجابته كلمتين بس لو الطلبة حفظته بتغطا ، فكرت في طريقة سهلة نوصلوا للطلبة إزاي من غير حفظ ونطبق ده على جميع الأسئلة المشابهة.

## الطريقة الأولى

## الطريقة الثانية

١- ماذا يحدث لسرعة الجسم ؟ إذا قطع جسم متحرك نفس المسافة التي تحركها في نصف الزمن. تزداد سرعة الجسم إلى الضعف.

١- ماذا يحدث لسرعة الجسم ؟ إذا قطع جسم متحرك نفس المسافة التي تحركها في نصف الزمن. تزداد سرعة الجسم إلى الضعف.

نضع عند المسافة و السرعة و الزمن

قيم ثابتة في البداية وليكن رقم ١

ف١ = ٣ م ، ع١ = ١ م/ث ، ز١ = ٣ ث

نشوف السؤال طالب إيه ونعوض بالقانون :

$$ع٢ = \frac{ف٢}{ز٢} = \frac{٣}{\frac{٣}{٢}} = ٢ م/ث$$

تزداد للضعف



(الحل بقاعدة مقام البسط)

$$ع٢ = \frac{ف٢}{ز٢} = \frac{٣}{\frac{٣}{٢}} = ٢ م/ث$$

تزداد للضعف



٢- ماذا يحدث لسرعة الجسم ؟ إذا استغرق جسم متحرك ضعف الزمن لقطع نصف المسافة. تقل سرعة الجسم إلى الربع.

٢- ماذا يحدث لسرعة الجسم ؟ إذا استغرق جسم متحرك ضعف الزمن لقطع نصف المسافة. تقل سرعة الجسم إلى الربع.

نشوف السؤال طالب إيه ونعوض بالقانون :

$$ع٢ = \frac{ف٢}{ز٢} = \frac{٣}{٦} = \frac{١}{٢} م/ث$$

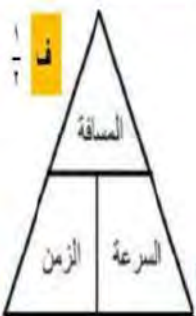
تقل للربع



(الحل بقاعدة مقام البسط)

$$ع٢ = \frac{ف٢}{ز٢} = \frac{٣}{٦} = \frac{١}{٢} م/ث$$

تقل للربع



٣- ماذا يحدث لسرعة الجسم ؟ إذا استغرق جسم متحرك نفس الزمن لقطع نصف المسافة. تقل سرعة الجسم إلى النصف.

٣- ماذا يحدث لسرعة الجسم ؟ إذا استغرق جسم متحرك نفس الزمن لقطع نصف المسافة. تقل سرعة الجسم إلى النصف.

نشوف السؤال طالب إيه ونعوض بالقانون :

$$ع٢ = \frac{ف٢}{ز٢} = \frac{٣}{٦} = \frac{١}{٢} م/ث$$

تقل للنصف



(الحل بقاعدة مقام البسط)

$$ع٢ = \frac{ف٢}{ز٢} = \frac{٣}{٦} = \frac{١}{٢} م/ث$$

تقل للنصف



٤- ماذا يحدث لسرعة الجسم ؟ إذا استغرق جسم متحرك نصف الزمن لقطع ضعف المسافة. تزداد سرعة الجسم إلى أربعة أمثال.

٤- ماذا يحدث لسرعة الجسم ؟ إذا استغرق جسم متحرك نصف الزمن لقطع ضعف المسافة. تزداد سرعة الجسم إلى أربعة أمثال.

نشوف السؤال طالب إيه ونعوض بالقانون :

$$ع٢ = \frac{ف٢}{ز٢} = \frac{٦}{\frac{٣}{٢}} = ٤ م/ث$$

تزداد أربعة أمثال



(الحل بقاعدة مقام البسط)

$$ع٢ = \frac{ف٢}{ز٢} = \frac{٦}{\frac{٣}{٢}} = ٤ م/ث$$

تزداد أربعة أمثال



# الوحدة الأولى

## القوى والحركة



### الحركة في اتجاه واحد

### الدرس الأول

**الحركة** هي تغير موضع الجسم أو اتجاهه بالنسبة لجسم آخر ثابت بمرور الزمن.

أى أن عندما يتغير موضع الجسم خلال فترة زمنية نقول أن الجسم قد تحرك خلال هذه الفترة. ولتبسيط مفهوم الحركة سوف نكتفى بدراسة الحركة في اتجاه واحد ، **سواء كان مسار الحركة** :



من أمثلة الحركة في اتجاه واحد : حركة القطار أو المترو

وتعتبر الحركة في اتجاه واحد في خط مستقيم أبسط انواع الحركة.

تعتبر حركة القطار من أمثلة الحركة في اتجاه واحد.

علل

لأن القطار يتحرك للأمام أو للخلف في مسار مستقيم أو منحني أو كلاهما معاً.

### السرعة

يستخدم مصطلح السرعة لوصف ومقارنة حركة الأجسام كما يتضح فيما يلي :

إذا كان هناك سيارتان إحداهما حمراء والأخرى زرقاء

فأيهما أسرع في كل من الحالتين التاليتين ؟..

الحالة الثانية	الحالة الأولى
<p>إذا قطعت السيارتان مسافة قدرها ١٠٠ متر ، واستغرقت :</p> <ul style="list-style-type: none"> <li>السيارة الحمراء زمن قدره ٥ ثانية.</li> <li>السيارة الزرقاء زمن قدره ١٠ ثانية.</li> </ul>	<p>إذا تحركت السيارتان لمدة ٥ ثانية ، وقطعت :</p> <ul style="list-style-type: none"> <li>السيارة الحمراء مسافة ١٠٠ متر.</li> <li>السيارة الزرقاء مسافة ٥٠ متر.</li> </ul>
<p>نجد أن</p> <p>السيارة الحمراء أسرع من السيارة الزرقاء .</p>	<p>لأنها قطعت مسافة أكبر ١٠٠ متر ، في نفس الزمن ٥ ثانية.</p>
<p>لأنها استغرقت زمن أقل ٥ ثانية ، في قطع نفس المسافة ١٠٠ متر.</p>	<p>علل</p>

وصف السرعة (الحركة) يعتمد على عاملين أساسيين هما :  
 • **المسافة** التي يقطعها الجسم (طول المسار). • **الزمن** الذي يستغرقه الجسم في قطع هذه المسافة.  
 ويُعرف خارج قسمتهما **بالسرعة**

$$\text{السرعة (ع)} = \frac{\text{المسافة (ف)}}{\text{الزمن (ز)}}$$

**السرعة** هي المسافة المقطوعة خلال وحدة الزمن.  
 أو المعدل الزمني للتغير في المسافة.

**متى ؟** يتساوى مقدار سرعة الجسم مع مقدار المسافة التي يقطعها.  
 عندما يقطع الجسم هذه المسافة خلال وحدة الزمن ( ١ ساعة أو ١ دقيقة أو ١ ثانية ).

علل	
<p>تزداد سرعة الجسم المتحرك كلما قل الزمن المستغرق لقطع نفس المسافة.            لأن السرعة تتناسب عكسياً مع الزمن عند ثبوت المسافة طبقاً للعلاقة</p> $ع = \frac{ف}{ز}$	<p>تزداد سرعة الجسم المتحرك كلما زادت المسافة المقطوعة خلال نفس الزمن.            لأن السرعة تتناسب طردياً مع المسافة عند ثبوت الزمن طبقاً للعلاقة</p> $ع = \frac{ف}{ز}$
<p>ماذا يحدث إذا ؟ قطع جسم متحرك نفس المسافة التي تحركها في نصف الزمن.            تزداد سرعة الجسم إلى الضعف.</p>	
<p>ماذا يحدث إذا ؟ استغرق جسم متحرك ضعف الزمن لقطع نصف المسافة.            تقل سرعة الجسم إلى الربع.</p>	

تختلف وحدة قياس السرعة تبعاً لاختلاف وحدتي قياس المسافة والزمن المستخدمين  
 كما يتضح من الجدول التالي :

وحدة	المسافة	متر	متر	كيلو متر	كيلو متر
الزمن	ثانية	دقيقة	ساعة	ثانية	ساعة
السرعة	م/ث	م/د	كم/س	كم/ث	كم/س

**ما معنى قولنا ... ؟**  
 ١- قطار يتحرك بسرعة مقدارها ١٨٠ كم/س  
 أى أن القطار يقطع مسافة مقدارها ١٨٠ كيلو متر في الساعة الواحدة.  
 ٢- سيارة متحركة تقطع مسافة ١٥٠ متر في زمن قدره ٣ ثانية.

$$\text{السرعة (ع)} = \frac{\text{المسافة (ف)}}{\text{الزمن (ز)}} = \frac{١٥٠}{٣} = ٥٠ \text{ م/ث}$$

أى أن السيارة تتحرك بسرعة مقدارها ٥٠ م/ث

إرشادات خاصة بعمليات تحويل بعض وحدات القياس

تحويل وحدات قياس السرعة	تحويل وحدات قياس الزمن	تحويل وحدات قياس المسافة
<p>تحويل وحدات قياس السرعة</p> <p>٥/١٨ × (متر/ثانية) → (كيلومتر/ساعة)</p> <p>٥/١٨ ÷ (كيلومتر/ساعة) → (متر/ثانية)</p>	<p>تحويل وحدات قياس الزمن</p> <p>١ × (ساعة) → ٦٠ × (دقيقة) → ٣٦٠٠ × (ثانية)</p> <p>١ ÷ (ثانية) → ٦٠ ÷ (دقيقة) → ٣٦٠٠ ÷ (ساعة)</p>	<p>تحويل وحدات قياس المسافة</p> <p>١ × (كيلومتر) → ١٠٠ × (متر) → ١٠٠٠ × (سنتيمتر)</p> <p>١ ÷ (سنتيمتر) → ١٠٠ ÷ (متر) → ١٠٠٠ ÷ (كيلومتر)</p>

ويمكن حساب كل من السرعة والمسافة والزمن ، كما يتضح مما يلي

لحساب الزمن	لحساب المسافة	لحساب السرعة
<p>المسافة الزمن السرعة</p> $z = \frac{f}{c}$	<p>المسافة الزمن السرعة</p> $f = z \times c$	<p>المسافة الزمن السرعة</p> $c = \frac{f}{z}$

**مثال ١** قطع جسم مسافة ١٢٠ متر خلال دقيقة واحدة احسب سرعته.

الحل

الزمن بالثانية ١ دقيقة = ٦٠ ث

$$c = \frac{f}{z} = \frac{120}{60} = 2 \text{ م/ث}$$



**مثال ٢** تحركت سيارة بسرعة ٦٠ كم/س احسب الزمن الذي تستغرقه السيارة لقطع مسافة ٢٤٠ كم

الحل

$$z = \frac{f}{c} = \frac{240}{60} = 4 \text{ ساعات}$$



**مثال ٣** تحرك جسم بسرعة ٢٥ م/ث احسب المسافة التي يقطعها خلال دقيقة ونصف.

الحل

الزمن بالثانية ١ 1/٢ دقيقة = ٩٠ ثانية

$$f = z \times c = 90 \times 25 = 2250 \text{ متر}$$



**مثال ٤** تحركت طائرة من مطار القاهرة و قطعت مسافة قدرها ٩٠٠ كم/س لتصل مطار أسوان خلال

ساعة واحدة ، احسب السرعة التي تحركت بها الطائرة مقدره بوحدة :-

(٢) متر/ثانية.

(١) كيلو متر/ساعة.

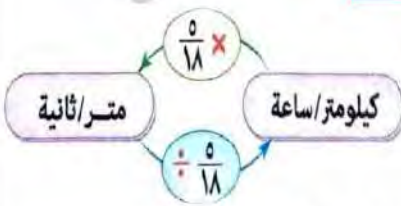
الحل

ف = ٩٠٠ كم ، ز = ١ س

ع = ؟ كم/س ، ع = ؟ م/ث

$$(١) \text{ سرعة الطائرة بوحدة (كم/س)} = \frac{\text{المسافة (كيلومتر)}}{\text{الزمن (ساعة)}} = \frac{900}{1} = 900 \text{ كم/س}$$

$$(٢) \text{ سرعة الطائرة بوحدة (م/ث)} = \text{السرعة بوحدة (كم/س)} \times \frac{1000}{1800} = 900 \times \frac{5}{18} = 250 \text{ م/ث}$$

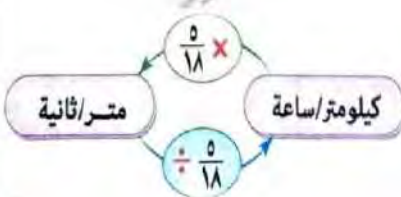


**مثال ٥** سيارة تتحرك بسرعة ٢٠ م/ث احسب سرعتها بوحدة كم/س

الحل

سرعة السيارة بوحدة (كم/س) = السرعة بوحدة (م/ث)  $\div$   $\frac{5}{18}$

$$= 20 \div \frac{5}{18} = 72 \text{ كم/س}$$



## أنواع السرعة

سرعة منتظمة (ثابتة) أو سرعة غير منتظمة (متغيرة)

فما الفرق بين المفهومين ...؟



يتضح من دراسة الشكلين السابقين أن :

السيارة B	السيارة A
تتحرك بحيث تقطع مسافات غير متساوية (١٠٠ ، ١٢٠ ، ٨٠ متر) في أزمنة متساوية (١٠ ثانية) وتوصف حركة السيارة بأنها حركة غير منتظمة (متغيرة)	تتحرك بحيث تقطع مسافات متساوية (١٠٠) في أزمنة متساوية (١٠ ثانية) وتوصف حركة السيارة بأنها حركة منتظمة (ثابتة)
السرعة غير المنتظمة	السرعة المنتظمة
هي السرعة التي يتحرك بها الجسم عندما يقطع مسافات غير متساوية في أزمنة متساوية أو مسافات متساوية في أزمنة غير متساوية.	هي السرعة التي يتحرك بها الجسم عندما يقطع مسافات متساوية في أزمنة متساوية.

ما معنى أن ...؟ سيارة تتحرك بسرعة منتظمة مقدارها ٩٠ كم/س

أي أن السيارة تتحرك بسرعة ثابتة في خط مستقيم ، بحيث تقطع مسافة مقدارها ٩٠ كيلومتر كل ساعة.

سؤال للتفكير؟؟؟ ما الشيء الوحيد الذي ينتقل بسرعة ثابتة (منتظمة) في الفراغ.

تنتقل جميع الموجات الكهرومغناطيسية مثل الضوء في الفراغ بسرعة ثابتة مقدارها  $3 \times 10^8$  م/ث

مثال ٦ تحرك جسم في خط مستقيم بسرعة منتظمة

وسجلت المسافة التي قطعها هذا الجسم

في أزمنة مختلفة كما بالجدول المقابل :

المسافة (متر)	الزمن (ث)
٥٠	٢٥
٤٠	١٥
٣٠	١٠
٢٠	٥

(١) احسب سرعة الجسم. (٢) ما قيمة كل من (س) ، (ص)

الحل

(١) ∴ الجسم يتحرك بسرعة منتظمة.

$$\therefore \text{السرعة (ع)} = \frac{\text{المسافة}}{\text{الزمن}} = \frac{١٠}{٥} = \frac{٣٠}{١٥} = \frac{٥٠}{٢٥} = ٢ \text{ م/ث}$$

$$(٢) \bullet \text{ المسافة (س)} = \text{السرعة} \times \text{الزمن} = ١٠ \times ٢ = ٢٠ \text{ متر.}$$

$$\bullet \text{ الزمن (ص)} = \frac{\text{المسافة}}{\text{السرعة}} = \frac{٤٠}{٢} = ٢٠ \text{ ثانية.}$$

يصعب عملياً حركة سيارة بسرعة منتظمة.

لأن سرعة السيارة تتغير بحسب أحوال الطريق.

علل

يتحرك القطار بسرعة غير منتظمة.

لأن القطار يقطع مسافات غير متساوية في أزمنة متساوية أو مسافات متساوية في أزمنة غير متساوية.

علل

يتجنب سائقي السيارات تجاوز الحد الأقصى للسرعة المسموح بها على الطريق بمعرفة سرعة السيارة كل لحظة ، وهى ما يُطلق عليها السرعة اللحظية.



## ملحوظة

تزود السيارات والطائرات بمجموعة من العدادات مثل :  
عداد السرعة وعداد المسافة بالإضافة إلى ساعة ضبط الوقت  
وبوصلة تحديد الاتجاهات

عداد السرعة في السيارات والطائرات ذات أهمية كبيرة ؟  
لأنه يستخدم في معرفة مقدار السرعة مباشرة.

علل

## السرعة المتوسطة

يفضل التعبير عن السرعة غير المنتظمة بمصطلح السرعة المتوسطة والتي يرمز لها بالرمز (ع-)  
ويمكن حسابها من العلاقة الرياضية الآتية :

$$\text{السرعة المتوسطة (ع-)} = \frac{\text{المسافة الكلية (ف)}}{\text{الزمن الكلى (ز)}}$$

## السرعة المتوسطة

هى المسافة الكلية التي يقطعها الجسم المتحرك مقسومة على الزمن الكلى المستغرق في قطع هذه المسافة.

السرعة المتوسطة لسيارة ٨٠ كم/س

ما معنى أن ..؟

أى أن المسافة الكلية التي تقطعها السيارة خلال ساعة واحدة تساوى ٨٠ كم



مثال ٧ قطع عداء مسافة ١٠٠ متر جرياً في زمن قدره ١٠ ثانية

ثم عاد إلى نقطة البداية سيراً مستغرقاً ٤٠ ثانية ، احسب :

أ - السرعة المتوسطة للعداء وهو ذاهب.

ب- السرعة المتوسطة للعداء وهو عائد.

ج - السرعة المتوسطة للعداء خلال الرحلة.

الحل

١- السرعة المتوسطة للعداء وهو ذاهب

$$(١-ع) = \frac{ف}{ز} = \frac{١٠٠}{١٠} = ١٠ \text{ م/ث}$$

٢- السرعة المتوسطة للعداء وهو عائد

$$(٢-ع) = \frac{ف}{ز} = \frac{١٠٠}{٤٠} = ٢,٥ \text{ م/ث}$$

٣- السرعة المتوسطة للعداء خلال الرحلة

$$(٣-ع) = \frac{ف}{ز} = \frac{١٠٠ + ١٠٠}{٤٠ + ١٠} = \frac{٢٠٠}{٥٠} = ٤ \text{ م/ث}$$

$$١٠٠ = ف$$

$$١٠ = ز$$

$$١٠٠ = ف$$

$$٤٠ = ز$$

$$(١-ع) = ؟ \text{ م/ث}$$

$$(٢-ع) = ؟ \text{ م/ث}$$

$$(٣-ع) = ؟ \text{ م/ث}$$



**مثال ٩** احسب السرعة المنتظمة لجسم يتحرك في خط مستقيم ليقطع مسافة قدرها ١٥٠ متر خلال ٣٠ ثانية.  
الحل

$$\frac{\text{المسافة (ف)}}{\text{الزمن (ز)}} = \text{السرعة المنتظمة (ع)}$$

$$٥ \text{ م/ث} = \frac{١٥٠}{٣٠} = //$$

**مثال ٨** احسب السرعة المتوسطة لجسم يقطع مسافة قدرها ٢٥ متر خلال ٥ ثانية ثم ٥٠ متر خلال ١٠ ثانية ثم ٧٥ متر خلال ١٥ ثانية.  
الحل

$$\frac{\text{المسافة الكلية (ف)}}{\text{الزمن الكلي (ز)}} = \text{السرعة المتوسطة (ع)}$$

$$٥ \text{ م/ث} = \frac{١٥٠}{٣٠} = \frac{٧٥ + ٥٠ + ٢٥}{١٥ + ١٠ + ٥} = //$$

يتضح من المثالين ٨ ، ٩ أن الجسم قطع نفس المسافة (٥ متر) في نفس الزمن (١ ثانية)

لذا فإنه يمكن اعتبار **السرعة المتوسطة بأنها:** **السرعة المنتظمة** التي لو تحرك بها الجسم لقطع نفس المسافة في نفس الزمن.

أو **السرعة المنتظمة** التي لو تحرك بها الجسم لقطع مسافات متساوية في أزمنة متساوية.

### متى يحدث الأتى....؟

١- تتساوى قيمة السرعة المتوسطة لجسم متحرك مع قيمة سرعته في أي لحظة (ع = -ع) عندما يتحرك الجسم حركة منتظمة (بسرعة منتظمة)

٢- تختلف قيمة السرعة المتوسطة لجسم متحرك عن قيمة سرعته في لحظة (ع ≠ -ع) عندما يتحرك الجسم حركة غير منتظمة (بسرعة غير منتظمة)

### السرعة النسبية

- تقدير كمرآب لسرعة قطار متحرك وأنت واقف على رصيف المحطة (في حالة سكون) ، يختلف عن تقديرك لسرعته وأنت راكب في قطار آخر متحرك (في حالة حركة).

**المراقب** هو الشخص الذي يراقب ويقدر سرعة الأجسام المتحركة. كما تسمى سرعة الأجسام المتحركة بالنسبة له باسم **السرعة النسبية**.

### السرعة النسبية

هي سرعة جسم متحرك بالنسبة لمراقب ساكن أو متحرك.

ما معنى أن ...؟ **السرعة النسبية لسيارة متحركة ١٢٠ كم/س**

أي أن سرعة السيارة بالنسبة لمراقب ما تساوى ١٢٠ كم/س



مراقب ساكن

تختلف السرعة النسبية لجسم متحرك في اتجاه ما تبعاً لاختلاف حالة المراقب واتجاه حركته كما يتضح فيما يلي :

حالة المراقب	السرعة النسبية	مثال توضيحي
١ مراقب ساكن	السرعة النسبية = السرعة الفعلية للجسم (سرعته الحقيقية) " أى أن المراقب الساكن يلاحظ الجسم يتحرك بنفس سرعته الفعلية "	 السرعة النسبية للسيارة = ٩٠ كم/س " السرعة النسبية تساوى السرعة الفعلية "
٢ مراقب متحرك في عكس الاتجاه	السرعة النسبية = السرعة الفعلية للجسم + سرعة المراقب (مجموع السرعتين) ومنه : السرعة الفعلية للجسم = السرعة النسبية - سرعة المراقب	 السرعة النسبية للسيارة = ٩٠ + ٧٠ = ١٦٠ كم/س " السرعة النسبية أكبر من السرعة الفعلية "
٣ مراقب متحرك في نفس الاتجاه وبسرعة مختلفة	السرعة النسبية = السرعة الفعلية للجسم - سرعة المراقب (الفرق بين السرعتين) ومنه : السرعة الفعلية للجسم = السرعة النسبية + سرعة المراقب	 السرعة النسبية للسيارة = ٩٠ - ٧٠ = ٢٠ كم/س " السرعة النسبية أقل من السرعة الفعلية "
٤ مراقب متحرك في نفس الاتجاه وبنفس السرعة	السرعة النسبية = الفرق بين السرعتين = صفر	 السرعة النسبية للسيارة = صفر " يبدو الجسم ساكناً "

متى تكون السرعة النسبية لجسم متحرك ....؟

٢- ضعف سرعته الفعلية.  
عندما يكون المراقب متحركاً في عكس اتجاه حركة الجسم وبنفس سرعته.

١- مساوية للصفر.  
عندما يكون المراقب متحركاً في نفس اتجاه الحركة وبنفس سرعته.

علل ؟

تبدو السيارة المتحركة بسرعة ما لمراقب متحرك بنفس سرعتها وفي نفس اتجاهها وكأنها ساكنة. لأن السرعة النسبية تساوى الفرق بين سرعتيهما (تساوى صفر).

- ١- قطاران يتحركان في نفس الاتجاه فإذا كانت سرعة القطار الأول ٣٠ كم/س وسرعة القطار الثاني ٧٠ كم/س فكم تكون السرعة النسبية للقطار الثاني بالنسبة لمراقب :  
(أ) يقف على الرصيف. (ب) يجلس داخل القطار الأول.

الحل

(أ) السرعة النسبية للقطار الثاني بالنسبة لمراقب يقف على الرصيف :

$$\text{السرعة النسبية} = \text{السرعة الفعلية} = ٧٠ \text{ كم/س}$$

(ب) السرعة النسبية للقطار الثاني بالنسبة لمراقب يجلس داخل القطار الأول :

∴ المراقب يتحرك في نفس اتجاه حركة القطار.

$$\therefore \text{السرعة النسبية} = \text{الفرق بين سرعتين} = ٧٠ - ٣٠ = ٤٠ \text{ كم/س}$$

- ٢- تتحرك سيارتان في عكس الاتجاه الأولى بسرعة ٨٠ كم/س ، والثانية بسرعة ١٠٠ كم/س احسب السرعة النسبية لمراقب يجلس في السيارة الثانية.

الحل

∴ المراقب يتحرك في عكس اتجاه حركة السيارة.

$$\therefore \text{السرعة النسبية} = \text{سرعة الجسم} + \text{سرعة المراقب} = ٨٠ + ١٠٠ = ١٨٠ \text{ كم/س}$$

- ٣- احسب السرعة الفعلية لسيارة تبدو سرعتها ١٦٠ كم/س بالنسبة لمراقب يتحرك في عكس اتجاهها بسرعة ٧٠ كم/س

الحل

∴ المراقب يتحرك في عكس اتجاه حركة السيارة.

$$\therefore \text{السرعة الفعلية للجسم} = \text{السرعة النسبية} - \text{سرعة المراقب} = ١٦٠ - ٧٠ = ٩٠ \text{ كم/س}$$

- ٤- احسب السرعة الفعلية لسيارة تبدو سرعتها ٧٠ كم/س بالنسبة لمراقب يتحرك في نفس اتجاهها بسرعة ٦٠ كم/س

الحل

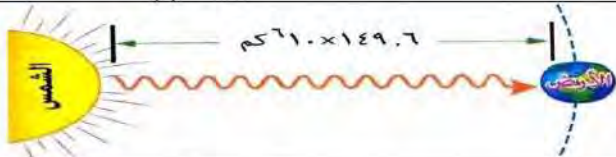
∴ المراقب يتحرك في نفس اتجاه حركة السيارة.

$$\therefore \text{السرعة الفعلية للجسم} = \text{السرعة النسبية} + \text{سرعة المراقب} = ٧٠ + ٦٠ = ١٣٠ \text{ كم/س}$$

### العلم والتكنولوجيا والمجتمع

#### تعيين زمن وصول ضوء الشمس إلى الأرض

تعيين زمن وصول ضوء الشمس إلى الأرض من العلاقة : السرعة (ع) =  $\frac{\text{المسافة (ف)}}{\text{الزمن (ز)}}$



وبمعلومية :

• المسافة بين الأرض و الشمس ( ١٤٩,٦ مليون كم تقريباً ) .

• السرعة المنتظمة للضوء في الفراغ ( ٣٠٠ ألف كم/ث ) .

فان :

#### زمن وصول ضوء الشمس إلى الأرض

$$z = \frac{f}{e} = \frac{١٤٩,٦ \times ١٠^٦}{٣١٠ \times ٣٠٠} = ٤٩٨,٧ \text{ ثانية}$$

$$= ٨ \frac{1}{3} \text{ دقيقة}$$

وذلك يعني انه إذا كان شروق الشمس على الأرض في الساعة السادسة ، فإن ضوء الشمس انطلق قبل هذا التوقيت بثمان دقائق وثلاث تقريباً ، أي في

الساعة الخامسة وواحد وخمسون دقيقة وأربعون ثانية تقريباً.

# الأسئلة

## س ١ أكمل ما يأتي

- ١ - وحدة قياس السرعة ..... بينما وحدة قياس المسافة .....
- ٢ - حاصل ضرب سرعة الجسم المتحرك في الزمن .....
- ٣ - مسار الحركة في اتجاه واحد قد يكون ..... أو ..... أو كلاهما معاً.
- ٤ - خارج قسمة المسافة الكلية التي يقطعها الجسم والزمن الكلي المستغرق لقطع المسافة = .....
- ٥ - العوامل التي تتوقف عليها الحركة ..... و .....
- ٦ - الحركة تكون منتظمة عندما تتساوى ..... و .....
- ٧ - الجسم الذي يقطع مسافة ١٤٤ كيلو متر خلال ساعتين فإن سرعته تساوى ..... كم/س ، وهي تعادل ..... م/ث

## س ٢ اكتب المصطلح العلمي

- ١ - تغير موضع الجسم أو اتجاهه بالنسبة لجسم آخر ثابت بمرور الزمن.
- ٢ - سرعه الجسم المتحرك بالنسبة للمراقب.
- ٣ - السرعة التي يقطع فيها الجسم مسافات غير متساوية في فترات زمنية متساوية.
- ٤ - المسافة المقطوعة خلال وحدة الزمن.
- ٥ - السرعة المنتظمة التي لو تحرك بها الجسم لقطع نفس المسافة في نفس الزمن.
- ٦ - السرعة التي يتحرك بها الجسم عندما يقطع مسافات متساوية في أزمنة متساوية.
- ٧ - الشئ الذي يتحرك بسرعة ثابتة في الفراغ.

## س ٣ علل لما يأتى

- ١- السرعة المنتظمة لسيارة ما يصعب تحقيقها عملياً.
- ٢- تبدو السيارة المتحركة لمراقب ما يتحرك بنفس سرعتها وفى نفس اتجاهها كأنها ساكنة
- ٣- يتحرك المترو بسرعة غير منتظمة.
- ٤- لا يمكن لمراقب متحرك أن يحدد السرعة الفعلية لجسم متحرك بدقة.
- ٥- تختلف السرعة النسبية للجسم المتحرك باختلاف حالة المراقب.
- ٦- لعدادات السرعة فى الطائرات والسيارات أهمية كبرى.
- ٧- تُعتبر حركة القطار من أمثلة الحركة فى اتجاه واحد.

## س ٤ ما المقصود بكل من

- ١- سيارة تتحرك بسرعة منتظمة مقدارها ٦٠ كم/س
- ٢- جسم يتحرك فى خط مستقيم بحيث يقطع ٢٠ متر فى الثانية.
- ٣- سيارة متحركة بحيث تقطع ٢٤٠ كيلو متر فى ٤ ساعات.
- ٤- سرعة جسم تساوى صفر.

١- سيارتان تتحركان في خط مستقيم تقطع السيارة الأولى مسافة ٣٠٠ متر خلال ١٠ ثانية وقطعت الأخرى مسافة ٢٥٠ متر في ٥ ثانية احسب سرعة كل من السيارتين.

٢- يتسابق عداءان مسافة ١٠٠ متر قطعها الأول في ١٠ ثانية والثاني في ٢٠ ثانية أيهما يتحرك بسرعة أكبر.

٣- تسير سيارة بسرعة ٧٠ كم/س فقطعت مسافة ١٤٠ كيلو متر فما هو الزمن الذي استغرقته السيارة لقطع هذه المسافة.

٤- سيارة تتحرك بسرعة ٨٠ كم/س أوجد المسافة المقطوعة خلال نصف دقيقة.

٥- يقطع أحد المتسابقين بدراجته ٣٠٠ متر خلال دقيقة واحدة ، ٤٢٠ متر خلال الدقيقة الثانية احسب :-

(أ) سرعته المتوسطة في الدقيقة الأولى. (ب) سرعته المتوسطة في الدقيقة الثانية.  
(ج) سرعته المتوسطة في الدقيقتين معاً.

٦- تحرك جسم بسرعة متوسطة مقدارها ٢٥ م/ث خلال ٢٠ ثانية ثم تحرك بسرعة متوسطة مقدارها ١٥ م/ث خلال ١٠ ثانية احسب المسافة الكلية التي تحركها الجسم.

٧- استغرق طالب زمناً قدره ( ١٠ دقيقة ) للانتقال من منزله إلى المدرسة متحركاً بسرعة متوسطة مقدارها ٤ م/ث احسب المسافة الكلية التي قطعها الطالب ذهاباً وإياباً بوحدة الكيلو متر.

## س ٦ صوب ما تحته خط

- ١- السرعة النسبية لسيارة متحركة بالنسبة لمراقب ساكن أقل من سرعتها الفعلية.
- ٢- السيارة التي تتحرك بسرعة منتظمة لتقطع مسافة قدرها ٥٠٠ متر في ٢٠ ثانية ، تكون سرعتها  $\frac{2000}{\text{م/ث}}$
- ٣- السرعة النسبية لجسم متحرك بالنسبة لمراقب يتحرك في نفس الاتجاه تساوي مجموع السرعتين.
- ٤- قياس السرعة النسبية لسيارة متحركة يعتمد على أحوال الطريق.
- ٥- سيارة متحركة تقطع مسافة قدرها ٢٠ متر في الثانية الواحدة ، تكون سرعتها  $\frac{90}{\text{كيلومتر/ساعة}}$ .
- ٦- يمكن تحديد مقدار سرعة السيارة مباشرة باستخدام البوصلة.
- ٧- إذا كانت قيمة السرعة تساوي  $(\frac{1f+2f+3f}{1z+2z+3z})$  فهذا يعنى أن السرعة الناتجة هي سرعة متزايدة.

## س ٧ اختر الإجابة الصحيحة من بين الأقواس

- ١- عندما يقطع جسم مسافات متساوية في أزمنة غير متساوية ، فإنه يتحرك .....  
( بسرعة منتظمة - بعجلة منتظمة - بسرعة غير منتظمة - بسرعة صفر )
- ٢- العاملان اللذان يمكن بهما وصف حركة جسم ما ، هما .....  
( السرعة والزمن - المساحة والزمن - المسافة والزمن - الإزاحة والسرعة )
- ٣- السرعة النسبية لجسم متحرك بسرعة ما بالنسبة لمراقب يتحرك بنفس السرعة وفى الاتجاه المضاد تكون ..... السرعة الفعلية.  
( ضعف - نصف - تساوى - ربع )
- ٤- مفهوم الحركة لجسم يعنى .....  
( ثبات موضعه بمرور الزمن - سرعته - تغير موضعه بمرور الزمن - عجلته )
- ٥- جسم متحرك يقطع مسافة ٣٦ كيلو متر فى الساعة تكون سرعته .....  
( ١٠ م - ١٠ سم/ث - ١٠ م/ث - ١٠ م/ث<sup>٢</sup> )
- ٦- إذا تحركت سيارتان فى نفس الاتجاه وبسرعة ١٠٠ كم/س ، فإن سرعة السيارة الأولى كما يقدرها سائق السيارة الثانية تساوى .....  
( صفر - ٥٠ كم/س - ١٠٠ كم/س - ٢٠٠ كم/س )
- ٧- السرعة تساوى .....  
(  $\frac{\text{المسافة}}{\text{الزمن}} - \frac{\text{الزمن}}{\text{المسافة}} - \text{المسافة} + \text{الزمن} - \text{المسافة} \times \text{الزمن}$  )
- ٨- إذا تحركت سيارة ودراجة من نفس الموضع وفى نفس الاتجاه وكانت سرعة السيارة ٥٠ م/ث وسرعة الدراجة ١٠ م/ث فإنه بعد مرور ٤ ثانية تصبح المسافة بينهما ..... متر.  
( ١٠٠ - ٢٠٠ - ١٦٠ - ٦٠ )

## التمثيل البياني الحركة في خط مستقيم

### الدرس الثاني

يستخدم علماء الفيزياء العلاقات والوسائل الرياضية - كالأشكال البيانية والجدول التي يستخدمها علماء الرياضيات ... علل؟

لوصف الظواهر الفيزيائية بطريقة أسهل وللتنبؤ بالعلاقات التي تجمع بين الكميات الفيزيائية المختلفة.

### التمثيل البياني للحركة بسرعة منتظمة

للتعرف على كيفية التمثيل البياني لحركة جسم بسرعة منتظمة ، يمكنك إجراء النشاط التالي :

### نشاط : تمثيل الحركة بسرعة منتظمة بيانياً

#### الأدوات المستخدمة :

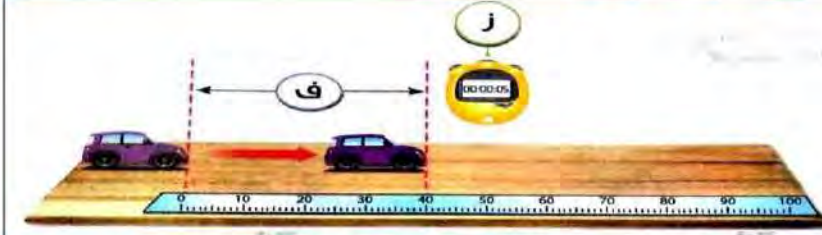
- سيارة لعبة أطفال تعمل بالريموت كنترول.
- لوح خشبي أملس.
- ساعة إيقاف.
- شريط مترى.

#### الخطوات :

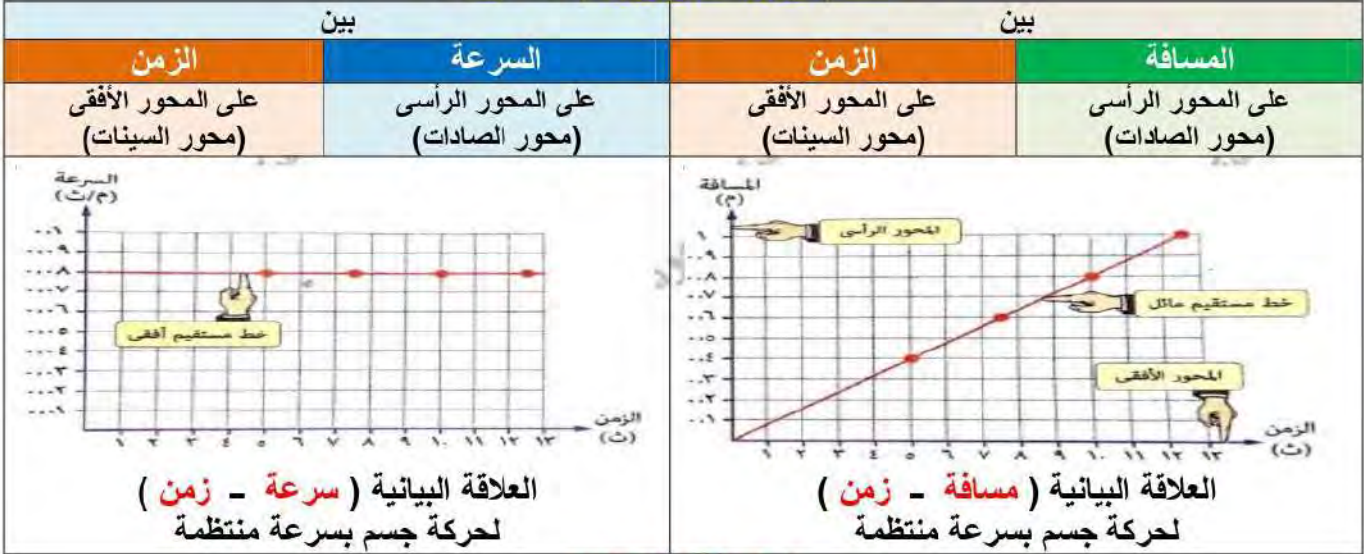
- 1- ضع علامتين على اللوح المسافة بينهما (ف)
- 2- سجل الزمن (ز) الذي تستغرقه السيارة في قطع المسافة (ف).
- 3- كرر الخطواتين السابقتين مع تغيير قيمة (ف) في كل مرة.
- 4- سجل القراءات في جدول ثم احسب

سرعة السيارة في كل مرة من العلاقة :  $\frac{f}{z} = c$

5- استخدم الجدول السابق في رسم علاقة بيانية :



رقم المحاولة	المسافة (ف) متر	الزمن (ز) ثانية	السرعة (ع) متر/ثانية
١	٠,٤	٥	٠,٠٨
٢	٠,٦	٧,٥	٠,٠٨
٣	٠,٨	١٠	٠,٠٨
٤	١	١٢,٥	٠,٠٨



### الملاحظة والاستنتاج

تمثل حركة الجسم بسرعة منتظمة (ثابتة)

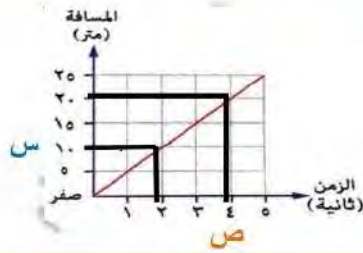
في

العلاقة البيانية  
(سرعة - زمن)  
على هيئة  
خط مستقيم أفقى موازى لمحور الزمن  
(المحور السينى) ... علل؟  
لأن السرعة تظل ثابتة  
بمرور الزمن

العلاقة البيانية  
(مسافة - زمن)  
على هيئة  
خط مستقيم مائل يمر بنقطة الأصل  
(نقطة التقاء المحورين) ... علل؟  
لأن المسافة تتناسب طردياً مع الزمن  
عند حركة الجسم بسرعة ثابتة



المسافة (متر)	٢٥	٢٠	١٥	٥	س
الزمن (ث)	٥	ص	٣	٢	١



## مثال ١ الجدول التالي يوضح العلاقة بين

المسافة والزمن لجسم متحرك :

١- مثل العلاقة (مسافة - زمن) بيانياً.

٢- من الشكل البياني ، أوجد :-

(أ) نوع السرعة التي يتحرك بها الجسم.

(ب) مقدار قيمة (س) ، (ص).

الحل

١- العلاقة البيانية :

٢- (أ) سرعة منتظمة.

(ب) قيمة (س) مسافة = ١٠ متر

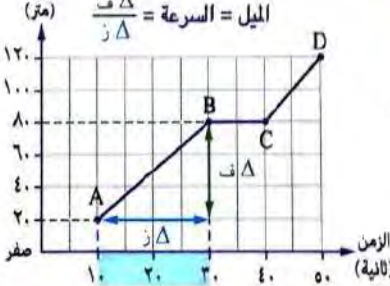
قيمة (ص) زمن = ٤ ثانية

## ملحوظة

المسافة

تمثل العلاقة البيانية (مسافة - زمن) لجسم ساكن على هيئة خط مستقيم أفقى موازى لمحور الزمن (محور السينات)

المسافة



## كيفية حساب سرعة جسم من شكل بياني

لحساب سرعة جسم خلال فترة زمنية معينة (ولتكن AB) من شكل بياني لا بد من تعيين كل من المسافة التي قطعها الجسم والزمن المستغرق لقطع هذه المسافة.

• المسافة المقطوعة (Δ ف) = ٢٠ - ٨٠ = ٦٠ متر

• الزمن المستغرق (Δ ز) = ١٠ - ٣٠ = ٢٠ ثانية

∴ السرعة (ع) = ميل الخط المستقيم =  $\frac{\text{المسافة } (\Delta \text{ ف})}{\text{الزمن } (\Delta \text{ ز})} = \frac{٦٠}{٢٠} = ٣ \text{ م/ث}$



للاطلاع فقط اشتق اسم دلتا النيل من شكلها الذى يشبه حرف دلتا المقلوب

## الحرف اليونانى Δ

يقراً دلتا ويعبر عن التغير فى مقدار أى كمية فيزيائية

## مثال ١ الشكل البياني المقابل يعبر عن حركة دراجة

خلال ثلاث فترات (AB) ، (BC) ، (CD)

١- احسب السرعة المتوسطة للدراجة خلال الرحلة.

٢- ما الفترة التي توقفت فيها الدراجة ؟ وما زمن التوقف ؟

٣- ما الفترات التي تحركت فيها الدراجة بسرعة منتظمة ؟

وما الفترة التي كانت فيها السرعة المنتظمة أكبر ما يمكن ؟

الحل

١- السرعة المتوسطة (ع) =  $\frac{\text{المسافة الكلية (ف)}}{\text{الزمن الكلى (ز)}} = \frac{٥٠}{٥} = ١٠ \text{ كم/س}$

٢- فترة التوقف : BC ، زمن التوقف = ٤ - ٢ = ٢ ساعة

٣- الفترات التي تحركت فيها الدراجة بسرعة منتظمة :

الفترة AB ، الفترة CD

٤- الفترة التي كانت فيها السرعة المنتظمة أكبر ما يمكن :

السرعة فى الفترة AB =  $\frac{\text{المسافة الكلية (ف)}}{\text{الزمن الكلى (ز)}} = \frac{٢٠ - ٠}{٢ - ٠} = ١٠ \text{ كم/س}$

السرعة فى الفترة CD =  $\frac{\text{المسافة الكلية (ف)}}{\text{الزمن الكلى (ز)}} = \frac{٢٠ - ٥٠}{٤ - ٥} = ٣٠ \text{ كم/س}$

السرعة المنتظمة أكبر ما يمكن فى الفترة CD

## ملحوظة

تمثل العلاقة البيانية (مسافة - زمن) لحركة جسم بسرعة غير منتظمة على هيئة خط منحنى يمر بنقطة الأصل.



علمت من الدرس السابق أنه يصعب عملياً حركة السيارة بسرعة منتظمة حيث أن سرعتها تتغير (بالزيادة أو النقصان) تبعاً لأحوال الطريق



وتوصف حركة السيارة في هذه الحالة بالحركة المعجلة ويقال أن السيارة تتحرك بعجلة

**الحركة المعجلة** هي الحركة التي تتغير فيها سرعة الجسم المتحرك بالزيادة أو النقصان بمرور الزمن.

**العجلة** هي مقدار التغير في السرعة خلال وحدة الزمن. أو المعدل الزمني للتغير في السرعة.

ويمكن تقدير العجلة (ج) التي يتحرك بها جسم بمعلومية :

- مقدار التغير في سرعة جسم ( $\Delta ع$ )
- الفترة الزمنية التي حدث فيها التغير ( $\Delta ز$ )

**باستخدام العلاقة الرياضية الآتية :**

$$\text{العجلة (ج)} = \frac{\text{مقدار التغير في السرعة } (\Delta ع)}{\text{الفترة الزمنية التي حدث فيها التغير } (\Delta ز)}$$

$$\text{العجلة (ج)} = \frac{\text{السرعة النهائية } (ع) - \text{السرعة الابتدائية } (ع)}{\text{الفترة الزمنية } (\Delta ز)}$$

$$\text{وحدة قياس العجلة} = \frac{\text{وحدة قياس السرعة}}{\text{وحدة قياس الزمن}} = \frac{\frac{\text{م}}{\text{ثانية}}}{\text{ثانية}} = \frac{\text{م}}{\text{ثانية}^2} = \frac{\text{متر}}{\text{ثانية}^2} = \text{م/ث}^2$$

إرشادات خاصة : لحل مسائل العجلة

١- لحساب كل من العجلة والتغير في السرعة والفترة الزمنية ، نستخدم العلاقات التالية

لحساب العجلة	لحساب التغير في السرعة	لحساب الفترة الزمنية
$\frac{\Delta ع}{\Delta ز} = ج$	$\Delta ع \times ج = \Delta ز$ $\Delta ع \times ج = ١٤ - ٢٤$ <p>ومنها</p> $١٤ + (ج \times \Delta ز) = ٢٤$ $(ج \times \Delta ز) - ٢٤ = ١٤$	$\frac{١٤ - ٢٤}{ج} = \frac{\Delta ع}{\Delta ز}$

٢- عندما	يتحرك الجسم بسرعة منتظمة	فإن	عجلة حركته تكون مساوية صفر ... <b>علل؟</b> لأن سرعته لا تتغير بمرور الزمن ( $\Delta ع = صفر$ ).
٣- عندما	يبدأ الجسم حركته من السكون	فإن	السرعة الابتدائية (١ع) تساوى صفر.
٤- عندما	يتوقف الجسم المتحرك عن الحركة أو يضغط سائق السيارة على الفرامل (الكابح)	فإن	السرعة النهائية (٢ع) تساوى صفر.

**مثال ٣** احسب العجلة التي تتحرك بها اتوبيس إذا تغيرت سرعتها من ٦ م/ث إلى ١٢ م/ث خلال ٣ ثانية.

الحل

$$\begin{aligned} ج &= ؟ \text{ م/ث}^2 \\ ١ع &= ٦ \text{ م/ث} \\ ٢ع &= ١٢ \text{ م/ث} \\ \Delta ز &= ٣ \text{ ث} \end{aligned}$$

$$\begin{aligned} \text{العجلة (ج)} &= \frac{\text{مقدار التغير في السرعة (ع\Delta)}}{\text{الفترة الزمنية التي حدث فيها التغير (\Delta ز)}} = \frac{١٢ - ٦}{٣} \\ &= \frac{٦}{٣} = ٢ \text{ م/ث}^2 // \end{aligned}$$

**مثال ٤** سيارة كانت تتحرك بعجلة مقدارها ٢,٥ م/ث<sup>٢</sup> احسب مقدار التغير في سرعتها في زمن قدره ١٠ ثانية.

$$\begin{aligned} ج &= ٢,٥ \text{ م/ث}^2 \\ ع\Delta &= ؟ \text{ م/ث} \\ \Delta ز &= ١٠ \text{ ث} \end{aligned}$$

الحل

$$\begin{aligned} \text{التغير في السرعة (ع\Delta)} &= \text{العجلة (ج)} \times \text{الفترة الزمنية (\Delta ز)} \\ &= ٢,٥ \times ١٠ = ٢٥ \text{ م/ث} // \end{aligned}$$

**مثال ٥** جسم يتحرك بسرعة ابتدائية مقدارها ١٠ م/ث ، احسب مقدار الفترة الزمنية التي تصبح بعدها سرعته النهائية أربعة أمثال سرعته الابتدائية ، علماً بأنه يتحرك بعجلة مقدارها ٢ م/ث<sup>٢</sup>

$$\begin{aligned} ١ع &= ١٠ \text{ م/ث} \\ ٢ع &= ؟ \text{ م/ث} \\ ج &= ٢ \text{ م/ث}^2 \\ \Delta ز &= ؟ \text{ ث} \end{aligned}$$

الحل

$$\begin{aligned} ١ع &= ١٠ \text{ م/ث} \\ ٢ع &= ٤٠ \text{ م/ث} \\ \Delta ز &= \frac{١ع - ٢ع}{ج} = \frac{١٠ - ٤٠}{٢} = -١٥ \text{ ثانية} \end{aligned}$$

### العجلة المنتظمة

علمت أنه عندما تقطع سيارة مسافات متساوية في أزمنة متساوية، يقال أنها تتحرك بسرعة منتظمة ، أما عندما تتغير سرعتها (بالزيادة أو النقصان) بمقادير متساوية في أزمنة متساوية، يقال أنها تتحرك بعجلة منتظمة.

**العجلة المنتظمة** هي العجلة التي يتحرك بها جسم عندما تتغير سرعته بمقادير متساوية في أزمنة متساوية.

**ما معنى أن ...؟** جسم يتحرك بعجلة منتظمة مقدارها ٢٥ م/ث<sup>٢</sup> أي أن سرعة الجسم تتغير بمقدار ٢٥ م/ث كل ثانية.

يمكن وصف العجلة المنتظمة بأنها

عجلة منتظمة سالبة

أو

عجلة منتظمة موجبة

فما الفرق بين المفهومين ...؟

إذا افترضنا أن

جسم B

تحرك بسرعة ٥٠ م/ث  
وتناقصت سرعته بانتظام  
إلى أن توقف عن الحركة

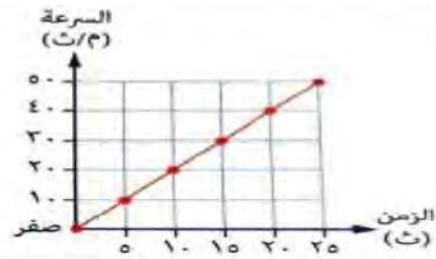
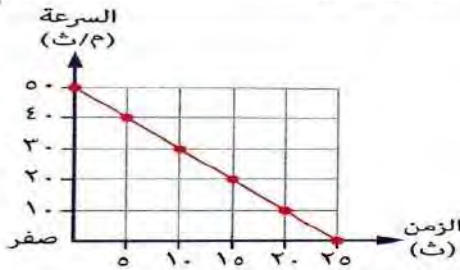
جسم A

بدأ حركته من السكون  
وتزايدت سرعته بانتظام  
إلى أن وصلت ٥٠ م/ث

وسجلت السرعة كل ٥ ثانية في جدول، كالتالي :

الزمن (ث)	السرعة (م/ث)	الزمن (ث)	السرعة (م/ث)
٢٥	٥٠	٢٥	٥٠
٢٠	٤٠	٢٠	٤٠
١٥	٣٠	١٥	٣٠
١٠	٢٠	١٠	٢٠
٥	١٠	٥	١٠
صفر	٠	صفر	٠

فإنه يمكن تمثيل القيم السابقة بالشكل البياني التالي



ومنه نستنتج أن

السرعة الابتدائية

$$١٤ = ٥٠ \text{ م/ث}$$

$$١٤ = \text{صفر}$$

السرعة النهائية

$$٢٤ = \text{صفر}$$

$$٥٠ \text{ م/ث} = ٢٤$$

الفترة الزمنية

$$\Delta t = ٢٥ \text{ ث}$$

$$\Delta t = ٢٥ \text{ ث}$$

العجلة

$$ج = \frac{١٤ - ٢٤}{٢٥} = \frac{٥٠ - \text{صفر}}{٢٥} = -٢ \text{ م/ث}^٢$$

حيث تشير العلامة - إلى أن سرعة الجسم  
تتناقص بانتظام بمعدل ٢ م/ث كل ثانية

$$ج = \frac{١٤ - ٢٤}{٢٥} = \frac{٥٠ - \text{صفر}}{٢٥} = ٢ \text{ م/ث}^٢$$

حيث تشير العلامة + إلى أن سرعة الجسم  
تتزايد بانتظام بمعدل ٢ م/ث كل ثانية

لذا يقال

الجسم B يتحرك بعجلة منتظمة سالبة  
"سرعة النهائية > سرعته الابتدائية"العجلة المنتظمة السالبةهي العجلة التي يتحرك بها جسم عندما تتناقص  
سرعته بمقادير متساوية في أزمنة متساويةالجسم A يتحرك بعجلة منتظمة موجبة  
"سرعة النهائية < سرعته الابتدائية"العجلة المنتظمة الموجبةهي العجلة التي يتحرك بها جسم عندما تتزايد  
سرعته بمقادير متساوية في أزمنة متساوية

ما معنى أن ...؟

سيارة تتحرك بعجلة منتظمة تساوي - ٤ م/ث<sup>٢</sup>قطار يتحرك بعجلة منتظمة موجبة مقدارها ٥ م/ث<sup>٢</sup>

أي أن

سرعة السيارة تتناقص بمقدار ٤ م/ث كل ثانية

سرعة القطار تتزايد بمقدار ٥ م/ث كل ثانية

متى تكون ...؟ مع التوضيح بالرسم

العجلة منتظمة موجبة

العجلة منتظمة سالبة

العجلة تساوى صفر

عندما تكون

السرعة النهائية  
=  
السرعة الابتدائية  
(سرعة منتظمة)

السرعة النهائية  
>  
السرعة الابتدائية  
(سرعة غير منتظمة)

السرعة النهائية  
<  
السرعة الابتدائية  
(سرعة غير منتظمة)

الشكل البياني



العلاقة البيانية (سرعة - زمن)  
لحركة جسم  
بعجلة صفر

العلاقة البيانية (سرعة - زمن)  
لحركة جسم  
بعجلة منتظمة سالبة

العلاقة البيانية (سرعة - زمن)  
لحركة جسم  
بعجلة منتظمة موجبة

سيارة بدأت حركتها من السكون وفي خلال ١٠ ثانية وصلت سرعتها

مثال ١

إلى ٣٥ م/ث احسب مقدار العجلة وما نوعها.

الحل

$$\begin{aligned} ١٤ &= \text{ع} \\ ٢٤ &= ٣٥ \text{ م/ث} \\ ١٠ &= \Delta z \end{aligned}$$

$$\text{العجلة (ج)} = \frac{١٤ - ٢٤}{١٠} = \frac{٠ - ٣٥}{١٠} = ٣,٥ \text{ م/ث}^2 \text{ (تتحرك السيارة بعجلة منتظمة موجبة)}$$

سيارة كانت تتحرك بسرعة ٢٠ م/ث وعندما ضغط السائق على الفرامل توقفت

مثال ٢

خلال ٥ ثانية احسب العجلة التي تتحرك بها السيارة وبين نوعها.

الحل

$$\begin{aligned} ١٤ &= ٢٠ \text{ م/ث} \\ ٢٤ &= \text{ع} \\ ٥ &= \Delta z \end{aligned}$$

$$\text{العجلة (ج)} = \frac{١٤ - ٢٤}{٥} = \frac{٢٠ - ٠}{٥} = -٤ \text{ م/ث}^2 \text{ (تتحرك السيارة بعجلة منتظمة سالبة)}$$

سيارة كانت تتحرك بسرعة ٤٠ م/ث وعندما استخدم السائق الفرامل تناقصت

مثال ٣

سرعتها بمعدل ٢ م/ث<sup>٢</sup>، احسب سرعتها بعد مرور ١٢ ثانية من لحظة

الضغط على الفرامل.

الحل

$$\begin{aligned} ١٤ &= ٤٠ \text{ م/ث} \\ ٢٤ &= ? \text{ م/ث} \\ ٢ &= \Delta z \text{ م/ث}^2 \\ ١٢ &= \Delta z \end{aligned}$$

∴ سرعة السيارة تناقصت. ∴ العجلة منتظمة سالبة. ∴ ج = -٢ م/ث<sup>٢</sup>









التغير في السرعة (عΔ) = العجلة (ج) × الفترة الزمنية (Δz)

$$١٤ - ٢٤ = ج \times \Delta z$$




$$١٤ + (ج \times \Delta z) = ٢٤$$

$$٢٤ = ٤٠ + (١٢ \times ٢) = ١٦ \text{ م/ث}$$

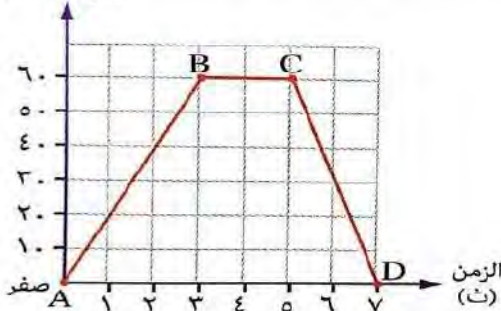
أ- التعبير عن بعض حالات الجسم بالعلاقة البيانية (مسافة - زمن) والعلاقة البيانية (سرعة - زمن):

العلاقة البيانية (سرعة - زمن)		العلاقة البيانية (مسافة - زمن)	حالة الجسم
	تمثل بخط مستقيم منطبق على المحور الأفقي (محور الزمن)		جسم في حالة سكون (السرعة = صفر)
			حركة جسم بسرعة منتظمة (العجلة = صفر)
	عجلة منتظمة سالبة		حركة جسم بسرعة غير منتظمة (حركة معجلة)
	عجلة منتظمة موجبة		

ب- وصف حالة الجسم من بعض العلاقات البيانية المركبة:

العلاقة البيانية	العلاقة البيانية	العلاقة البيانية
		
وصف حالة الجسم	وصف حالة الجسم	وصف حالة الجسم
جسم تحرك بسرعة منتظمة (بعجلة = صفر) لفترة زمنية ثم تحرك بعجلة سالبة حتى توقف عن الحركة	جسم تحرك بعجلة منتظمة موجبة لفترة زمنية ثم تحرك بسرعة منتظمة (بعجلة = صفر)	جسم تحرك بسرعة منتظمة (بعجلة = صفر) لفترة زمنية ثم توقف عن الحركة

السرعة (م/ث)



من الشكل البياني المقابل:

صف حركة الجسم

في الفترات

(AB) ، (BC) ، (CD)

الحل

مثال ٤

• الفترة (AB) تحرك الجسم بعجلة منتظمة موجبة مقدارها ج =  $\frac{١٤-٢٤}{\Delta z} = \frac{٦٠-٠}{٣-٠} = ٢٠$  م/ث<sup>٢</sup>

• الفترة (BC) تحرك الجسم بسرعة منتظمة مقدارها ٦٠ م/ث أي بعجلة مقدارها صفر.

• الفترة (CD) تحرك الجسم بعجلة منتظمة سالبة مقدارها ج =  $\frac{١٤-٢٤}{\Delta z} = \frac{٠-٦٠}{٥-٧} = -٣٠$  م/ث<sup>٢</sup>

حتى توقف تماماً عن الحركة عند النقطة D

# الأسئلة

## س ١ أكمل ما يأتي

- ١- العجلة المنتظمة قد تكون ..... أو .....
- ٢- عندما يتحرك الجسم بعجلة منتظمة موجبة فإن سرعته ..... أكبر من سرعته .....
- ٣- التغير في السرعة = ..... × .....
- ٤- تمثل حركة الجسم بسرعة منتظمة في العلاقة البيانية (سرعة - زمن) بخط ..... موازى لمحور .....
- ٥- عندما تقدر المسافة بالمتر والزمن بالثانية تكون وحدة قياس السرعة ..... ووحدة قياس العجلة .....
- ٦- عندما يبدأ جسم حركته من السكون فإن سرعته الابتدائية تساوى ..... ويتحرك بعجلة منتظمة .....
- ٧- المعدل الزمني للتغير في المسافة هو ..... بينما المعدل الزمني للتغير في السرعة هو .....
- ٨- إذا بدأ جسم حركته من السكون بعجلة منتظمة ٢ م/ث<sup>٢</sup> فإن سرعته النهائية تساوى ..... بعد ٥ ثانية

## س ٢ علل لما يأتي

- ١- الجسم الذى يتحرك بعجلة لا يمكن أن يكون متحركاً بسرعة منتظمة.
- ٢- العلاقة البيانية (مسافة - زمن) لجسم متحرك تمثل بخط مستقيم مائل يمر بنقطة الأصل.
- ٣- الجسم الذى يتحرك بسرعة منتظمة تكون قيمة عجلته صفر.
- ٤- العلاقة البيانية (سرعة - زمن) لجسم متحرك تمثل بخط مستقيم أفقى موازى لمحور الزمن.
- ٥- وحدة قياس العجلة م/ث<sup>٢</sup>




## س ٣ اكتب المصطلح العلمي

- ١- مقدار التغير في سرعة الجسم في الثانية الواحدة.
- ٢- العجلة التي يتحرك بها جسم عندما تتزايد سرعته بمقادير متساوية في أزمنة متساوية.
- ٣- الحركة التي تتغير فيها سرعة الجسم المتحرك بمرور الزمن.
- ٤- تغير سرعة الجسم (بالزيادة أو النقصان) بمقادير متساوية في أزمنة متساوية.
- ٥- وحدة قياس العجلة.
- ٦- العجلة التي يتحرك بها جسم عندما تتناقص سرعته بمرور الزمن.

## س ٤ متى تكون القيم التالية مساوية للصفر

- ١- السرعة الابتدائية لجسم.
- ٢- مقدار العجلة التي يتحرك بها جسم ما.
- ٣- السرعة النهائية لجسم متحرك.

## س ٥ صف كل علاقة من العلاقات البيانية الآتية :

 <p>السرعة</p> <p>الزمن</p>	 <p>السرعة</p> <p>الزمن</p>	 <p>المسافة</p> <p>الزمن</p>	 <p>السرعة</p> <p>الزمن</p>
شكل (٤)	شكل (٣)	شكل (٢)	شكل (١)



## س ٦ مسائل متنوعة

١- سيارة كانت بسرعة ٧٢ كم/س وعندما ضغط السائق على الفرامل توقفت بعد ٨ ثانية احسب مقدار العجلة مع ذكر نوعها.

٢- احسب مقدار العجلة التي يتحرك بها أتوبيس إذا تغيرت سرعته من ٦ م/ث إلى ١٢ م/ث خلال ٣ ثانية.

٣- تحركت سيارة من السكون فوصلت سرعتها ٩٠ كم/س بعد ١٠ ثانية احسب العجلة مع ذكر نوعها.

٤- سيارة كانت تتحرك بسرعة ٥٠ م/ث وعند استخدام الفرامل اكتسبت عجلة منتظمة تناقصية مقدارها ٢ م/ث<sup>٢</sup> احسب الزمن اللازم لتوقفها.

٥- سيارة كانت تتحرك بسرعة ٨٠ م/ث وعندما استخدم السائق الفرامل تناقصت سرعتها بمعدل ٢ م/ث<sup>٢</sup> احسب سرعتها بعد مرور ١٢ ثانية من لحظة الضغط على الفرامل.

## س ٧ صوب ما تحته خط

- ١- عندما يتحرك جسم بعجلة تناقصية مقدارها ٣ م/ث<sup>٢</sup> فهذا يعنى أن سرعته الابتدائية أقل من سرعته النهائية.
- ٢- الجسم الذى يتحرك بسرعة منتظمة مقدارها ١٠ م/ث لمدة ٢ ثانية يكون مقدار عجلة حركته ١٠ م/ث<sup>٢</sup>.
- ٣- السيارة التى تبدأ حركتها من السكون تتحرك بسرعة منتظمة.
- ٤- عندما يتحرك جسم بسرعة منتظمة ، فإن المسافة التى يقطعها تتناسب عكسياً مع الزمن اللازم لقطع هذه المسافة.
- ٥- السرعة المتوسطة تعنى أن سرعة الجسم تتغير بمقادير متساوية فى أزمنة متساوية.
- ٦- عندما يتحرك الجسم بعجلة مقدارها صفر ، فإن سرعته تكون متغيرة.
- ٧- عندما يقطع الجسم مسافات متساوية فى أزمنة متساوية ، فهذا يعنى أن الجسم يتحرك بعجلة سالبة.

## س ٨ اختر الإجابة الصحيحة من بين الأقواس

- ١- وحدة قياس العجلة .....  
( م/ث - م.ث<sup>٢</sup> - م/ث<sup>٢</sup> - كم/س )
- ٢- النسبة بين السرعة الابتدائية والسرعة النهائية لجسم يتحرك بعجلة سالبة .....  
( أكبر من الواحد - أقل من الواحد - تساوى واحد - تساوى صفر )
- ٣- عندما يتحرك الجسم من السكون بعجلة منتظمة ، فإن سرعته النهائية تتعين من العلاقة .....  
(  $\frac{v}{\Delta t} - \frac{f}{\Delta t} - j \times \Delta z - \frac{14}{\Delta z}$  )
- ٤- عندما تكون السرعة الابتدائية لجسم ما تساوى صفر ، فهذا يعنى أن الجسم .....  
( بدأ حركته من السكون - توقف عن الحركة - تحرك بعجلة سالبة - تحرك فى مسار دائرى )
- ٥- استغرقت سيارة ٤ ثوان لتصل سرعتها إلى تسعة أمثال سرعتها الابتدائية ، فإن السيارة تتحرك بعجلة قيمتها العددية تساوى ..... سرعتها الابتدائية.  
( ربع - نصف - ثلاثة أمثال - ضعف )
- ٦- الجدول المقابل يوضح حركة جسم .....  

٨	٦	٤	٢	صفر	السرعة (م/ث)
٤	٣	٢	١	صفر	الزمن (ث)

- ( بسرعة منتظمة - بعجلة منتظمة سالبة - بعجلة منتظمة موجبة - لا توجد إجابة صحيحة )
- ٧- استغرقت سيارة زمناً قدره ٤ ثانية ، لتزداد سرعتها من ١٠ م/ث إلى ٢٠ م/ث فإن مقدار عجلة حركتها خلال تلك الفترة تساوى ..... م/ث<sup>٢</sup>  
( ٣ - ٢,٥ - ٤ - ٦ )
- ٨- العلاقة البيانية (سرعة - زمن) للحركة بسرعة ثابتة يمثلها خط مستقيم .....  
( يوازى محور الصادات - يمر بنقطة الأصل - يوازى محور السينات - لا توجد إجابة صحيحة )

# الكميات الفيزيائية القياسية و المتجهة

## الدرس الثالث

يهتم **علماء الفيزياء** بوصف وتفسير الظواهر الفيزيائية (**الطبيعية**) وذلك بالتعامل مع الكميات الفيزيائية (مثل المسافة والزمن والسرعة والعجلة وغيرها ....)

### عن طريق

- استنباط علاقات رياضية تربط بينها.
- تحديد وحدة قياس مميزة لكل منها.

### أنواع الكميات الفيزيائية

أولاً الكميات الفيزيائية القياسية	ثانياً الكميات الفيزيائية المتجهة
الكمية القياسية هي كمية فيزيائية يكفي لتحديد مقدارها فقط.	الكمية المتجهة هي كمية فيزيائية يلزم لتحديد مقدارها واتجاهها.

### أمثلة

الكمية القياسية	وحدة قياسها	الكمية المتجهة	وحدة قياسها	الاتجاهات الرئيسية
١- الطول / المسافة	م	١- الإزاحة	م	شمال
٢- الزمن	ث	٢- السرعة المتجهة	م/ث	شمال شرق
٣- الكتلة	كجم	٣- العجلة	م/ث <sup>٢</sup>	شرق
٤- السرعة القياسية	م/ث	٤- القوة		جنوب شرق
٥- المساحة		٥- الضغط		جنوب
٦- الكثافة		٦- سرعة الرياح		جنوب غرب

### ما معنى أن ...؟

● <b>الكتلة والزمن كميات فيزيائية قياسية.</b> أي أنه يكفي لتحديد مقدارهم فقط	● <b>العجلة والقوة كميات فيزيائية متجهة.</b> أي أنه يلزم لتحديد مقدارهم واتجاههم
---	---

### للاطلاع فقط

تخضع جميع الكميات الفيزيائية القياسية للعمليات الجبرية الحسابية أي أنها تجمع وتطرح إذا كان لها نفس وحدات القياس بينما يختص علم المتجهات بدراسة عمليات جمع وطرح الكميات الفيزيائية المتجهة

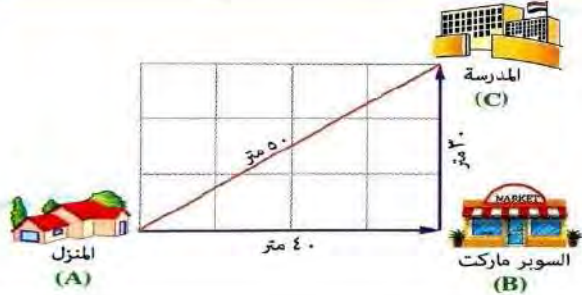
### أداء ذاتي أكمل الفراغات أسفل كل شكل من الأشكال التالية :

الشكل الأول	الشكل الثاني	الشكل الثالث
 <p>طول القلم ٩ سم كمية ..... لأنه يكفي لتحديد معرفته .....</p>	 <p>سرعة الرياح ٣٥ كم/س في اتجاه الشرق كمية ..... لأنه يلزم لتحديد معرفته ..... و .....</p>	 <p>كتلة الشخص ١٠٠ كجم كمية .....</p>

هناك بعض الكميات الفيزيائية التي قد تبدو للوهلة الأولى أنها متشابهة ،  
إلا أنها تختلف في مفهومها اختلافاً كبيراً ، مثل :

**أولاً : المسافة و الإزاحة .** **ثانياً : السرعة القياسية و السرعة المتجهة .**

**أولاً : المسافة و الإزاحة**



لمعرفة الفرق بين **المسافة (ف)** و **الإزاحة (ف)**

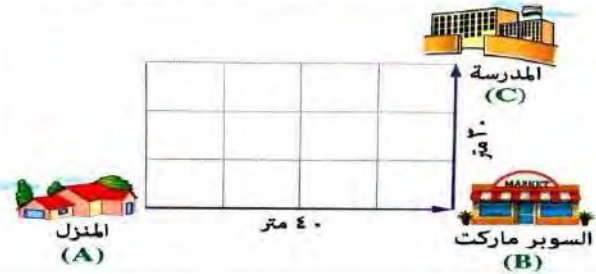
قم بدراسة الشكل المقابل ،

والذي يعبر عن مسار تلميذ يبدأ حركته من المنزل (النقطة A)

حتى يصل إلى المدرسة (النقطة C)

مروراً بالسوبر ماركت (النقطة B)

ومنه يتضح أن



- التلميذ أصبح على بُعد AC من النقطة A أي على بُعد ٥٠ متر شمال شرق موضع بداية الحركة.
- وتسمى الكمية المتجهة ( ٥٠ متر شمال شرق ) بالإزاحة (ف) ويُعرف مقدارها (٥٠ متر) بمقدار الإزاحة.

- المسار الفعلي الذي قطعه التلميذ من موضع بداية الحركة حتى موضع نهاية الحركة
- وتسمى الكمية القياسية (٧٠ متر) بالمسافة (ف)

### الإزاحة

هي المسافة المقطوعة في اتجاه ثابت (واحد) من موضع بداية الحركة نحو الموضع النهائي لها.

### مقدار الإزاحة

هو طول أقصر خط مستقيم بين موضعي بداية ونهاية الحركة

### المسافة

هي طول المسار الفعلي الذي يسلكه الجسم المتحرك من موضع بداية الحركة إلى الموضع النهائي لها

ما معنى أن ... ؟

☑ إزاحة جسم تساوي ٢٥ متر شمالاً .

أي أنه

المسافة المقطوعة في اتجاه الشمال من موضع بداية الحركة نحو الموضع النهائي لها تساوي ٢٥ متر

☑ المسافة التي قطعها جسم تساوي ٣٠ متر .

أي أنه

طول المسار الفعلي الذي سلكه الجسم المتحرك من موضع بداية الحركة إلى الموضع النهائي لها يساوي ٣٠ متر

علل ؟



☑ تعتبر الإزاحة كمية فيزيائية متجهة .

لأنه يلزم لتحديد معرفتها مقدارها واتجاهها .








☑ تعتبر المسافة كمية فيزيائية قياسية .

لأنه يكفي لتحديد معرفتها مقدارها فقط .

تطبيق ١ : الشكل التالي يوضح مسارين مختلفين لرحلة بالسيارة من مدينة القاهرة (الموضع الابتدائي) إلى مدينة طنطا (الموضع النهائي)

المسار الأول	المسار الثاني
القاهرة - بنها - طنطا	القاهرة - الزقازيق - طنطا
	
المسافة (ف)	
ف = ١٠٥ = ٦٠ + ٤٥ كم	ف = ١٦٥ = ٨٥ + ٨٠ كم
الإزاحة (ف)	
الإزاحة الحادثة للسيارة من القاهرة إلى طنطا	
(ف) = ٩٣ كم في اتجاه الشمال الغربي	
وبشكل عام تختلف المسافة باختلاف مسار الرحلة ، بينما تظل الإزاحة ثابتة	

إرشادات خاصة لحل مسائل المسافة والإزاحة في خط مستقيم

الإزاحة المقطوعة (ف)	المسافة المقطوعة (ف)	الشكل التوضيحي	إذا تحرك الجسم في
$\overleftarrow{f} = \overleftarrow{p}$ في اتجاه الغرب	$\overline{f} = \overline{p}$		خط مستقيم واتجاه ثابت من ( P إلى B )
$\overleftarrow{f} = \overleftarrow{p} + \overleftarrow{h}$ $\overleftarrow{f} = \overleftarrow{p} - \overleftarrow{h}$ في اتجاه الغرب	$\overline{f} = \overline{p} + \overline{h}$		اتجاهين متضادين من ( P إلى B ) ثم من ( B إلى C )
$\overleftarrow{f} = \overleftarrow{p}$ $\sqrt{(\overleftarrow{p})^2 + (\overleftarrow{h})^2}$ = في اتجاه الجنوب الغربي (طبقاً لنظرية فيثاغورث)	$\overline{f} = \overline{p} + \overline{h}$		اتجاهين متعامدين من ( P إلى B ) ثم من ( B إلى C )
$\overleftarrow{f} = \overleftarrow{p}$ في اتجاه الجنوب	$\overline{f} = \overline{p} + \overline{h} + \overline{s}$		ثلاث اتجاهات متعامدة من ( P إلى B ) ثم من ( B إلى C ) ثم من ( C إلى S )
$\overleftarrow{f} = \overleftarrow{p}$	$\overline{f} = (\overline{p})^2$		أكثر من اتجاه
$\overleftarrow{f} = \text{صفر}$	$\overline{f} = \overline{p} + \overline{h} + \overline{s}$		ثم عاد لنقطة البداية مرة أخرى
	$\overline{f} = \overline{p} + \overline{h} + \overline{s}$		من ( P إلى ..... إلى P )



١- يتطابق مقدار الإزاحة الحادثة مع مقدار المسافة المقطوعة.  
عندما يتحرك الجسم في اتجاه واحد في خط مستقيم.

٢- تكون الإزاحة الحادثة لجسم متحرك مساوية للصفر.

عندما يعود الجسم إلى موضع بداية الحركة أى يكون الموضع النهائى للحركة هو نفس الموضع الابتدائى لها.



٣- يكون مقدار الإزاحة الحادثة أقل من المسافة المقطوعة.

عندما يتحرك الجسم في مسار منحنى  
(أو أى مسار لا يمثل خط مستقيم).

٤- تتساوى الإزاحة التى يحدثها جسمين مختلفين.

عندما يكون لهما نفس مقدار الإزاحة ويتحركان في نفس الاتجاه.

مثال ١ احسب المسافة والإزاحة في الحالات الآتية :

الحالات	عندما يتحرك شخص من (A) إلى (B)	عندما يتحرك شخص من (A) إلى (D) مروراً بالنقطتين (B) ، (C)	عندما يتحرك شخص من (A) ثم يعود إليها مرة أخرى
الشكل			
المسافة المقطوعة	$f = AB = 8$ متر	$f = CD + BC + AB = 8 + 2 + 8 = 18$ متر	$f = DA + CD + BC + AB = 2 + 8 + 2 + 8 = 20$ متر
الإزاحة الحادثة	$f = AB = 8$ متر في اتجاه الشرق	$f = AD = 2$ متر في اتجاه الجنوب	$f = 0$ صفر

مثال ٢ في الشكل المقابل : بدأ جسم حركته من النقطة (P) متجهاً إلى النقطة (ح)

مروراً بالنقطة (ب) ، احسب :

١- المسافة التى قطعها الجسم.

٢- الإزاحة التى أحدثها الجسم.

الحل

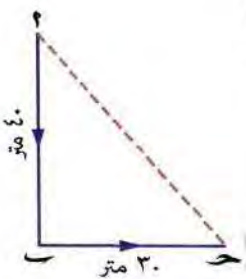
$$(1) \text{ المسافة (ف) } = 40 + 30 = 70 \text{ متر}$$

$$//$$

$$(2) \text{ الإزاحة (ف) } = \sqrt{(30)^2 + (40)^2} = 50 \text{ متر}$$

$$//$$

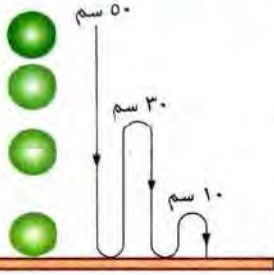
$$//$$



مثال ٣ في الشكل المقابل : سقطت كرة من المطاط لأسفل من ارتفاع ٥٠ سم

باتجاه الأرض ثم ارتدت لأعلى ولأسفل مرتين ، احسب :

١- المسافة المقطوعة. ٢- الإزاحة الحادثة.



الحل

١- المسافة المقطوعة = ٥٠ + ٣٠ + ٣٠ + ١٠ + ١٠ = ١٣٠ سم

٢- الإزاحة الحادثة = ٥٠ سم لأسفل

مثال ٤ تحركت سيارة من النقطة (٢) إلى النقطة (س) مروراً بالنقطتين

(ب) ، (ح) كما بالشكل المقابل : احسب : مقدار (خ)

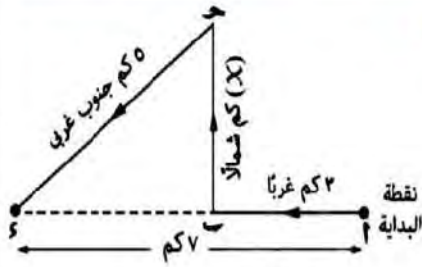
الحل

∴ إزاحة السيارة من نقطة البداية = ٧ كم غرباً

∴ ٤ كم = ٣ - ٧ = سب - سب = سب

∴ سب = √(٤) - √(٥) = √(سب) - √(سب) = سب

∴ سب = √٩ = (خ) = ٣ كم



إرشادات خاصة لحل مسائل المسافة والإزاحة في مسار دائري

الإزاحة المقطوعة (ف)	المسافة المقطوعة (ف)	الشكل التوضيحي	إذا تحرك الجسم
ف = صفر	ف = محيط الدائرة ف = ٢ ط نق حيث ط = $\frac{٢٢}{٧}$ نق = نصف القطر		دورة كاملة من ( ٢ : س : ح : ٢ )
ف = سب $\sqrt{(س٢) + (٢٢)} =$ في اتجاه الجنوب الغربي	ف = $\frac{٢}{٤}$ محيط الدائرة		$\frac{٢}{٤}$ دورة من ( س : ح : ب : ٢ )
ف = ح = قطر الدائرة = ٢ نق في اتجاه الغرب	ف = $\frac{١}{٢}$ محيط الدائرة		$\frac{١}{٢}$ دورة من ( ح : ب : ٢ )
ف = سب $\sqrt{(ب٢) + (٢٢)} =$ في اتجاه الشمال الغربي	ف = $\frac{١}{٤}$ محيط الدائرة		$\frac{١}{٤}$ دورة من ( ب : ٢ )

مثال ٥ الشكل المقابل يمثل حركة سيارة على مسار دائري من النقطة (أ) ، احسب :

كلاً من المسافة والإزاحة عندما تتحرك السيارة :

١- دورة كاملة. ٢- نصف دورة. ٣- ربع دورة.



الحل

١- دورة كاملة : المسافة المقطوعة (ف) = محيط الدائرة = ٢ طق

$$= 7 \times \frac{22}{7} \times 2 = 44 \text{ متر}$$

الإزاحة (ف) = صفر



٢- نصف دورة : المسافة المقطوعة (ف) = محيط الدائرة = ٢٢ متر

الإزاحة (ف) = قطر الدائرة = ٢ طق

$$= 7 \times 2 = 14 \text{ متر}$$

في اتجاه الشمال



٣- ربع دورة : المسافة المقطوعة (ف) = محيط الدائرة = ١١ متر

الإزاحة (ف) =  $\sqrt{7^2 + 7^2}$

$$= \sqrt{7^2 + 7^2} = \sqrt{2 \times 7^2} = 2\sqrt{7} = 9.9 \text{ متر}$$

$$= 9.9 \text{ متر في اتجاه الشمال الغربي}$$

مقدار الإزاحة

### ثانياً السرعة القياسية و السرعة المتجهة


لمعرفة الفرق بين :

السرعة القياسية (ع) ، السرعة المتجهة (ع)

قم بدراسة الشكل المقابل ،

والذي يعبر عن حركة جسم من موضع البداية (A)

إلى موضع النهاية (D) مروراً بالموضعين (B) ، (C).



ومنه يتضح أن

• الإزاحة (ف) التي يقطعها الجسم  
→ طول الخط المستقيم AD = 60 متر في اتجاه الشرق

• المسافة الكلية (ف) التي يقطعها الجسم

$$CD + BC + AB =$$

$$= 30 + 60 + 30 = 120 \text{ متر}$$

الزمن الكلي (ز) الذي يستغرقه الجسم = 30 + 20 + 10 = 60 ثانية

ويعرف خارج قسمة

الإزاحة (ف) على الزمن الكلي (ز)

بالسرعة المتجهة (ع)

$$\frac{\text{الإزاحة (ف)}}{\text{الزمن الكلي (ز)}} = \text{السرعة المتجهة (ع)}$$

$$= \frac{60}{60} = 1 \text{ م/ث شرقاً}$$

المسافة الكلية (ف) على الزمن الكلي (ز)

بالسرعة القياسية (ع)

$$\frac{\text{المسافة الكلية (ف)}}{\text{الزمن الكلي (ز)}} = \text{السرعة القياسية (ع)}$$

$$= \frac{120}{60} = 2 \text{ م/ث}$$



السرعة القياسية

هى • المسافة الكلية المقطوعة خلال وحدة الزمن.  
أو • المعدل الزمني للتغير فى المسافة.

السرعة المتجهة

هى • الإزاحة الحادثة خلال وحدة الزمن.  
أو • المعدل الزمني للتغير فى الإزاحة.

متى يتساوى ... ؟ مقدار السرعة القياسية مع مقدار السرعة المتجهة.  
عندما يتحرك الجسم فى اتجاه واحد وفى خط مستقيم

ما معنى أن ... ؟ جسم قطع ٢٥ متر غرباً فى ٥ ثانية.

$$\text{السرعة المتجهة (ع)} = \frac{\text{الإزاحة (ف)}}{\text{الزمن الكلى (ز)}} = \frac{25}{5} = 5 \text{ م/ث فى اتجاه الغرب.}$$

أى أن السرعة المتجهة لهذا الجسم تساوى ٥ م/ث فى اتجاه الغرب

ملاحظات

- تتفق السرعة المتجهة مع الإزاحة الحادثة فى الاتجاه وتختلف معها فى وحدة القياس.
- يعتبر الفهد (الشيتا) أسرع الحيوانات البرية حيث تبلغ أقصى سرعة له ٢٧ م/ث

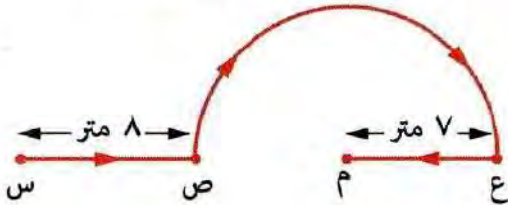
مثال ٦ فى الشكل المقابل ، إذا تحرك جسم من النقطة (س)

إلى النقطة (م) مروراً بالنقطتين (ص) ، (ع)

فى زمن قدره ١٠ ثانية ، احسب :

١- السرعة المتوسطة. ٢- السرعة المتجهة.

الحل



$$\text{المسافة (ف)} = \text{س ص} + \text{ص ع} + \frac{1}{2} \text{ محيط الدائرة} + \text{ع م (نق)} = 7 + (7 \times \frac{22}{7} \times 2 \times \frac{1}{2}) + 8 = 37 \text{ متر}$$

$$١- \text{السرعة المتوسطة (ع)} = \frac{\text{المسافة الكلية (ف)}}{\text{الزمن الكلى (ز)}} = \frac{37}{10} = 3,7 \text{ م/ث}$$

$$\text{الإزاحة (ف)} = \text{س م} = \text{س ص} + \text{ص م (نق)} = 7 + 8 = 15 \text{ متر شرقاً}$$

$$٢- \text{السرعة المتجهة (ع)} = \frac{\text{الإزاحة (ف)}}{\text{الزمن الكلى (ز)}} = \frac{15}{10} = 1,5 \text{ م/ث شرقاً}$$

العلم والتكنولوجيا والمجتمع :

أهمية السرعة المتجهة للرياح بالنسبة للرحلات الجوية

تنشأ حركة الرياح من اختلاف الضغط الجوى للهواء فى المناطق المختلفة فوق سطح الأرض ، وتؤثر حركة الأرض حول محورها من الغرب إلى الشرق فى اتجاه الرياح ، وهو ما يؤثر فى مقدار السرعة المتجهة للطائرات، لذا يلزم أن يراعى الطيارون اتجاه الرياح.

تطبيق ٢ :

الشكل التالى يوضح مسار رحلة طائرة تقطع مسافة ثابتة بين المدينتين (س) ، (ص) ذهاباً وإياباً ،

وماذا يحدث عند إقلاع الطائرة :فى عكس اتجاه الرياح

من المدينة (س) باتجاه الجنوب الغربى نحو المدينة (ص) تقلل سرعتها المتجهة فيزداد زمن الرحلة وبالتالي تزداد كمية الوقود المستهلكة

فى نفس اتجاه الرياح

من المدينة (ص) باتجاه الشمال الشرقى نحو المدينة (س) تزداد سرعتها المتجهة فيقل زمن الرحلة وبالتالي تقل كمية الوقود المستهلكة.

علل يراعى الطيارون السرعة المتجهة للرياح عند الطيران.

لأن اتجاه الرياح يؤثر على سرعة الطائرة وبالتالي على زمن الرحلة وكمية الوقود.

# الأسئلة

## س ١ أكمل ما يأتي

- ١- تعتبر القوة والعجلة من الكميات الفيزيائية ..... بينما الكتلة والزمن من الكميات الفيزيائية .....
- ٢- يعتبر ..... أسرع الحيوانات البرية حيث تبلغ سرعته القصوى ..... م/ث
- ٣- عندما يتحرك شخص ١٠٠ متر شرقاً من موضع السكون ثم يعود ٣٠ متراً في عكس الاتجاه فإن المسافة التي يقطعها تساوى ..... متر والإزاحة تساوى ..... متر شرقاً.
- ٤- يلزم لوصف الإزاحة وصفاً تاماً معرفة ..... و .....
- ٥- المسافة المقطوعة في اتجاه ثابت هي ..... وتعتبر كمية متجهة.
- ٦- عندما يتحرك الجسم في اتجاه واحد فإنه تتفق المسافة والإزاحة في ..... و .....
- ٧- إزاحة جسم خلال فترة زمنية لا تعتمد على طول مسار حركة الجسم (المسافة) فقط بل تعتمد على ..... أيضاً.

## س ٢ اكتب المصطلح العلمي

- ١- كميات يكفي لتحديد معرفة مقدارها فقط.
- ٢- المسافة الكلية المقطوعة خلال وحدة الزمن.
- ٣- طول أقصر خط مستقيم بين موضعي البداية والنهاية للجسم المتحرك.
- ٤- كميات يلزم لتحديد معرفة مقدارها واتجاهها.
- ٥- طول المسار الفعلي الذي يسلكه الجسم المتحرك من موضع بداية الحركة إلى الموضع النهائي لها.
- ٦- كمية فيزيائية متجهة وحدة قياسها م/ث<sup>٢</sup>

## س ٣ قارن بين كل من

- ١- الإزاحة - المسافة (من حيث نوع الكمية الفيزيائية)
- ٢- السرعة القياسية - السرعة المتجهة (من حيث وحدة العلاقة الرياضية لحساب كل منهما)
- ٣- الكمية القياسية - الكمية المتجهة (من حيث التعريف)

## س ٤ متى يحدث الآتي

- ١- يتساوى مقدار السرعة القياسية مع السرعة المتجهة.
- ٢- تتطابق المسافة المقطوعة مع مقدار الإزاحة الحادثة.
- ٣- تكون الإزاحة الحادثة لجسم متحرك مساوية للصفر.
- ٤- تكون المسافة المقطوعة أكبر من مقدار الإزاحة الحادثة.

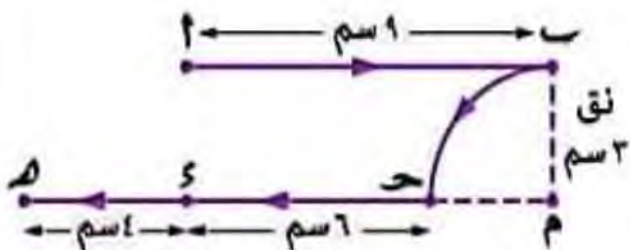
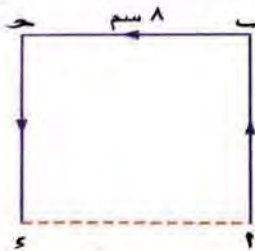
## س ٥ علل لما يأتي

- ١- أهمية السرعة المتجهة للرياح بالنسبة للرحلات الجوية.
- ٢- الطول كمية فيزيائية قياسية بينما القوة كمية فيزيائية متجهة.
- ٣- الجسم المتحرك الذي يكون موضع نهاية حركته هو نفس موضع بداية حركته يكون مقدار سرعته المتجهة مساوية للصفر.

١- يتحرك جسم في خط مستقيم بسرعة منتظمة مقدارها ٢٥ م/ث في اتجاه الجنوب لمدة ٥ ثانياً **احسب :-** (١) المسافة المقطوعة. (٢) الإزاحة. (٣) العجلة.

٢- قطع شخص بسيارته من منزله مسافة ٤٠٠ متر شرقاً خلال نصف دقيقة ثم ٢ كيلومتر جنوباً خلال ١٢٠ ثانية ثم ٦٠٠ متر غرباً خلال ٥٠ ثانية للوصول لمحل عمله ثم عاد لمنزله في نفس المسافة ونفس الزمن **احسب :-** (أ) السرعة القياسية. (ب) السرعة المتجهة.

٣- **الشكل المقابل** يمثل مربع طول ضلعه ٨ سم فإذا تحرك جسم من النقطة (١) إلى النقطة (٤) مروراً بالنقطة (٢) ، (٣) ، (٤) في زمن قدره ٢ ثانية. **احسب :-** ١- السرعة القياسية. ٢- السرعة المتجهة.



٤- في الشكل المقابل : بدأ جسم حركته من النقطة (١) إلى النقطة (٥) مروراً بالنقاط (٢) ، (٣) ، (٤) ، **احسب :-**

١- المسافة المقطوعة. ٢- مقدار الإزاحة.

## س ٧ صوب ما تحته خط

- ١- يميز الإزاحة خاصيتان هما المقدار والزمن.
- ٢- الكمية الفيزيائية القياسية يكفي لتحديد معرفة مقدارها واتجاهها.
- ٣- إذا تحرك جسم في مسار دائري نصف قطره (نق) ليقطع مسافة تساوي طنق تكون إزاحته تساوي ٢ طنق.
- ٤- لتحديد الكثافة يلزم معرفة مقدارها واتجاهها.
- ٥- السرعة المنتظمة هي السرعة القياسية ولكن في اتجاه محدد.
- ٦- اتجاه السرعة المتجهة يكون نفس اتجاه المسافة التي يحدثها الجسم.
- ٧- يراعى الطيارون السرعة المنتظمة للرياح عند الطيران.

## س ٨ اختر الإجابة الصحيحة من بين الأقواس

- ١- عندما يكمل جسم متحرك دورة كاملة في مسار دائري قطره ١٠ متر ، يكون مقدار الإزاحة التي أحدثها الجسم .....  
( ٣١,٤ متر - ١٠ متر - ٥ متر - صفر )
- ٢- في الشكل المقابل ، إذا تحرك جسم من النقطة (٤) إلى النقطة (ب) ، فإن مقدار الإزاحة الحادثة يساوي ..... سم  
(  $2\sqrt{10}$  - ١٠ - ٢٠ - ٣١,٤ )
- ٣- إذا قطع راكب دراجة مسافة ١٢٠٠ متر شرقاً ثم قطع مسافة ١٧٠٠ متر غرباً ، فإن مقدار الفرق بين المسافة المقطوعة ومقدار الإزاحة الحادثة يساوي ..... متر  
( ٢٠٠ - ٧٠٠ - ٢٤٠٠ - ٥٠٠ )
- ٤- إذا أطلق شخص طلقاً نارياً فتتحرك بسرعة ٦٠٠ م/ث شرقاً ، تُسمى سرعة الطلق الناري بالسرعة .....  
( المنتظمة - القياسية - المتجهة - النسبية )
- ٥- لتحديد الطول والكتلة والزمن يلزم معرفة .....  
( المقدار فقط - الاتجاه فقط - المقدار والاتجاه )
- ٦- القائمة التالية تتضمن ٨ كميات فيزيائية :

الزمن	الإزاحة	الطول	اتجاه الرياح	الكتلة	العجلة	المساحة	القوة
-------	---------	-------	--------------	--------	--------	---------	-------

فإن عدد الكميات المتجهة .....

( ٢ - ٣ - ٤ - ٥ - ٦ )

- ٧- عندما يتحرك الجسم في خط مستقيم في اتجاه ثابت ، تكون النسبة بين المسافة المقطوعة ومقدار الإزاحة الحادثة ..... الواحد الصحيح.

( أكبر من - تساوي - أقل من )

- ٨- الإزاحة كمية متجهة وحدة قياسها .....

( متر - متر/ثانية - متر/ثانية<sup>٢</sup> - متر.ثانية )

## الوحدة الثانية الطاقة الضوئية

### المرايا

### الدرس الأول

هناك بعض المشاهدات التي قد تتعرض لها في حياتك اليومية فمثلاً :

عند النظر إلى

سطح مصقول (عاكس) كالمرآة



سطح مياه ساكنة




تلاحظ

تكوّن صورة لوجهك

تكوّن صور للأجسام المحيطة بها

وتفسر تلك المشاهدات بحدوث ظاهرة انعكاس الضوء



انعكاس الضوء

**انعكاس الضوء** هو ارتداد أشعة الضوء إلى نفس وسط السقوط عندما تقابل سطحاً عاكساً

### لدراسة انعكاس الضوء يلزم التعرف على بعض المفاهيم المرتبطة به



**الشعاع الضوئي الساقط** هو خط مستقيم يُمثل الحزمة الضوئية

الساقطة على السطح العاكس، ويلامسه عند نقطة السقوط.

**الشعاع الضوئي المنعكس** هو خط مستقيم يُمثل الحزمة الضوئية

المرتدة عن السطح العاكس، ويلامسه عند نقطة السقوط.

**زاوية سقوط الشعاع الضوئي** هي الزاوية المحصورة

بين الشعاع الضوئي الساقط

والعمود المقام من نقطة السقوط على السطح العاكس.

**زاوية انعكاس الشعاع الضوئي** هي الزاوية المحصورة

بين الشعاع الضوئي المنعكس

والعمود المقام من نقطة السقوط على السطح العاكس.

ما معنى أن ...؟

٢- زاوية انعكاس شعاع ضوئي  
على سطح عاكس  $45^\circ$

١- زاوية سقوط شعاع ضوئي  
على سطح عاكس  $60^\circ$

أى أن

الزاوية المحصورة بين الشعاع المنعكس والعمود المقام  
من نقطة السقوط على السطح العاكس تساوي  $45^\circ$

الزاوية المحصورة بين الشعاع الساقط والعمود المقام  
من نقطة السقوط على السطح العاكس تساوي  $60^\circ$

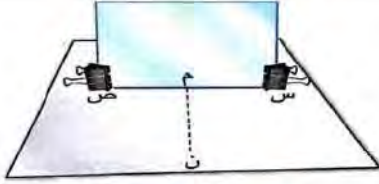
يخضع انعكاس الضوء لقانونين ، ويمكن تحقيقهما بإجراء النشاط التالي :

### نشاط ١ تحقيق قانونا انعكاس الضوء

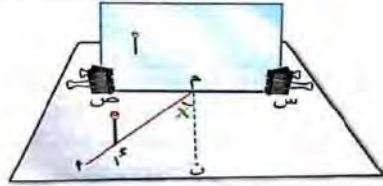
#### الأدوات المستخدمة :

- ورقة بيضاء. • مرآة مستوية. • مشبكى ورق. • مسطرة. • منقلة. • دبوسين.

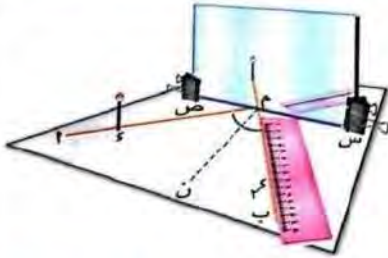
#### الخطوات :



- ١- ارسم خط أفقى (س ص) على الورقة البيضاء ليمثل السطح العاكس ، ثم ثبت المرآة المستوية عمودياً عليه باستخدام مشبكى الورق.
- ٢- أقم خط متقطع (ن م) عمودى على الخط (س ص) ليمثل العمود المقام.



- ٣- ارسم خط مستقيم مائل (م م) ليمثل الشعاع الضوئى الساقط ، ثم قس الزاوية (X) المحصورة بينه وبين العمود المقام (ن م) والتي تُمثل زاوية السقوط.
- ٤- ثبت الدبوس (١٤) على الخط المستقيم (م م).



- ٥- انظر للجانب الآخر من المرآة وثبت الدبوس (٢٤) بحيث يكون على استقامة صورة الدبوس (١٤) ثم ارفعه من بعد تحديد موضعه.
- ٦- ارسم خط مستقيم يمر بموضع الدبوس (٢٤) ومدّه على استقامته ليقابل السطح العاكس (س ص) عند النقطة ( م ) ليمثل الخط المستقيم (ب م) الشعاع الضوئى المنعكس.

#### الملاحظة

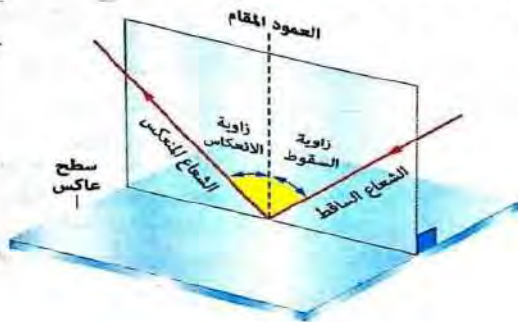
- زاوية السقوط = زاوية الانعكاس
- تتغير زاوية الانعكاس تبعاً لتغير زاوية السقوط بحيث تكون مساوية لها دائماً.

- ٧- قس الزاوية المحصورة بين الخط المستقيم (ب م) والعمود المقام (ن م) والتي تُمثل زاوية الانعكاس.
- ٨- غير زاوية السقوط عدة مرات ، وعين فى كل مرة زاوية الانعكاس المقابلة لها.

#### الاستنتاج

يخضع الضوء فى انعكاسه لقانونين ، يعرفا بقانونى انعكاس الضوء ، وهما :

#### قانونا انعكاس الضوء :

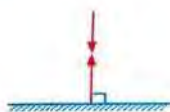


#### القانون الأول

زاوية السقوط = زاوية الانعكاس

#### القانون الثانى

الشعاع الضوئى الساقط والشعاع الضوئى المنعكس والعمود المقام من نقطة السقوط على السطح العاكس تقع جميعها فى مستوى واحد ، عمودى على السطح العاكس



ماذا يحدث عند ... ؟ سقوط شعاع ضوئى عمودياً على

سطح عاكس ، مع تعليل اجابتك.

يرتد على نفسه ، لأن كلاً من زاويتي السقوط والانعكاس تساوى صفر

ما معنى قولنا ... ؟ زاوية سقوط شعاع ضوئى على سطح عاكس تساوى صفر

أى أن الشعاع الضوئى سقط عمودياً على السطح العاكس

## مثال ١ أوجد قيمة زاوية السقوط و زاوية الانعكاس في الأشكال التالية :

			
زاوية السقوط = زاوية الانعكاس $60 = 120 \div 2$	زاوية السقوط = زاوية الانعكاس $30 = 60 - 90$	زاوية السقوط = زاوية الانعكاس = صفر	زاوية السقوط = زاوية الانعكاس $45 =$

## المرايا

وسوف نتناول بالدراسة المرايا كمثال على الأسطح العاكسة للضوء

## أنواع المرايا

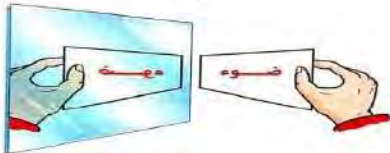


## أولاً المرايا المستوية

عند وضع أى جسم أمام مرآة مستوية تتكون له صورة نتيجة لانعكاس الأشعة الضوئية الصادرة عنه ، وللتعرف على خواص الصورة المتكونة في المرآة المستوية ، نجرى النشاط التالي :

## نشاط ٢ خواص الصورة المتكونة في المرآة المستوية

الأدوات المستخدمة : ● مرآة مستوية. ● بطاقة مكتوب عليها كلمة (ضوء).



## الخطوات :

- ١- ثبت المرآة المستوية رأسياً.
- ٢- ضع البطاقة أمام المرآة ، كما بالشكل المقابل.
- ٣- سجل ملاحظتك على الصورة المتكونة.



صورة معكوسة الوضع بالنسبة للجسم  
" اليد اليمنى تظهر وكأنها اليد اليسرى في المرآة "

## الملاحظة والاستنتاج : خواص الصور المتكونة في المرآة المستوية :

- ١- معتدلة.
- ٢- مساوية للجسم في الحجم.
- ٣- تقديرية.
- ٤- معكوسة الوضع بالنسبة للجسم.
- ٥- بعد الجسم عن سطح المرآة يساوي بعد الصورة عن سطح المرآة.
- ٦- المستقيم الواصل بين الجسم وصورته يكون عمودياً على سطح العاكس.

## الصورة التقديرية

هي الصورة التي لا يمكن استقبالها على حائل

## علل

لا يمكن استقبال الصورة المتكونة في المرآة المستوية

على حائل.

لأنها صورة تقديرية تتكون خلف المرآة

من تلاقى امتدادات الأشعة الضوئية المنعكسة عن المرآة.



تكون صورة الجسم بالمرآة المستوية



تكتب كلمة "إسعاف" معكوسة على سيارة الإسعاف.



لكي تتكون لها صورة معكوسة في المرايا المستوية للسيارات التي أمامها فيراها قاندى السيارات مضبوطة فيسرعوا بإخلاء الطريق.

**مثال ١** وقف مصطفى على بُعد ١,٥ متر من مرآة مستوية، فتكونت له صورة، احسب :  
(١) المسافة بين صورته والمرآة. (٢) المسافة بينه وبين صورته.

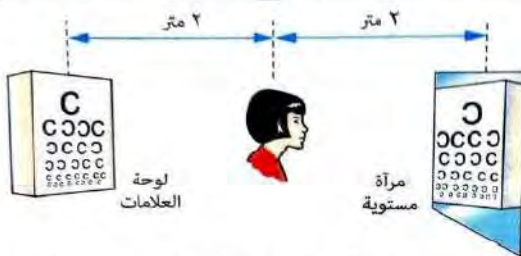
الحل

(١) المسافة بين صورة مصطفى والمرآة = المسافة بين مصطفى والمرآة = ١,٥ متر

(٢) المسافة بين مصطفى وصورته في المرآة

= المسافة بين مصطفى والمرآة + المسافة بين صورة مصطفى والمرآة

= ١,٥ + ١,٥ = ٣ متر



**مثال ٢** من الشكل المقابل، احسب : المسافة بين أميرة وصورة لوحة العلامات في المرآة المستوية.

الحل

:: بُعد لوحة العلامات عن المرآة = ٢ + ٢ = ٤ متر

:: بُعد صورة لوحة العلامات عن المرآة = ٤ متر

:: المسافة بين أميرة وصورة لوحة العلامات = بُعد صورة لوحة العلامات عن المرآة + بُعد أميرة عن المرآة

= ٢ + ٤ = ٦ متر



كرة جوفاء

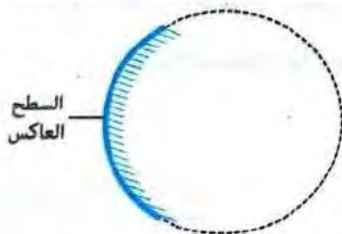
## ثانياً المرايا الكرية

### المرايا الكرية

هي مرايا سطحها العاكس (اللامع) جزء من سطح كرة جوفاء

## أنواع المرايا الكرية

### ٢- مرايا محدبة (مفرقة)



### المراة المحدبة

هي مرآة سطحها العاكس جزء من السطح الخارجى لكرة جوفاء

### ١- مرايا مقعرة (مجمعة)

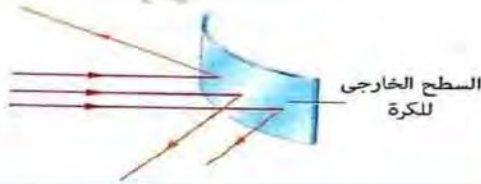


### المراة المقعرة

هي مرآة سطحها العاكس جزء من السطح الداخلى لكرة جوفاء

علل ؟

تسمى المرآة المحدبة بالمرآة المفرقة. لأنها تفرق الأشعة الضوئية المتوازية الساقطة عليها بعد انعكاسها.



تسمى المرآة المقعرة بالمرآة المجمعة (اللامعة). لأنها تجمع الأشعة الضوئية المتوازية الساقطة عليها بعد انعكاسها.



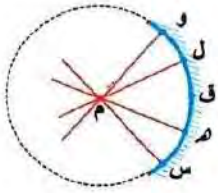
تطبيق حياتي

تمثل **الملعقة المعدنية** أقرب مثال للمرايا الكرية، حيث يعتبر :



## المفاهيم الأساسية المرتبطة بالمرايا الكرية

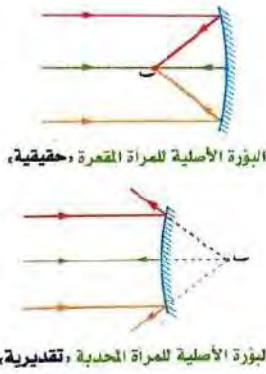
الشكل التوضيحي	المفهوم
	<p><b>مركز تكور المرآة (م)</b> هو مركز الكرة التي تعتبر المرآة جزءاً منها.</p> <p>يقع : • أمام السطح العاكس في المرآة المقعرة. • خلف السطح العاكس في المرآة المحدبة.</p>
	<p><b>قطب المرآة (ق)</b> هو نقطة وهمية تتوسط السطح العاكس للمرآة الكرية.</p>
	<p><b>نصف قطر تكور المرآة (نق)</b> هو مركز الكرة التي تعتبر المرآة جزءاً منها</p> <p>المسافة بين مركز تكور المرآة (م) وأى نقطة على سطحها العاكس.</p> <p>مثل : م س ، م ق ، م ف</p>
<p><b>ما معنى أن ؟ مرآة كرية نصف قطر تكورها = سم</b></p> <p>أى أن : نصف قطر الكرة التي تعتبر هذه المرآة جزءاً منها يساوى = سم أو المسافة بين مركز تكور هذه المرآة وأى نقطة على سطحها العاكس تساوى = سم</p>	
	<p><b>المحور الأصلي للمرآة (م ق)</b> هو المستقيم المار بمركز تكور المرآة (م) وقطبها (ق).</p> <p><b>علل ؟ للمرآة الكرية محور أصلي واحد.</b> لأن لها مركز تكور واحد وقطب واحد.</p>

**المحور الثانوي للمراة**

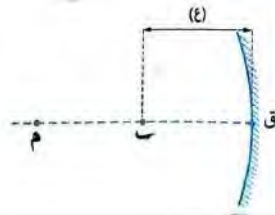
هو المستقيم المار بمركز تكور المراة (م) وأى نقطة على سطحها العاكس خلاف قطبها

مثل :  $\longleftrightarrow$  م و ، م ل ، م ه ، م س

**علل ؟ للمراة الكرية عدد لا نهائى من المحاور الثانوية.**  
لأن أى خط مستقيم يمر بمركز تكور المراة وأى نقطة على سطحها العاكس خلاف قطبها يعتبر محور ثانوى.

**البؤرة الأصلية للمراة (ب)**

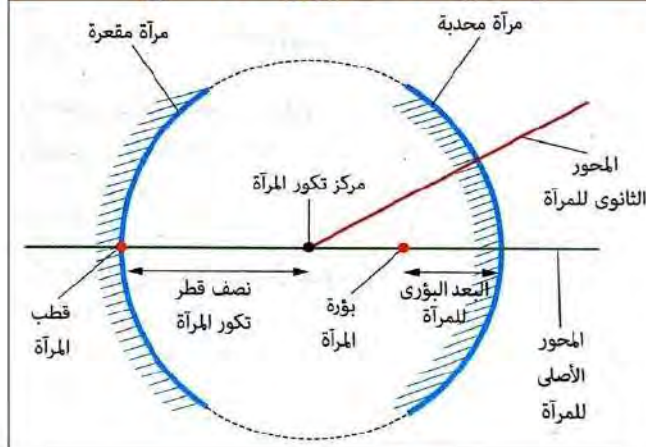
هى نقطة تجمع أو (تلاقى) الأشعة الضوئية المنعكسة أو امتداداتها ، وتنشأ من سقوط الأشعة الضوئية المتوازية والموازية للمحور الأصى للمراة الكرية.

**البعد البؤرى للمراة (ع)**

هو المسافة بين البؤرة الأصلية للمراة (ب) وقطبها (ق).

**ما معنى أن ؟ البعد البؤرى لمراة مقعرة يساوى ١٠ سم**  
أى أن المسافة بين البؤرة الأصلية لهذه المراة وقطبها تساوى ١٠ سم

يمكن إجمال ما سبق بالشكل التالى :



**قارن بين ؟ البؤرة الأصلية للمراة المقعرة و البؤرة الأصلية للمراة المحدبة.**

**البؤرة الأصلية للمراة المحدبة**

**البؤرة الأصلية للمراة المقعرة**

- بؤرة تقديرية.
- تنشأ من تلاقى امتدادات الأشعة الضوئية المنعكسة.
- تقع **خلف** السطح العاكس للمراة.

- بؤرة حقيقية.
- تنشأ من تلاقى الأشعة الضوئية المنعكسة.
- تقع **أمام** السطح العاكس للمراة.



العلاقة بين نصف قطر تكور المرآة وبعدها البؤري :

نصف قطر تكور المرآة (فق) = ضعف البعد البؤري (ع)

مثال ٣ احسب البعد البؤري لمرآة مقعرة قطرها ١٠٠ سم

الحل

$$\text{فق} = \frac{\text{ق}}{2} = \frac{100}{2} = 50 \text{ سم}$$

$$\text{ع} = \frac{\text{فق}}{2} = \frac{50}{2} = 25 \text{ سم}$$

أداء ذاتي مرآة مقعرة بعدها البؤري ٥ سم احسب نصف قطر تكورها.

الحل

$$\text{نصف قطر تكور المرآة (فق)} = \text{ضعف البعد البؤري (ع)} = \dots \times \dots = 10 \text{ سم}$$

### ١- المرايا المقعرة

تعيين موضع البؤرة الأصلية والبعد البؤري للمرآة المقعرة

نشاط ٣ تعيين موضع البؤرة الأصلية والبعد البؤري للمرآة المقعرة

الأدوات المستخدمة :

- مرآة مقعرة.
- حائل.
- شريط قياس (المتر).

الخطوات :

١- ضع المرآة المقعرة في مواجهة ضوء الشمس.

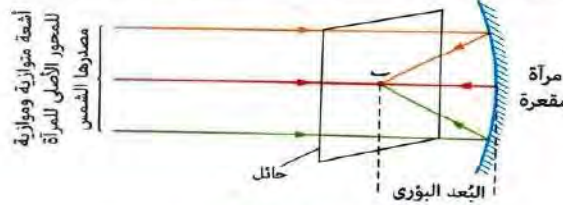
٢- حرك الحائل قريباً وبعيداً أمام المرآة حتى تحصل على

أوضح نقطة مضيئة عليه.

٣- قس المسافة بين قطب المرآة والنقطة المضيئة.

الملاحظة

- تتجمع الأشعة الساقطة المتوازية على الحائل بعد انعكاسها على سطح المرآة المقعرة في نقطة تسمى البؤرة الأصلية للمرآة (ب).
- المسافة بين قطب المرآة المقعرة والنقطة المضيئة تمثل البعد البؤري للمرآة.



الاستنتاج

البعد البؤري للمرآة المقعرة يساوي المسافة بين البؤرة الأصلية للمرآة وقطبها.

ملحوظة

الضوء الصادر من مصدر بعيد كالشمس يصل إلينا في صورة أشعة متوازية

تستخدم المرايا المقعرة لتوليد حرارة شديدة.

علل

لأن المرآة المقعرة تجمع الأشعة الضوئية الساقطة عليها متوازية وموازية لمحورها الأصلي بعد انعكاسها في نقطة واحدة (البؤرة) مولدة حرارة شديدة.

## العلم والتكنولوجيا والمجتمع



استخدام المرآة المقعرة في حرق أشعة السفن

- استخدم أرشميدس - طبقاً للأسطورة اليونانية القديمة - المرايا المقعرة كسلاح ضد الأسطول الروماني الذي غزا صقلية عام ٢١٢ قبل الميلاد !!
- حيث وضع عدة مرايا مقعرة ضخمة في مواجهة أشعة الشمس، فتجمعت الأشعة المنعكسة في نقطة واحدة على أشعة السفن - تمثل بؤر المرايا - فتولدت حرارة شديدة أدت إلى احتراقها، وبالتالي غرق السفن.


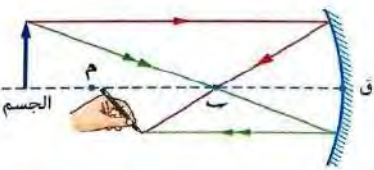
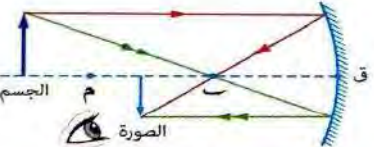
## قواعد تحديد اتجاه انعكاس الأشعة الضوئية الساقطة على سطح مرآة مقعرة

الشكل التخطيطي	مسار الشعاع الضوئي المنعكس	مسار الشعاع الضوئي الساقط
	ينعكس مارةً بالبؤرة الأصلية (ب)	موازيًا للمحور الأصلي
	ينعكس موازيًا للمحور الأصلي	مارةً بالبؤرة (ب)
	ينعكس على نفسه...؟ لأن كل من زاويتي السقوط والانعكاس تساوي صفر	مارةً بمركز تكور المرآة (م)

## خطوات تحديد موضع وخواص الصور المتكونة بواسطة المرآة المقعرة


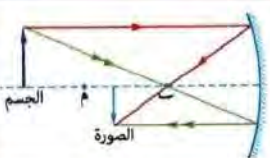
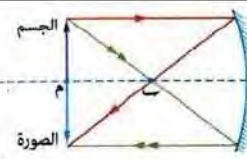
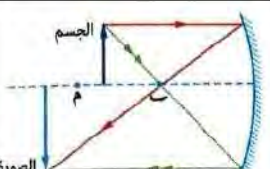
يمكن تحديد موضع وخواص الصور المتكونة بالمرآة المقعرة باستخدام شعاعين فقط ، كما يتضح فيما يلي :

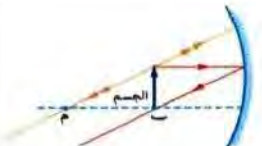

الشكل التوضيحي	الخطوات
	استخدم الفرجار (البرجل) في رسم سطح كروي يمثل المرآة المقعرة على أن يكون مركزه هو مركز تكور المرآة (م)
	ظلل السطح الخارجي من المرآة ليمثل السطح المعتم ثم ضع نقطة في منتصفه ، لتمثل قطب المرآة (ق)
	ارسم خط مستقيم متقطع يمر بمركز التكور (م) وينتهي بقطب المرآة (ق) ليمثل المحور الأصلي
	ضع نقطة في منتصف المسافة بين مركز التكور (م) والقطب (ق) لتمثل البؤرة (ب)

	<p>ارسم سهماً رأسياً على المحور الأصلي عند موضع محدد (وليكن على بُعد أكبر من نصف قطر التكور) ليمثل موضع جسم مضى بالنسبة للمرأة المقعرة</p>
	<p>ارسم من أعلى نقطة في السهم الممثل للجسم :      • شعاع يسقط موازياً للمحور الأصلي وتتبع مسار انعكاسه مرأً بالبؤرة .      • شعاع يمر بالبؤرة (ب) وتتبع مسار انعكاسه موازياً للمحور الأصلي.</p>
	<p>ارسم سهم رأسه عند موضع التقاء الشعاعين المنعكسين ليمثل صورة الجسم.</p>
<p>□ <b>موضع الصورة :</b>      بين البؤرة (ب) ، ومركز التكور (م).      □ <b>خواص الصورة :</b>      • حقيقية . • مقلوبة . • مصغرة .</p>	<p>حدد موضع وخواص الصور المتكونة للجسم.</p>
<p><b>الصورة الحقيقية</b>      هي الصورة التي يمكن استقبالها على حائل</p>	<p>كرر الخطوات من ٥ : ٨ عدة مرات مع تغيير موضع الجسم في كل مرة.</p>

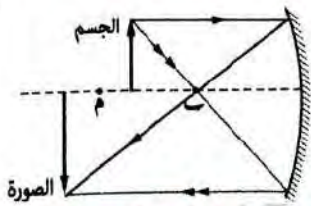
### خواص الصور المتكونة بالمرآة المقعرة (اللامة)

يختلف موضع وخواص الصور المتكونة بالمرآة المقعرة تبعاً لاختلاف موضع الجسم بالنسبة لها ، كما يتضح من الحالات الآتية :-

موضع الجسم بالنسبة للمرأة	شكل تخطيطي لمسار الأشعة	موضع الصورة بالنسبة للمرأة	خواص الصورة المتكونة
الجسم بعيداً جداً ( الأشعة الساقطة متوازية وموازية للمحور الأصلي )		الصورة على بُعد يساوي البعد البؤري ( عند البؤرة ب )	حقيقية . مصغرة جداً (نقطة).
الجسم على بُعد أكبر من ضعف البعد البؤري ( أبعد من مركز التكور م )		الصورة على بُعد أكبر من البعد البؤري وأقل من ضعف البعد البؤري (بين البؤرة ب ، ومركز التكور م)	حقيقية . مقلوبة . مصغرة .
الجسم على بُعد يساوي ضعف البعد البؤري ( عند مركز التكور م )		الصورة على بُعد يساوي ضعف البعد البؤري ( عند مركز التكور م )	حقيقية . مقلوبة . مساوية للجسم .
الجسم على بُعد أكبر من البعد البؤري وأقل من نصف قطر التكور (بين البؤرة ب ، ومركز التكور م)		الصورة على بُعد أكبر من نصف قطر التكور ( أبعد من مركز التكور م )	حقيقية . مقلوبة . مكبرة .

<p>في ما لا نهاية (على هيئة بقعة ضوئية) ، حيث لا تتكون صورة للجسم ... علل ؟ لأن الأشعة الضوئية تنعكس متوازية إلى ما لا نهاية ولا تتلاقى</p>		<p>الجسم على بُعد يساوي البعد البؤري ( عند البؤرة ب )</p>
<p>تقديرية . معتدلة . مكبرة .</p> <p>الصورة تتكون خلف المرآة</p>		<p>الجسم على بُعد أقل من البعد البؤري ( قبل البؤرة ب )</p>

**مثال ٣** وضع جسم طوله ٣ سم أمام مرآة مقعرة قطرها ٢٠ سم فتكونت له صورة مكبرة أمكن استقبالها على حائل ، فما المسافة بين موضع الجسم والمرآة.



الحل  
∴ الصورة المتكونة مكبرة أمكن استقبالها على حائل. ∴ الصورة حقيقية.  
∴ قطر المرآة = ٢٠ سم ∴ نق =  $\frac{٢٠}{٢}$  = ١٠ سم ∴ ع =  $\frac{١٠}{٢}$  = ٥ سم  
∴ الجسم موضوع على بُعد أكبر من البعد البؤري وأقل من نصف قطر التكور ( بين البؤرة ب ، ومركز التكور م ).  
∴ المسافة بين موضع الجسم والمرآة أكبر من ٥ سم وأقل من ١٠ سم

**أداء ذاتي** وضعت شمعة مضيئة أمام مرآة مقعرة على بُعد ٨ سم فلم تتكون لها صورة ولكي تتكون صورة مساوية لها ، احسب : المسافة التي يجب أن توضع عليها الشمعة.

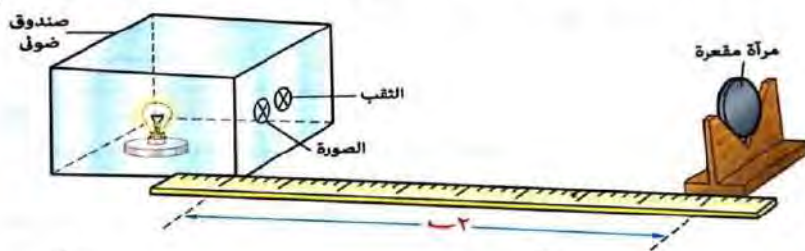
الحل  
∴ لم تتكون صورة. ∴ الجسم موضوع عند ..... ولكي تتكون صورة مساوية يجب وضع الشمعة عند .....  
∴ المسافة التي يجب أن توضع عليها الشمعة .....

### تعيين نصف قطر التكور للمرآة المقعرة

يتم إجراء النشاط التالي ، بالاعتماد على الحالة رقم ٣ من الجدول السابق صفحة (٤٣).

#### نشاط ٤ تعيين نصف قطر تكور مرآة مقعرة

الأدوات المستخدمة : • مرآة مقعرة. • حامل للمرآة. • شريط قياس (المتر) • صندوق ضوئي به ثقب.



#### الخطوات :

- ١- ثبت المرآة على الحامل ، وضعها أمام الصندوق الضوئي (المصدر الضوئي).
- ٢- حرك المرآة قريباً وبعداً حتى تتكون صورة واضحة للثقب بجواره ومساوية له.
- ٣- قس المسافة بين المرآة والثقب.

#### الملاحظة

- تتكون الصورة عند نقطة تمثل مركز تكور المرآة (م).
- المسافة بين المرآة والثقب تمثل نصف قطر تكور المرآة (نق).

#### الاستنتاج

نصف قطر تكور المرآة يساوي المسافة بين مركز تكور المرآة وأي نقطة على سطحها العاكس.

تتعدد استخدامات المرايا المقعرة فى الحياة اليومية ومن ضمنها استخدامها فى :



١ المصابيح الأمامية للسيارات  
لعكس الضوء



٢ الكشف على الأسنان  
حيث يستخدمها الطبيب لتكوين  
صورة مكبرة لها وذلك اعتماداً  
على الحالة رقم ٦



٣ الأفران الشمسية



٤ تكبير صورة الوجه أثناء الاعتناء به  
وذلك اعتماداً  
على الحالة رقم ٦ صفحة (٤٤)



٥ الكشافات الموجودة  
بممر هبوط الطائرات بالمطارات  
لإرشاد الطائرات



٦ كشاف الجيب  
لعكس الضوء



٧ الفنارات البحرية  
التي توجد فى الموانئ  
لإرشاد السفن



٨ صناعة التلسكوبات  
التي تستخدم فى رصد الفضاء



## موضع وخواص الصور المتكونة بواسطة المرآة المحدبة

- الصور المتكونة بالمرآة المحدبة دائماً تكون تقديرية معتدلة مصغرة مهما تغير موضع الجسم بالنسبة لها، كما سيتضح من الجدول التالي :

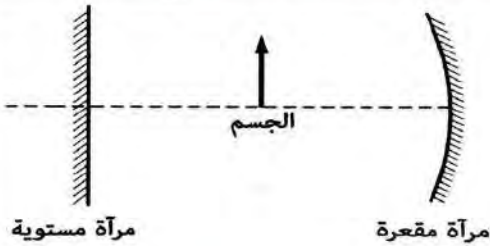
موضع الجسم	شكل تخطيطي لمسار الأشعة	موضع الصورة	خواص الصورة المتكونة
أمام المرآة المحدبة (عند أى موضع)	الشكل للإيضاح فقط 	خلف المرآة	<ul style="list-style-type: none"> <li>● تقديرية.</li> <li>● معتدلة.</li> <li>● مصغرة.</li> </ul>

## استخدامات المرآة المحدبة

	تُثبت مرآة محدبة على يمين ويسار السائق ... علة؟ لكشف الطريق خلفه حيث تعمل على تكوين صورة معتدلة مصغرة للطريق	١
	توضع في زوايا الطرق الضيقة ... علة؟ لمتابعة حركة السيارات أثناء مرورها في هذه الطرق لتجنب الحوادث	٢
	توضع في أماكن انتظار السيارات (الجراجات) ... علة؟ للتمكن من الاصطفاف	٣
	توضع على أرصفة السكك الحديدية والمترو ... علة؟ حتى يتمكن السائق من فتح وغلق الأبواب دون إصابة راكب	٤
	تستخدم في مراكز التسوق التي تحتاج إلى معدلات أمان عالية	٥

١- علق ؟ يوجد داخل صالون السيارة مرآة مستوية أمام السائق.  
لكي تعمل على تقدير المسافات الفعلية للسيارات التي تسير خلفها.

٢- ماذا يحدث عند ...؟ وضع مرآة مستوية على يمين ويسار السائق بدلاً من المرآة المحدبة.  
لن يتمكن السائق من كشف الطريق كاملاً من خلفه ، حيث تتكون صورة معكوسة مساوية لجزء من الطريق.

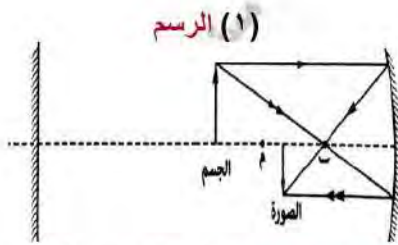


٣- في الشكل المقابل ، وضع جسم في منتصف المسافة بين

مرآة مقعرة بعدها البؤري ١٠ سم فتكونت له صورة  
بواسطة المرآة المستوية على بُعد ٣٠ سم منها :

(١) ارسم مسار الأشعة المكونة لصورة الجسم بالمرآة المقعرة.  
(٢) اذكر خواص الصورة المتكونة للجسم بواسطة المرآة المقعرة.

الحل



- ∴ صورة الجسم المتكونة بواسطة المرآة المستوية تكونت على بُعد ٣٠ سم
- ∴ بُعد الجسم عن المرآة المستوية يساوي ٣٠ سم
- ∴ الجسم موضوع في منتصف المسافة بين المرآة المقعرة والمرآة المستوية.
- ∴ المسافة بين الجسم والمرآة المقعرة يساوي ٣٠ سم
- ∴ البُعد البؤري للمرآة المقعرة يساوي ١٠ سم
- ∴ الجسم موضوع على بُعد أكبر من ضعف البُعد البؤري للمرآة المقعرة. (٢) خواص الصورة : حقيقية - مقلوبة - مصغرة.

٤- قارن بين ...؟ (١) المرآة المقعرة و المرآة المحدبة.

وجه المقارنة	المرآة المقعرة	المرآة المحدبة
<b>التعريف</b>	مرآة سطحها العاكس جزء من السطح الداخلي لكرة جوفاء	مرآة سطحها العاكس جزء من السطح الخارجي لكرة جوفاء
مكان مركز التكور	أمام المرآة	خلف المرآة
نوع البؤرة	حقيقية	تقديرية
نوع الصور المتكونة	حقيقية أو تقديرية	تقديرية دائماً
تأثيرها على الأشعة الضوئية الساقطة عليها	تُجمع الأشعة الضوئية	تُفرق الأشعة الضوئية

(٢) الصورة الحقيقية و الصورة التقديرية المتكونة بواسطة المرايا.

الصورة الحقيقية	الصورة التقديرية
<ul style="list-style-type: none"> <li>● يمكن استقبالها على حائل.</li> <li>● تتكون نتيجة تلاقي الأشعة الضوئية المنعكسة.</li> <li>● تكون مقلوبة دائماً.</li> <li>● تتكون في حالة استخدام : ١- المرآة المستوية وتكون مساوية للجسم. ٢- المرآة المقعرة عند وضع الجسم قبل البؤرة وتكون مكبرة.</li> <li>٣- المرآة المحدبة عند وضع الجسم على أي بُعد منها وتكون مصغرة.</li> <li>● تتكون أمام السطح العاكس للمرآة.</li> </ul>	<ul style="list-style-type: none"> <li>● لا يمكن استقبالها على حائل.</li> <li>● تتكون نتيجة تلاقي امتدادات الأشعة الضوئية المنعكسة.</li> <li>● تكون معتدلة دائماً.</li> <li>● تتكون في حالة استخدام : ١- المرآة المستوية وتكون مساوية للجسم. ٢- المرآة المقعرة عند وضع الجسم قبل البؤرة وتكون مكبرة.</li> <li>٣- المرآة المحدبة عند وضع الجسم على أي بُعد منها وتكون مصغرة.</li> <li>● تتكون خلف السطح العاكس للمرآة.</li> </ul>

# الأسئلة

## س ١ أكمل ما يأتي

- ١- المرآة ..... مرآة مجمعة بينما المرآة ..... مرآة مفرقة.
- ٢- الصورة ..... يمكن استقبالها على حائل بينما الصورة ..... لا يمكن استقبالها على حائل.
- ٣- الشعاع الضوئي الساقط ..... على السطح العاكس يرتد على نفسه بزاوية انعكاس تساوى .....
- ٤- تقع بؤرة المرآة المقعرة في منتصف المسافة بين ..... و .....
- ٥- الصور المتكونة لجسم بواسطة المرآة ..... تكون دائماً مصغرة و ..... وتقديرية.
- ٦- إذا كان بُعد الجسم عن مرآة مستوية ٢٠ سم فإن بعد الجسم عن الصورة يساوى .....
- ٧- مرآة مقعرة قطرها ٨٠ سم يكون بعدها البؤرى ..... سم.
- ٨- النقطة التي تتوسط السطح العاكس لمرآة مقعرة تسمى .....
- ٩- ظاهرة ارتداد الضوء إلى نفس وسط السقوط عندما يقابل سطحاً عاكساً تسمى .....
- ١٠- الشعاع الضوئي الساقط موازياً للمحور الأصلي لمرآة مقعرة ينعكس ماراً بـ .....

## س ٢ اكتب المصطلح العلمي

- ١- نقطة وهمية تتوسط السطح العاكس للمرآة.
- ٢- مركز الكرة المجوفة التي تكون المرآة جزءاً من سطحها.
- ٣- المسافة بين البؤرة الأصلية (ب) وقطب المرآة (ق).
- ٤- المستقيم المار بمركز تكور المرآة وقطبها.
- ٥- الصورة التي لا يمكن استقبالها على حائل.
- ٦- المسافة بين مركز تكور المرآة وأى نقطة على سطحها.
- ٧- المستقيم المار بمركز تكور المرآة وأى نقطة على سطحها غير قطبها.

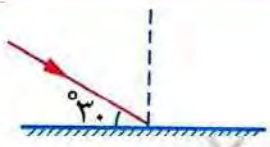

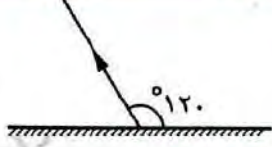
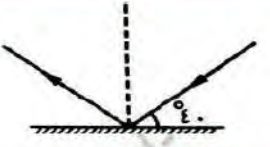
## س ٣ علل لما يأتي

- ١- وضع مرآة محدبة على يسار ويمين سائق السيارة.
- ٢- الشعاع الساقط عمودياً على سطح عاكس ينعكس على نفسه.
- ٣- لا يستطيع الكثير من الناس الكتابة بطريقة وهم ينظرون إلى الصفحة من خلال مرآة مستوية.
- ٤- الصورة الحقيقية يمكن استقبالها على حائل على عكس الصورة التقديرية.
- ٥- توضع مرآة محدبة على أرصفة السكك الحديدية.
- ٦- لا يمكن استقبال الصور المتكونة في المرآة المستوية على حائل.
- ٧- تُعرف المرآة المحدبة بالمرآة المفرقة.
- ٨- يمكن معرفة البعد البؤري لمرآة مقعرة بمعلومية نصف قطر تكورها.

## س ٤ متى يحدث كل مما يأتي

- ١- تكون صورة تقديرية مصغرة لجسم خلف المرآة.
- ٢- انعكاس شعاع ضوئي على نفسه عند سقوطه على سطح مرآة كرية.
- ٣- تكون صورة لجسم موضوع أمام مرآة مقعرة عند نفس موضعه.
- ٤- انعكاس شعاع ضوئي بزاوية صفر.

١- أوجد قيمة زاوية السقوط و زاوية الانعكاس في الأشكال التالية :

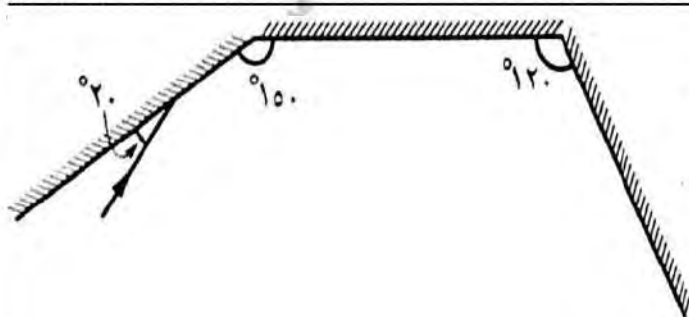
			
زاوية السقوط = ..... زاوية الانعكاس = .....	زاوية السقوط = ..... زاوية الانعكاس = .....	زاوية السقوط = ..... زاوية الانعكاس = .....	زاوية السقوط = ..... زاوية الانعكاس = .....

٢- وضح بالرسم فقط

سقوط شعاع ضوئي موازياً للمحور الأصلي على مرآة مقعرة.	جسم موضوع أمام مرآة مقعرة على بُعد أقل من البعد البؤري لها.
جسم موضوع أمام مرآة مقعرة على بُعد ٥ سم منها علماً بأن البعد البؤري لها ٤ سم	جسم موضوع أمام مرآة مقعرة على بُعد يساوي ضعف البعد البؤري.

٣- وضع جسم على بعد ٦ سم أمام مرآة كرية فتكونت له صورة على حائل وكان طول الصورة يساوي طول الجسم ، أجب عما يلي :

أ- البعد البؤري	ج- الرسم	د- موضع الصورة إذا وضع الجسم على بُعد ٨ سم
ب- ما نوع المرآة		
خواص الصورة :		

٤- إذا كانت الزاوية المحصورة بين الشعاع الضوئي الساقط والسطح العاكس تساوي  $130^\circ$  ، أوجد : قيمة زاوية الانعكاس.

٥- في الشكل التالي ، تتبع مسار الشعاع الضوئي الساقط ، ثم حدد مقدار كل من زاويتي السقوط والانعكاس على المرايا الثلاث.

## س ٧ صوب ما تحته خط

- ١- تعمل المرآة المستوية على تجميع الأشعة الضوئية.
- ٢- الصورة المتكونة خلف المرآة المقعرة دائماً تقديرية ، معتدلة ، مساوية للجسم.
- ٣- المرآة المقعرة التي قطر تكورها ٢٠ سم يكون بعدها البؤرى ٤٠ سم.
- ٤- توضع مرآة مستوية فى أماكن انتظار السيارات (الجراجات) للتمكن من الاصطفاف.
- ٥- إذا وضع جسم على بُعد ٨ سم من مرآة مقعرة بعدها البؤرى ٤ سم تتكون له صورة على بُعد ١٦ سم منها.
- ٦- الشعاع الضوئى الساقط ماراً ببؤرة المرآة المقعرة ينعكس على نفسه.
- ٧- نصف قطر تكور المرآة = نصف البعد البؤرى.
- ٨- عندما تقابل الأشعة الضوئية سطحاً عاكساً فإنها تنفذ.
- ٩- إذا سقط شعاع ضوئى عمودياً على سطح عاكس فإن زاوية الانعكاس تساوى ٣٠°.
- ١٠- المسافة بين الجسم وصورته فى المرآة المستوية نصف المسافة بين الجسم والمرآة.
- ١١- إذا كانت الزاوية المحصورة بين الشعاع الضوئى الساقط والسطح العاكس تساوى ٦٠° فإن زاوية الانعكاس تكون ٦٠°.
- ١٢- عند وضع جسم عند مركز تكور مرآة مقعرة ، تتكون له صورة مكبرة.
- ١٣- الصورة التقديرية يمكن استقبالها على حائل.

## س ٨ اختر الإجابة الصحيحة من بين الأقواس

- ١- فى الشكل المقابل ، زاوية الانعكاس تساوى .....
- 
- ( ٩٠° - ١٨٠° - ٣٦٠° - صفر )
  - ٢- إذا وضع جسم أمام مرآة مستوية ، فإن النسبة بين طول الصورة وطول الجسم .....
  - ( أقل من - تساوى - أكبر من - لا تساوى )
  - ٣- عند وضع جسم عند بؤرة مرآة محدبة ، تتكون له صورة .....
  - ( حقيقية مصغرة - حقيقية مساوية للجسم - حقيقية مكبرة - لا توجد إجابة صحيحة )
  - ٤- نقطة مضيئة تقع على بُعد ٢٠ سم من مرآة مقعرة بعدها البؤرى ١٠ سم تتكون له صورة .....
  - ( مصغرة - مساوية - مكبرة - لا توجد إجابة صحيحة )
  - ٥- وضع جسم مضى أمام مرآة مقعرة ..... فلو حظ عدم تكون له صورة.
  - ( عند المركز - بين البؤرة والمركز - بعد المركز - عند البؤرة )
  - ٦- البعد البؤرى للمرآة المقعرة يساوى .....
  - ( ٢نق -  $\frac{نق}{٢}$  - نق - نق<sup>٢</sup> )
  - ٧- إذا وضع جسم على بُعد ..... سم من مرآة مقعرة بعدها البؤرى ١٠ سم تتكون صورة مساوية له.
  - ( ٥ - ١٠ - ١٥ - ٢٠ )
  - ٨- المسافة بين مركز تكور المرآة وبؤرتها تساوى .....
  - ( نصف قطر التكور - ربع قطر التكور - قطر التكور - نصف البعد البؤرى )

يستعين كثير من الناس فى حياتهم بقطع ضوئية تصنع عادةً من الزجاج أو البلاستيك كما فى

٢- اصلاح الساعات	١- النظارات الطبية
حيث يستخدمها الساعاتي لرؤية الأجزاء الدقيقة فى الساعة عند اصلاحها	التي يستخدمها الكثير من الناس سواء للقراءة أو المشى
	
وتعرف القطع الضوئية المستخدمة فى مثل هذه الحالات باسم : <b>العدسات</b>	
<b>العدسة</b> هى وسط شفاف كاسر للضوء يحدده سطحان كريان.	

## أنواع العدسات

للعدسات عدة أنواع ،  
ومنها :

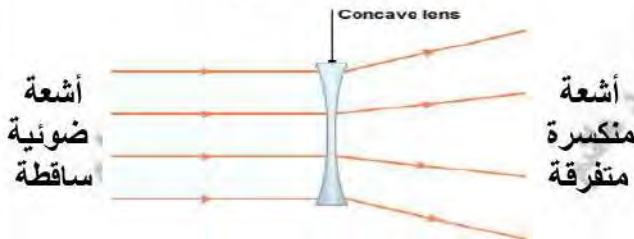
العدسات **المقعرة** (المفرقة)العدسات **المحدبة** (اللامة)

**العدسة المقعرة**  
هى قطعة ضوئية شفافة **رقيقة** عند منتصفها  
**سميكة** عند طرفيها.

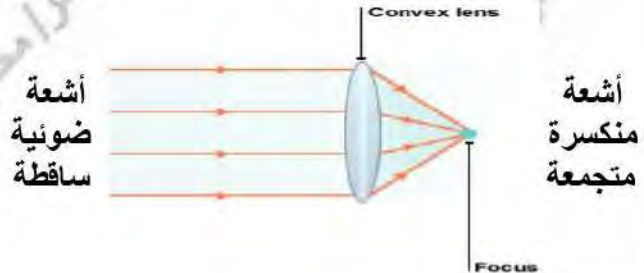
**العدسة المحدبة**  
هى قطعة ضوئية شفافة **سميكة** عند منتصفها  
**رقيقة** عند طرفيها.

علل ؟

تسمى **العدسة المقعرة بالعدسة المفرقة** .  
لأنها **تفرق** الأشعة الضوئية المتوازية  
الساقطة عليها بعد انكسارها  
( الأشعة الضوئية تنفذ منها متفرقة )



تسمى **العدسة المحدبة بالعدسة اللامة** .  
لأنها **تجمع** الأشعة الضوئية المتوازية  
الساقطة عليها بعد انكسارها  
( الأشعة الضوئية تنفذ منها متجمعة )



## المفهوم

الشكل التوضيحي للعدسة المقعرة	الشكل التوضيحي للعدسة المحدبة	
		<b>مركز تكور وجه العدسة (م)</b> هو مركز تكور الكرة التي يعتبر وجه العدسة جزء منها. لكل عدسة مركزي تكور (م) ، (م) ، ..... علل؟ لأن لها سطحان (وجهان) كريان.
		<b>نصف قطر تكور وجه العدسة (نق)</b> هو نصف قطر الكرة التي يعتبر وجه العدسة جزء منها.
		<b>المحور الأصلي للعدسة (م م)</b> هو المستقيم المار بمركزي تكور وجهي العدسة.
		<b>المركز البصري للعدسة (ص)</b> هو نقطة وهمية في باطن العدسة ، تقع على المحور الأصلي لها في منتصف المسافة بين وجهيها.
		<b>البؤرة الأصلية للعدسة (ب)</b> هي نقطة تجمع (أو تلاقى) الأشعة الضوئية المنكسرة أو امتداداتها ، وتنشأ من سقوط الأشعة المتوازية والموازية للمحور الأصلي للعدسة.
		<b>البعد البؤري للعدسة (ع)</b> هو المسافة بين البؤرة الأصلية (ب) والمركز البصري (ص).

ماذا يحدث عند ؟ سقوط حزمة من الأشعة الضوئية المتوازية والموازية للمحور الأصلي على أحد وجهي :

(٢) عدسة مقعرة	(١) عدسة محدبة
تنفذ الأشعة الضوئية من العدسة منكسرة متفرقة وكأنها صادرة من بؤرتها الأصلية	تنفذ الأشعة الضوئية من العدسة منكسرة متجمعة في بؤرتها الأصلية

علل ؟ للعدسة بؤرتين ، بينما للمرآة الكرية لها بؤرة واحدة.  
لأن العدسة لها سطحان كريان (كاسران) ، بينما المرآة الكرية لها سطح كروي واحد (عاكس).

قارن بين ؟ البؤرة الأصلية للعدسة المحدبة و البؤرة الأصلية للعدسة المقعرة.

البؤرة الأصلية للعدسة المقعرة	البؤرة الأصلية للعدسة المحدبة
<ul style="list-style-type: none"> <li>بؤرة تقديرية.</li> <li>تنشأ من تلاقى امتدادات الأشعة الضوئية المنكسرة.</li> </ul>	<ul style="list-style-type: none"> <li>بؤرة حقيقية.</li> <li>تنشأ من تلاقى الأشعة الضوئية المنكسرة.</li> </ul>

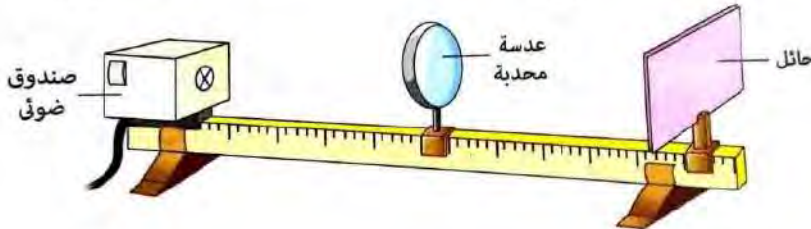


## تعيين موضع البؤرة الأصلية والبعد البؤري للعدسة المحدبة

## نشاط

تعيين موضع البؤرة الأصلية والبعد البؤري لعدسة محدبة

الأدوات المستخدمة : • عدسة محدبة. • حامل للعدسة. • حائل. • صندوق ضوئي به ثقب. • مسطرة طويلة.



## الخطوات :

١- ضع العدسة في الحامل بين الحائل والصندوق الضوئي.

## الملاحظة

- ٢- حرك الحائل قريباً وبعيداً أمام العدسة حتى تحصل على أوضح نقطة مضيئة عليه (صورة مصغرة جداً).  
٣- قس المسافة بين العدسة والحائل.
- تنفذ الأشعة الضوئية خلال العدسة متجمعة في نقطة تسمى البؤرة الأصلية للعدسة (ب).  
• المسافة بين العدسة والحائل تمثل البعد البؤري للعدسة.

## الاستنتاج

البعد البؤري للعدسة يساوي المسافة بين البؤرة الأصلية للعدسة ومركزها البصري.



**علل ؟** احتراق ورقة رقيقة موضوعة عند بؤرة عدسة محدبة موجهة لضوء الشمس.

لأن أشعة الشمس الساقطة تكون متوازية وموازية للمحور الأصلي للعدسة فتتكسر متجمعة في بورتها مما يؤدي لتكيز أشعة الشمس في تلك النقطة من الورقة وبالتالي ترتفع درجة حرارتها وتحترق.

## قواعد تحديد اتجاه الأشعة الضوئية بعد مرورها بالعدسة المحدبة

الشكل التخطيطي	مسار الشعاع الضوئي النافذ	مسار الشعاع الضوئي الساقط
	ينفذ على استقامته دون أن يعاني انكساراً	ماراً بالمركز البصري للعدسة (ص)
	ينفذ منكسراً ماراً بالبؤرة الأصلية (ب)	موازيًا للمحور الأصلي
	ينفذ منكسراً موازيًا للمحور الأصلي	ماراً بالبؤرة (ب)

## خطوات تحديد موضع وخواص الصور المتكونة بواسطة العدسة المحدبة

يمكن تحديد موضع وخواص الصور المتكونة بواسطة العدسة المحدبة باستخدام شعاعين فقط ،

كما يتضح فيما يلي :


الشكل التوضيحي	الخطوات
	<p>استخدم الفرجار في رسم دائرتين متماثلتين متقاطعتين بحيث تمثل :            • منطقة التقاطع : العدسة المحدبة.            • مركزي الدائرتين : مركزي تكور وجهي العدسة (م).</p>
	<p>ارسم خط مستقيم متقطع يصل بين مركزي تكور وجهي العدسة (م) ليمثل المحور الأصلي.</p>
	<p>ضع نقطة في منتصف العدسة على المحور الأصلي لتمثل مركزها البصري (ص)</p>
	<p>ضع نقطتان في منتصف المسافة بين كل من مركزي تكور وجهي العدسة (م) والمركز البصري (ص) لتمثلا بؤرتي العدسة (ب)</p>
	<p>ارسم سهماً رأسياً على المحور الأصلي عند موضع محدد ( ليكن بعد مركز التكور ) ليمثل موضع جسم مضى بالنسبة للعدسة المحدبة.</p>
	<p>ارسم من أعلى نقطة في السهم الممثل للجسم :            • شعاع يسقط موازياً للمحور الأصلي ، فينفذ منكسراً ماراً بالبؤرة.            • شعاع يمر بالمركز البصري (ص) ، فينفذ على استقامته بدون انكسار.</p>
	<p>ارسم سهم رأسه عند موضع التقاء الشعاعين ليمثل صورة الجسم.</p>
	<p>حدد موضع وخواص الصورة المتكونة للجسم.</p>
<p>☐ موضع الصورة :            بين البؤرة (ب) ، ومركز التكور (م)            ☐ خواص الصورة :            • حقيقية • مقلوبة • مصغرة.</p>	<p>كرر الخطوات من ٥ : ٨ عدة مرات مع تغيير موضع الجسم في كل مرة.</p>

## خواص الصور المتكونة بالعدسة المحدبة (اللامعة)

يختلف موضع وخواص الصور المتكونة بالعدسة المحدبة تبعاً لاختلاف موضع الجسم بالنسبة لها ،  
كما يتضح من الحالات الآتية :

خواص الصورة المتكونة	موضع الصورة بالنسبة للمرآة	شكل تخطيطي لمسار الأشعة	موضع الجسم بالنسبة للمرآة
<ul style="list-style-type: none"> <li>حقيقية</li> <li>مصغرة جداً (نقطة).</li> </ul>	الصورة على بُعد يساوي البعد البؤري (عند $b$ )		الجسم بعيداً جداً (الأشعة الساقطة متوازية وموازية للمحور الأصلي)
<ul style="list-style-type: none"> <li>حقيقية</li> <li>مقلوبة</li> <li>مصغرة</li> </ul>	الصورة على بُعد أكبر من البعد البؤري وأقل من ضعف البعد البؤري (بين $b$ ، $2b$ )		الجسم على بُعد أكبر من ضعف البعد البؤري (أبعد من مركز التكور $2b$ )
<ul style="list-style-type: none"> <li>حقيقية</li> <li>مقلوبة</li> <li>مساوية للجسم</li> </ul>	الصورة على بُعد يساوي ضعف البعد البؤري (عند $2b$ )		الجسم على بُعد يساوي ضعف البعد البؤري (عند مركز التكور $2b$ )
<ul style="list-style-type: none"> <li>حقيقية</li> <li>مقلوبة</li> <li>مكبرة</li> </ul>	الصورة على بُعد أكبر من نصف قطر التكور (أبعد من $2b$ )		الجسم على بُعد أكبر من البعد البؤري وأقل من نصف قطر التكور (بين البؤرة $b$ ، ومركز التكور $2b$ )
<p>في ما لا نهاية (على هيئة بقعة ضوئية) ، حيث لا تتكون صورة للجسم ... علة ؟</p> <p>لأن الأشعة الضوئية تنفذ من العدسة متوازية إلى ما لانهاية ولا تتلاقى</p>			الجسم على بُعد يساوي البعد البؤري (عند البؤرة $b$ )
<ul style="list-style-type: none"> <li>تقديرية</li> <li>معتدلة</li> <li>مكبرة</li> </ul>	الصورة أبعد من موضع الجسم بالنسبة للعدسة وفي نفس جهته		الجسم على بُعد أقل من البعد البؤري (قبل البؤرة $b$ )

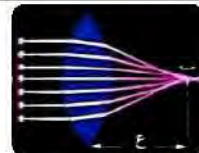
**ملحوظة :** يختلف موضع بؤرة العدسة المحدبة وبالتالي بعدها البؤري تبعاً لسُمكها كما يتضح فيما يلي :



العدسة المحدبة الرقيقة

بعدها البؤري كبير ... علة ؟

لنقص تحدب وجهي العدسة فتكون بؤرتها بعيدة عن مركزها البصري.



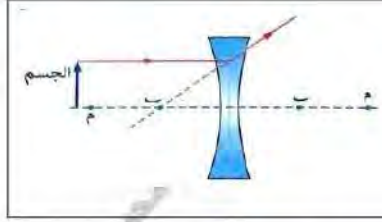
العدسة المحدبة السميكة

بعدها البؤري صغير ... علة ؟

لزيادة تحدب وجهي العدسة فتكون بؤرتها قريبة من مركزها البصري.

وبشكل عام

البعد البؤري للعدسة المحدبة السميكة أقل من البعد البؤري للعدسة المحدبة الرقيقة.  
لأن بؤرة العدسة المحدبة السميكة تكون أقرب إلى مركزها على عكس العدسة المحدبة الرقيقة.



ماذا يحدث عند سقوط شعاع ضوئي على عدسة مقعرة موازياً لمحورها الأصلي. **ينفذ الشعاع الضوئي منكسراً بحيث يمر امتداده بالبؤرة الأصلية للعدسة.**

### موضع وخواص الصور المتكونة بواسطة العدسة المقعرة

ABCDEF



العدسة المقعرة تكون دائماً صورة معتدلة مصغرة

• الصور المتكونة بواسطة العدسة المقعرة

دائماً تكون تقديرية معتدلة مصغرة

مهما اختلف بُعد الجسم ،

كما سيتضح من الجدول التالي :

موضع الجسم	شكل تخطيطي لمسار الأشعة	موضع الصورة	خواص الصورة المتكونة
أمام المرآة المحدبة (عند أي موضع)		الصورة أقرب من موضع الجسم بالنسبة للعدسة وفي نفس جهته	تقديرية. معتدلة. مصغرة.

علل ؟ **يستحيل الحصول على صورة حقيقية باستخدام عدسة مقعرة.**

لأن العدسة المقعرة تفرق الأشعة الضوئية الساقطة عليها بعد انكسارها فتتكون صورة تقديرية من تلاقي امتدادات الأشعة الضوئية المنكسرة فلا يمكن استقبالها على حائل.

فيما يلي إجمال حالات تكون الصور في المرايا والعدسات :

عندما تكون الصورة المتكونة :

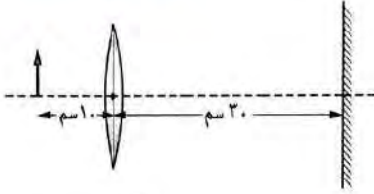
تقديرية	حقيقية
<p>مصغرة ↓</p> <p>□ يكون الجسم موضوع على أي بُعد أمام : • مرآة محدبة. • عدسة مقعرة.</p>	<p>مصغرة ↓</p> <p>□ يكون الجسم موضوع على بُعد أكبر من ضعف البعد البؤري أمام : • عدسة مقعرة. • عدسة محدبة.</p>
<p>مساوية للجسم ↑</p> <p>□ يكون الجسم موضوع على أي بُعد أمام مرآة مستوية.</p>	<p>مساوية للجسم ↓</p> <p>□ يكون الجسم موضوع على بُعد يساوي ضعف البعد البؤري أمام : • عدسة مقعرة. • عدسة محدبة.</p>
<p>مكبرة ↑</p> <p>□ يكون الجسم موضوع على أي بُعد أقل من البعد البؤري أمام : • مرآة مقعرة. • عدسة محدبة.</p>	<p>مكبرة ↓</p> <p>□ يكون الجسم موضوع على بُعد أكبر من البعد البؤري وأقل من ضعف البعد البؤري أمام : • مرآة مقعرة. • عدسة محدبة.</p>

**مثال ١** في الشكل المقابل ، وضع جسم أمام عدسة محدبة

ووضع خلفها مرآة مستوية وعند النظر للمرآة

وجد أنه لم تتكون صورة للجسم وعند تحريك الجسم

بعيداً عن العدسة ١٥ سم تكونت صورة مساوية له في الطول :



(١) حدد موضع الجسم بالنسبة للعدسة في الحالة الأولى.

(٢) احسب بُعد صورة الجسم المتكونة بالعدسة عن المرآة المستوية في الحالة الثانية.

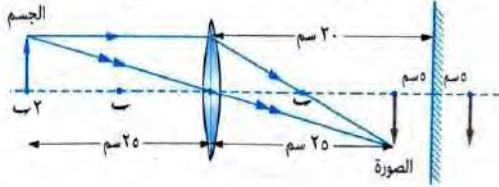
(٣) احسب المسافة بين الصورة المتكونة للجسم بالعدسة والصورة المتكونة لهذه الصورة بالمرآة.

**الحل**

(١) الجسم على بُعد أقل من البعد البؤري للعدسة.

(٢) بُعد الصورة المتكونة بالعدسة عن المرآة =  $٢٥ - ٣٠ = ٥$  سم

(٣) المسافة بين الصورتين =  $٥ + ٥ = ١٠$  سم



**مثال ٢** في الشكل المقابل ، وضع جسم بين عدسة محدبة

ومرآة مقعرة فتكونت له صور مساوية ، احسب :

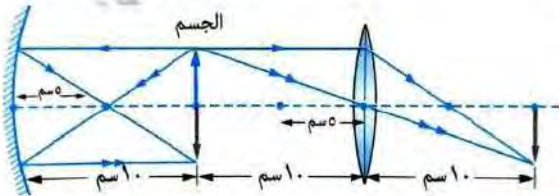
(١) البعد البؤري للمرآة المقعرة.

(٢) المسافة بين الصور المتكونة للجسم.

**الحل**

(١) البعد البؤري للمرآة المقعرة (ع) =  $\frac{١٠}{٢} = \frac{١٠}{٢}$  سم

(٢) المسافة بين الصورتين =  $١٠ + ١٠ = ٢٠$  سم



**مثال ٣** في الشكل المقابل ، وضع جسم في منتصف المسافة

بين عدسة محدبة بعدها البؤري ٦ سم ومرآة مستوية :

(١) اذكر خواص الصورة المتكونة بواسطة العدسة المحدبة.

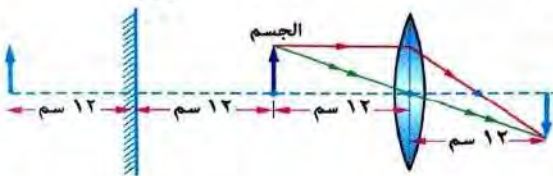
(٢) احسب المسافة بين الصورة المتكونة للجسم بواسطة العدسة المحدبة

والصورة المتكونة للجسم بواسطة المرآة المستوية.

**الحل**

(١) خواص الصورة : حقيقية - مقلوبة - مساوية للجسم.

(٢) المسافة بين الصورتين =  $١٢ + ١٢ + ١٢ + ١٢ = ٤٨$  سم



**مثال ٤** الشكل المقابل ، يوضح العلاقة بين نصف القطر (نق) والبعد البؤري (ع)

لأربع عدسات (١ ، ب ، ج ، د) :

(١) أي العدسات أكثر تحديباً ؟ ولماذا ؟

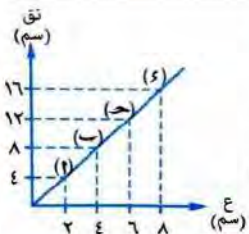
(٢) ماذا يحدث عند وضع جسم على بُعد ٨ سم من المركز البصري للعدسة (١) والعدسة (ب) ؟

**الحل**

(١) العدسة (١) أكثر تحديباً / لأن بعدها البؤري صغير فتكون بؤرتها قريبة من مركزها البصري.

(٢) • في حالة العدسة (١) تتكون صورة حقيقية مقلوبة مصغرة على بُعد أكبر من ٢ سم وأقل من ٤ سم من الجهة الأخرى للعدسة.

• في حالة العدسة (ب) تتكون صورة حقيقية مقلوبة مساوية للجسم على بُعد ٨ سم من الجهة الأخرى للعدسة.



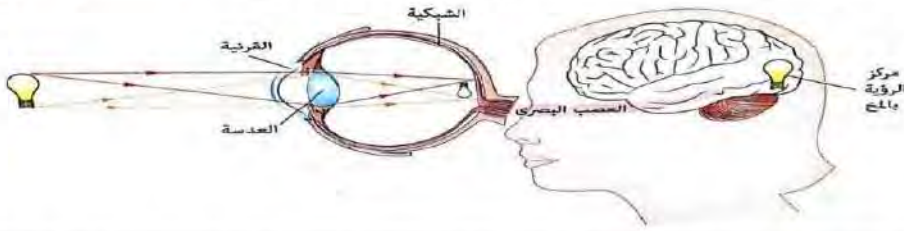
تستخدم العدسات في مجالات عديدة ، كما في :

تصميم بعض الأجهزة البصرية، مثل :

	المستخدمة في دراسة الأجرام السماوية ( حيث تكون صورة مقربة جداً )	التلسكوبات
	المستخدمة في فحص الأشياء الدقيقة التي يصعب رؤيتها بالعين المجردة ( حيث تكون صور مكبرة لها )	الميكروسكوبات
	المستخدمة في متابعة المعارك في الحروب	المنظير
صناعة النظارات الطبية		
	المستخدمة في تصحيح عيوب الإبصار	

### استخدام العدسات في تصحيح عيوب الإبصار

للاطلاع فقط



- قبل دراسة عيوب الإبصار ، يلزم التعرف أولاً على تركيب العين وكيفية الإبصار (الرؤية) :
- عندما تسقط الأشعة الضوئية الصادرة من الجسم على العين تنكسر أثناء مرورها بالقرنية ثم العدسة مكونة صورة حقيقية مقلوبة مصغرة على الشبكية.
- وعندما تصل الصورة إلى المخ عن طريق العصب البصري ، يعاد تصحيحها لتصبح معتدلة مساوية للجسم.

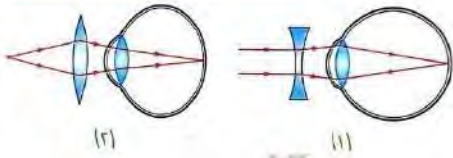
- الشخص العادي (سليم العينين) يري الأجسام بوضوح في مدى يتراوح بين ( ٢٥ سم : ٦ متر ) ، وعندما يختل وضوح الرؤية في هذا المدى، يكون هناك عيباً في الإبصار.

### أسباب عيوب الإبصار

- عدم انتظام كروية العين.
- عدم انتظام تحدب سطح عدسة العين

## وسوف نكتفى من عيوب الإبصار بدراسة :

٢- طول النظر	١- قصر النظر	
<p><b>طول النظر</b> هو عيب بصري يؤدي إلى رؤية الأجسام البعيدة بوضوح ، والقريبة مشوهة (غير واضحة).</p>	<p><b>قصر النظر</b> هو عيب بصري يؤدي إلى رؤية الأجسام القريبة بوضوح ، والبعيدة مشوهة (غير واضحة).</p>	
 <p>رؤية الأجسام البعيدة بوضوح</p>	 <p>رؤية الأجسام البعيدة مشوهة</p>	
<b>أسباب حدوثه</b>		
<p>١- نقص قطر كرة العين فتكون الشبكية قريبة من عدسة العين. ٢- نقص تحدب سطحى عدسة العين فيكون بعدها البؤرى كبير.</p>	<p>١- زيادة قطر كرة العين فتكون الشبكية بعيدة عن عدسة العين. ٢- زيادة تحدب سطحى عدسة العين فيكون بعدها البؤرى صغير</p>	
 <p>قطر كرة عين مصابة بطول النظر</p>	 <p>قطر كرة عين سليمة</p>	 <p>قطر كرة عين مصابة بقصر النظر</p>
<b>مما يؤدي إلى</b>		
<p>تجمع الأشعة الضوئية الصادرة من الجسم القريب في نقطة خلف الشبكية مكونة صورة غير واضحة على الشبكية</p>  <p>صورة مشوهة</p>	<p>تجمع الأشعة الضوئية الصادرة من الجسم البعيد في نقطة أمام الشبكية ثم تتفرق مكونة صورة غير واضحة على الشبكية</p>  <p>صورة مشوهة</p>	
<b>تصحيح عيوب الإبصار</b>		
<p>باستخدام نظارة طبية ذات عدسات محدبة ... <b>علل ؟</b> لتتجمع الأشعة قبل دخولها إلى العين لكي تتكون صورة واضحة للجسم على الشبكية</p>  <p>صورة واضحة</p> <p>تصحيح طول النظر بعدسة محدبة</p>	<p>باستخدام نظارة طبية ذات عدسات مقعرة ... <b>علل ؟</b> لتتفرق الأشعة قبل دخولها إلى العين لكي تتكون صورة واضحة للجسم على الشبكية</p>  <p>صورة واضحة</p> <p>تصحيح قصر النظر بعدسة مقعرة</p>	



### مثال ٥ الشكلاان المقابلان يوضحان كيفية تصحيح عيوب الإبصار :

- ( أ ) ما نوع عيب الإبصار المصحح في كل حالة.  
 (ب) ما موضع الصورة المتكونة قبل استخدام العدسة في كل حالة.

#### الحل

- ( أ ) عيب الإبصار : في الحالة (١) قصر نظر. / في الحالة (٢) طول نظر.  
 (ب) موضع الصورة : في الحالة (١) قبل الشبكية. / في الحالة (٢) بعد الشبكية.

### العدسات اللاصقة

#### الاستخدام



#### تستخدم العدسات اللاصقة

كوسيلة حديثة لتصحيح عيوب الابصار بدلاً من النظارات الطبية ، ويتم وضعها مباشرة على قرنية العين ، ويمكن نزعها بسهولة.

#### العدسة اللاصقة

هي عدسة رقيقة جداً من البلاستيك الشفاف ، تُوضع مباشرة على قرنية العين ، لتصحيح عيوب الأبصار.

### العلم والتكنولوجيا والمجتمع : مرض المياه البيضاء ( الكتاركت Cataract )



عين مصابة

عين سليمة

#### مرض المياه البيضاء (الكتاركت)

هو مرض يصيب العين ويسبب صعوبة في الرؤية نتيجة لإعتام عدسة العين.

#### أسبابه

- الاستعداد الوراثي.
- الإصابة ببعض الأمراض.
- كبر السن.
- التأثيرات الجانبية للعقاقير.

#### علاجه

بالتدخل الجراحي حيث يتم استبدال عدسة العين بعدسة بلاستيكية تزرع في العين على الدوام ، وبعدها يمكن الرؤية مرة أخرى وبدرجة عالية من الوضوح.

### العلم والتكنولوجيا والمجتمع :



تحديد المسافات باستخدام  
جهاز Total station

● يستخدم مساحو الأراضي وعلماء الطبوغرافيا أجهزة خاصة - كالموضحة بالشكل المقابل - في تحديد الارتفاعات والمسافات.

#### فكرة عملها

- ١- على إرسال حزمة من أشعة الليزر ، ثم استقبالها مرة أخرى بواسطة المرايا والعدسات المزودة بها هذه الأجهزة.
- ٢- حساب زمن رحلة أشعة الليزر ذهاباً وإياباً (من وإلى المصدر) ، وبمعلومية سرعة الضوء في الفراغ (  $3 \times 10^8$  م/ث )

$$\text{يتم حساب المسافة من العلاقة } F = \frac{C \times Z}{2}$$



# الأسئلة

## س ١ أكمل ما يأتي

- ١- البعد البؤري للعدسة المحدبة يساوى المسافة بين ..... و .....
- ٢- تستخدم العدسات اللاصقة بدلاً من ..... وهى مصنوعة من .....
- ٣- يُعرف مرض المياه البيضاء الذى يصيب العين باسم .....
- وقد يسببه ..... أو .....
- ٤- عيب الإبصار الناشئ عن نقص قطر كرة العين يسمى .....
- ٥- العدسة ..... تسمى بالعدسة اللامة بينما العدسة ..... تسمى بالعدسة المفرقة.
- ٦- البؤرة الأصلية فى العدسة المقعرة تكون ..... وفى العدسة المحدبة تكون .....
- ٧- لا يمكن تكوين صور حقيقية بواسطة العدسات ..... أو المرايا ..... و .....
- ٨- يحتاج الشخص المصاب بقصر النظر إلى نظارة طبية عدساتها .....
- ٩- إذا كانت المسافة بين البؤرة الأصلية والمركز البصرى لعدسة محدبة ١٠ سم فإن ضعف بُعدها البؤرى يساوى ..... سم
- ١٠- العدسة المحدبة ..... للضوء ، بينما المرآة المحدبة .....

## س ٢ اكتب المصطلح العلمى

- ١- المستقيم الواصل بين مركزي تكور وجهي العدسة ماراً بمركزها البصرى.
- ٢- نصف قطر الكرة التي يعتبر وجه العدسة جزءاً منها.
- ٣- رؤية الأجسام البعيدة بوضوح والقريبة مشوهة.
- ٤- المسافة بين البؤرة الأصلية (ب) والمركز البصرى للعدسة.
- ٥- مرض يصيب عدسة العين ويجعلها معتمة.
- ٦- قطعة ضوئية سميكة عند منتصفها ، ورقيقة عند الطرفين.
- ٧- وسط شفاف كاسر للضوء يحده سطحان كريان.
- ٨- نقطة وهمية فى باطن العدسة، تقع على المحور الأصى لها فى منتصف المسافة بين وجهيها.
- ٩- عيب بصرى يؤدي إلى تكون الصور أمام شبكية العين.
- ١٠- عدسات رقيقة جداً مصنوعة من البلاستيك وتستخدم بدلاً من النظارات الطبية وتوضع ملتصقة بقرنية العين ويمكن نزعها بسهولة.

## س ٣ وضع بالرسم مكان وخواص الصور المتكونة

١- سقوط شعاع علي أحد وجهي العدسة ماراً بالبؤرة.

٢- جسم موضوع أمام عدسة محدبة علي بعد أكبر من ضعف البعد البؤري.

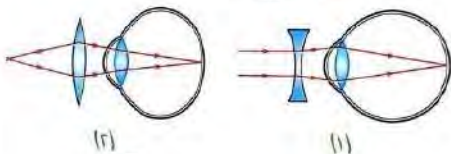
٣- سقوط شعاع ضوئي علي أحد وجهي العدسة ماراً بالمركز البصري للعدسة.

٤- جسم موضوع أمام عدسة محدبة بين ( ب ، م ).

٥- جسم موضوع امام عدسة محدبة قبل (ب).

٦- جسم موضوع امام عدسة مقعرة عند البؤرة.

س ٤ الشكلان التاليان يوضحان كيفية تصحيح عيوب الإبصار ، وضح :



( أ ) سبب عيب الإبصار المصحح في الحالة (١).

(ب) موضع الصورة المتكونة بعد استخدام العدسة في الحالة (٢).

- ١- يعاني بعض الأشخاص من طول النظر.
- ٢- العدسة المحدبة لها مركزي تكور بينما المرآة المحدبة لها مركز تكور واحد.
- ٣- لا تتكون صور لجسم موضوع عند بؤرة عدسة محدبة.
- ٤- يستخدم لعلاج قصر النظر عدسة مقعرة.
- ٥- بؤرة العدسة المقعرة تقديرية.

## س ٦ ما المقصود بكل من

- ١- المحور الاصلي للعدسة.
- ٢- البعد البؤري للعدسة.
- ٣- طول النظر.
- ٤- العدسة اللاصقة.

## س ٧ قارن بين كل من

- ١- العدسة المحدبة — العدسة المقعرة (من حيث نوع بورتها الأصلية)
- ٢- قصر النظر — طول النظر (من حيث العلاج — مكان الصورة علي الشبكية)
- ٣- العدسة المحدبة السميكة — العدسة المحدبة الرقيقة (من حيث البعد البؤري)

- (أ) وضع جسم طوله ٢ سم على بُعد ٥ سم من عدسة محدبة بُعدها البؤرى ٥,٢ سم اذكر :
- ١- بُعد الصورة المتكونة عن العدسة.
  - ٢- خواص الصورة المتكونة.
  - ٣- طول الصورة المتكونة.
  - ٤- بُعد الصورة عن الجسم.

- (ب) وضع جسم على بُعد ٨ سم من عدسة بعدها البؤرى ٥ سم :
- ١- ارسم رسماً تخطيطياً لمسار الأشعة المكونة لصورة الجسم. ٢- اذكر خواص الصورة المتكونة.
  - ٣- احسب نصف قطر تكور العدسة. ٤- مكان الصورة وخواصها إذا تحرك الجسم ٣ سم نحو العدسة.



- (ج) في الشكل المقابل ، وضع جسم مضيء عند النقطة (س) فكونت العدسة (أ) صورة حقيقية مقلوبة مساوية له على الحائل بينما العدسة (ب) لم تُكون صورة ، احسب : البعد البؤرى للعدستين.

## س ٩ صوب ما تحته خط

- ١- العدسة وسط شفاف عاكس للضوء يحده سطحان كريان.
- ٢- يتم وضع العدسات اللاصقة مباشرة على حدقة العين ويمكن نزعها بسهولة.
- ٣- تعمل كل من العدسة المقعرة والمرآة المستوية على تجميع الأشعة الضوئية الساقطة عليها.
- ٤- قصر النظر مرض يؤدي لإعتام عدسة العين.
- ٥- إذا وضع جسم على بُعد ٤٠ سم من عدسة محدبة بعدها البؤرى ٢٠ سم تتكون له صورة على بُعد ٢٠ سم منها.
- ٦- إذا سقط شعاع ضوئى ماراً بالمركز البصرى للعدسة المحدبة ، فإنه ينفذ ماراً بالبؤرة.
- ٧- البعد البؤرى للعدسة الرقيقة يساوى البعد البؤرى للعدسة السمكية.
- ٨- يتم تصحيح طول النظر باستخدام مرآة مقعرة.
- ٩- الجسم الموضوع عند مركز تكور عدسة محدبة تتكون له صورة تقديرية مكبرة.
- ١٠- تعتمد خواص الصورة المتكونة لجسم بواسطة العدسة المحدبة على طول الجسم بالنسبة لها.
- ١١- يعالج قصر النظر باستخدام نظارة طبية ذات عدسات محدبة.

## س ١٠ اختر الإجابة الصحيحة من بين الأقواس

- ١- إذا كان البعد البؤرى لعدسة مقعرة ٥ سم فإن نصف قطر تكور هذه العدسة يساوى ..... سم  
( ٥ - ١٠ - ١٥ - ٢٠ )
- ٢- إذا وضع جسم مضئ على بُعد ٨٠ سم من عدسة محدبة بعدها البؤرى ٥٠ سم ، تتكون له صورة على بُعد ..... سم من مركزها البصرى.  
( أكبر من ١٠٠ - ١٠٠ - ٥٠ - ٢٠ )
- ٣- الشخص سليم العينين يرى الأشياء القريبة بوضوح على مسافة لا تقل عن .....  
( ٢ سم - ٢٥ سم - ٦ متر - ١٠ متر )
- ٤- استخدم أمير عدسة محدبة لتجميع أشعة الشمس على ورقة رقيقة ، فحدث ثقب بالورقة وهذا يعنى أن المسافة بين العدسة والورقة كانت ..... البعد البؤرى لها.  
( أقل من - تساوى - أكبر من - لا توجد إجابة صحيحة )
- ٥- الصورة المتكونة لجسم موضوع أمام عدسة مقعرة على أى بُعد منها تكون .....  
( حقيقية مكبرة - تقديرية مصغرة - حقيقية مصغرة - تقديرية مكبرة )
- ٦- يحسب البعد البؤرى لعدسة من العلاقة الرياضية : ع = .....  
(  $\frac{1}{f} \times$  قطر تكور وجه العدسة -  $\frac{2}{نق}$  -  $نق \times ٢$  -  $\frac{1}{f} \times$  قطر تكور وجه العدسة )
- ٧- إذا وضع جسم على بُعد أكبر من ضعف البعد البؤرى لعدسة محدبة بعدها البؤرى ٥ سم ، تتكون له صورة حقيقية مقلوبة مصغرة على بُعد ..... سم  
( ٥ - ١٠ - ٨ - ٢٠ )
- ٨- من أسباب مرض المياه البيضاء .....  
( الاستعداد الوراثى - الشيخوخة - تأثير العقاقير - جميع ما سبق )

## الوحدة الثالثة الكون والنظام الشمسي

### الدرس الكون والنظام الشمسي

#### مفهوم الكون

##### الكون

هو الفضاء الممتد الذي يحتوي على المجرات والنجوم والكواكب والأقمار والكائنات الحية وكل الخليقة.

◀ لكون شاسع بما يفوق التصور، فالشمس والأرض معاً ما هما إلا جزء متناهى الصغر منه.

◀ وحدة بناء الكون هي المجرة.

◀ يحتوي الكون على حوالي ١٠٠ ألف مليون مجرة. تتجمع المجرات معاً مكونة عناقيد المجرات.

##### عناقيد المجرات

هي مجموعات المجرات التي تدور (تتجمع) معاً في الفضاء الكوني بتأثير الجاذبية.

##### المجرات

هي مجموعات النجوم التي تدور (تتجمع) معاً في الفضاء الكوني بتأثير الجاذبية.

◀ تتخذ كل مجرة شكلاً مميزاً .... علل ؟

لاختلاف تناسق وترتيب مجموعات النجوم بكل منها.

◀ تُعرف مجرتنا في الكون باسم :

● مجرة الطريق اللبني.

أو

● مجرة درب التبانة .... علل ؟

لأن تجمع النجوم بها يشبه التبن المنثور (المبعثر).

##### مجرة درب التبانة

◀ تعتبر مجرة درب التبانة من المجرات اللولبية (الحلزونية)

◀ تحتوي على ملايين النجوم التي تدور حول مركز المجرة في مدارات ثابتة.

◀ يتجمع في مركز المجرة النجوم القديمة (الأكثر عمراً)

والتي تحاط بهالة من النجوم الصغيرة (الأحدث عمراً)

الواقعة في الأذرع اللولبية للمجرة.

◀ يُعد نجم الشمس أحد هذه النجوم التي تقع في إحدى الأذرع اللولبية للمجرة.




## النظام الشمسي

يحتوى على نجم واحد  
هو الشمس  
ويدور حوله ٨ كواكب

يقع النظام الشمسي (المجموعة الشمسية) على حافة مجرة درب التبانة فى إحدى أذرعها الحلزونية.

## الشمس

يُرى نجم الشمس من سطح الأرض وكأنه أكبر نجم.  
تدور الشمس وما حولها من كواكب حول مركز المجرة.  
تستغرق الشمس حوالى ٢٢٠ مليون سنة لتكمل دورة واحدة حول مركز مجرة درب التبانة.



تدور الأرض فى مدار ثابت بفعل جاذبية الشمس

## ملاحظات

- قوة الجاذبية هي المسئولة عن :
  - بقاء كواكب النظام الشمسي فى أفلakها (مداراتها) حول الشمس.
  - دوران الأقمار فى مداراتها حول الكواكب.
- كلما زاد البُعد بين الكوكب والشمس تقل الجاذبية بينهما وتصبح حركة الكواكب أبطأ.

## ماذا يحدث لو ؟ انعدمت الجاذبية بين الكواكب السيارة والشمس.

لن تدور الكواكب فى مداراتها المحددة حول الشمس لكنها ستتحرك بشكل عشوائى فى الفضاء وبالتالي لن يكون هناك نظام شمسي.

ويمكن إجمال ما سبق فى المخطط التالى :



## قياس الأبعاد والمسافات بين الأجرام السماوية فى الكون

لا تقاس المسافات بين الأجرام السماوية (النجوم) بوحد الكيلو متر، بل بوحد السنة الضوئية عل؟  
لأن المسافات بين الأجرام السماوية (النجوم) شاسعة جداً.

السنة الضوئية هي المسافة التى يقطعها الضوء فى سنة وتساوى ٩,٤٦ × ١٠<sup>١٢</sup> كم

للإيضاح فقط :

يمكن حساب المسافة التى يقطعها الضوء فى سنة ( السنة الضوئية ) من العلاقة :  
 المسافة = السرعة × الزمن  
 المسافة = سرعة الضوء × السنة الأرضية  
 = ٣٠٠٠٠٠ (كم/ث) × (يوم) × ٢٤ (ساعة) × ٦٠ (دقيقة) × ٦٠ (ثانية)  
 = ٩٤٦٠٨٠٠ مليون كيلو متر = ٩,٤٦ × ١٠<sup>١٢</sup> كم

## نشاط

## مفهوم تمدد الكون



## المواد الأدوات المستخدمة :

- دقيق.
- ماء دافئ.
- خميرة خبز.
- زبيب.
- إناء زجاجي.

## الخطوات :

- 1- اخلط الدقيق والخميرة بالماء الدافئ جيداً في الإناء الزجاج لعمل عجينة متماسكة.
- 2- اغرس حبيبات الزبيب على سطح العجين.
- 3- اترك العجين في مكان دافئ حتى يختمر.

## الملاحظة :

انتفاخ (تمدد) العجين يؤدي إلى تباعد حبيبات الزبيب عن بعضها بمرور الوقت.

## الاستنتاج :

إذا اعتبرنا أن العجين يمثل الكون وحبيبات الزبيب تمثل المجرات ، فإن :



ظاهرة تمدد الكون بمرور الزمن

تمدد الكون

يشبه

انتفاخ العجين

تباعد المجرات عن بعضها في الكون

يمثل

تباعد حبيبات الزبيب

التمدد المستمر للكون

بخى

زيادة المسافات بين حبيبات الزبيب بمرور الزمن

مما سبق يمكن تعريف تمدد الكون ، كالتالي :

**تمدد الكون** هو التباعد المستمر بين المجرات في الكون نتيجة لحركتها المنتظمة.

**علل ؟** الاتساع المستمر للفضاء الكوني.

لأن الكون يتمدد باستمرار نتيجة لحركة المجرات المنتظمة.

## تفسير نشأة الكون

• رغم أنه لم يكن أحداً موجوداً عند نشأة الكون ليرى لنا كيف نشأ.

إلا أن العلماء تمكنوا من اقتفاء (تتبع) تاريخ الكون منذ اللحظات الأولى لنشأته ... **علل ؟**

لأن الاكتشافات الحديثة في علمي الفيزياء والفلك مكنت العلماء من ذلك.

• وتعتبر نظرية الانفجار العظيم من أهم النظريات التي فسرت نشأة الكون.



صورة تخيلية  
للانفجار العظيم

## تفترض نظرية الانفجار العظيم:

- أن بداية الكون كانت عبارة عن كرة غازية ضئيلة الحجم جداً ومرتفعة الضغط ودرجة الحرارة.
- حدث انفجار هائل لهذه الكرة منذ حوالي ١٥٠٠٠ مليون سنة فتناثرت مكوناتها في الفضاء وتبع ذلك عمليتي تمدد وتغير مستمرين حتى الآن.
- تولد عن هذا الانفجار كل أشكال المادة والطاقة والفضاء والزمن.

في ضوء ما سبق يمكن تعريف نظرية الانفجار العظيم، كالتالي:

## نظرية الانفجار العظيم

هي نظرية تفسر نشأة الكون من انفجار هائل منذ ١٥٠٠٠ مليون سنة تولد عنه كل أشكال المادة والطاقة والفضاء والزمن وتبعه عمليتي تمدد وتغير مستمرين.



أرنو بانزياس و روبرت ويلسون

## للاطلاع فقط:

اكتشف العالمان بانزياس و ويلسون بالمصادفة العلمية موجات راديو قادمة من الفضاء وقد توصلوا إلى أن هذه الموجات نوع من الصدى الناجم عن الانفجار العظيم ، والذي لا يزال يتردد في الكون وقد حصلوا في عام ١٩٧٨ م على جائزة نوبل للفيزياء تقديراً لهذا الاكتشاف.

## الشكل والجدول الآتيين يوضحان:

## مراحل تطور نشأة الكون منذ لحظة الانفجار العظيم



تطور نشأة الكون

	انفجرت الكرة الغازية التي نشأ منها الكون وبدأت عمليتي التمدد والتغير	لحظة الانفجار العظيم ١
	<ul style="list-style-type: none"> <li>أصبحت درجة الحرارة حوالي ١٠٠٠٠ مليون درجة مئوية.</li> <li>تلاحمت الجسيمات الذرية مكونة سحباً من غازى الهيدروجين (<math>H_2</math>) و الهيليوم (He) بنسبة ٧٥ % : ٢٥ % على الترتيب، واللذان انتجا المجرات والنجوم والكون عبر ملايين السنين</li> </ul>	بعد مرور عدة دقائق ٢
	تجمعت المادة المتكونة سابقاً في صورة كتل	بعد حوالي ١٠٠٠ مليون سنة ٣
	تجمعت هذه الكتل السابقة مكونة كتل أكبر (اسلاف المجرات) بفعل الجاذبية تاركة مناطق من الفضاء الخاوى بينها	بعد حوالي ٢٠٠٠ : ٣٠٠٠ مليون سنة ٤
	بدأ تشكل المجرات	بعد حوالي ٣٠٠٠ مليون سنة ٥
	اتخذت مجرة درب التبانة الشكل القرصى	بعد حوالي ٥٠٠٠ مليون سنة ٦
	تكون نجم الشمس ثم نشأت الأرض وباقي كواكب المجموعة الشمسية	بعد حوالي ١٠٠٠٠ مليون سنة ٧
	بدأ ظهور أشكال الحياة الأولى على الأرض	بعد حوالي ١٢٠٠٠ مليون سنة ٨
	ظهر الكون بشكله الحالى	بعد حوالي ١٥٠٠٠ مليون سنة ٩

## نظريات نشأة المجموعة الشمسية

تعددت النظريات العلمية والفلسفية حول نشأة المجموعة الشمسية حتى وصلت إلى ٢٠ نظرية ، جميعها غير مؤكدة حتى الآن ،

وسوف نكتفى بدراسة ثلاث نظريات منها ، وهي :

أولاً نظرية السديم للعالم لابلاس.

ثانياً نظرية النجم العابر للعالمين تشمبرلن ومولتن.

ثالثاً النظرية الحديثة للعالم فريد هويل.

## أولاً نظرية السديم للعالم لابلاس ١٧٩٦ م



العالم لابلاس

◀ نشر العالم الفرنسي " بيير سيمون لابلاس "

في عام ١٧٩٦م بحثاً بعنوان " نظام العالم " .  
تضمن تصوره عن نشأة المجموعة الشمسية.

تأثر لابلاس عند وضع نظريته بمشاهدين ، هما :


١- السحاب أو السديم الموجود في الفضاء.

٢- الحلقات السحابية أو السديمية المحيطة

ببعض الكواكب مثل كوكب زحل.

◀ وقد حاز تصور لابلاس عن نشأة المجموعة الشمسية

على شهرة كبيرة لمدة قرن من الزمن.



حلقات كوكب زحل

## فروض النظرية أصل المجموعة الشمسية هو السديم


## السديم

هو كرة غازية متوهجة كانت تدور حول نفسها ويفترض أنها كونت المجموعة الشمسية.

	◀ نشأت المجموعة الشمسية من كرة غازية متوهجة كانت تدور حول نفسها ، أطلق عليها اسم السديم.	المرحلة الأولى تقلص السديم (كرة غازية)
	◀ بمرور الزمن فقد السديم حرارته تدريجياً ما أدى إلى تقلص حجمه ، وزيادة سرعة دورانه حول محوره (نفسه).	
	أدت القوة الطاردة المركزية الناشئة عن دوران السديم حول محوره إلى : ◀ فقدان السديم شكله الكروي ، وأصبح شكله قرصى مسطح دوار.	المرحلة الثانية تشكل الحلقات الغازية
	◀ انفصال أجزاء من السديم على هيئة حلقات غازية أخذت في الدوران حول الكتلة الملتهبة المتبقية منه وفي نفس اتجاهها.	
	◀ شكلت الحلقات الغازية بعد ما بردت وتجمدت كواكب المجموعة الشمسية بينما شكلت الكتلة الملتهبة المتبقية في المركز ... الشمس.	المرحلة الثالثة تشكل المجموعة الشمسية

## ثانياً نظرية النجم العابر للعالمين تشمبرلان و مولتن ١٩٠٥ م

## فروض النظرية أصل المجموعة الشمسية نجم كبير هو الشمس

	١ اقتراب من الشمس نجم آخر عملاق ( نجم عابر )
	٢ تمدد جانب الشمس المواجه للنجم العملاق نتيجة لقوة جذب هذا النجم العملاق للشمس
	٣ حدث انفجار في الجزء الممتد من الشمس أدى إلى : • تحرر الشمس من جاذبية هذا النجم العملاق. • تكوّن خط غازي ممتد من الشمس وحتى آخر الكواكب (التي تكونت فيما بعد).
	٤ تكثف الخط الغازي بسبب قوى التجاذب ، ثم برد مكوناً لكواكب السيارة.

## ثالثاً ثالثاً النظرية الحديثة للعالم فريد هويل ١٩٤٤ م

- بنى العالم فريد هويل نظريته حول نشأة المجموعة الشمسية على أساس ظاهرة فلكية شهيرة تُعرف بظاهرة انفجار النجوم.

## ظاهرة انفجار النجوم

ظاهرة انفجار النجوم هي توهج نجم ما لمدة قصيرة ليصبح من ألمع نجوم السماء ثم يختفي توهجه تدريجياً ليعود إلي ما كان عليه.

وتفسير هذه الظاهرة ليس معروفاً على وجه التحديد حتى الآن.



فريد هويل

## إحدى محاولات تفسير ظاهرة انفجار النجوم



انفجار النجوم

- ١- تحدث تفاعلات نووية فجائية عنيفة داخل النجم تؤدي إلى انفجاره.
- ٢- يقذف النجم - نتيجة لهذا الانفجار - كميات هائلة من الغازات الملتهبة مما يؤدي إلى زيادة حجمه ولوعانه.
- ٣- عندما تبرد الغازات الملتهبة المندفعة ، يعود لمعان النجم إلى ما كان عليه سابقاً.

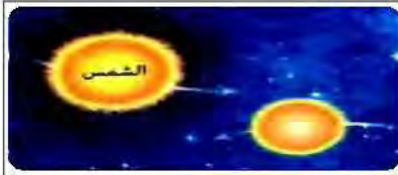


نجم ثنائى

## للاطلاع نفض

توجد معظم النجوم في صورة ثنائيات متقاربة ، يدور فيها الواحد حول الآخر وتُعرف مثل هذه النجوم بالنجوم الثنائية Binary Stars وينظر رؤية هذه النجوم منفصلة عن بعضها بالعين المجردة وأحياناً بالتلسكوبات


## فروض النظرية أصل المجموعة الشمسية نجم آخر غير الشمس



١ كان يدور بالقرب من الشمس نجم آخر



٢ انفجر هذا النجم  
نتيجة للتفاعلات النووية الفجائية داخله



٣ أدت قوة الانفجار إلى  
اندفاع نواة هذا النجم بعيداً عن جاذبية الشمس  
وتبقت سحابة غازية من هذا النجم حول الشمس



٤ تعرضت السحابة الغازية المتبقية  
إلى عمليات تبريد وانكماش  
أدت إلى تكوّن الكواكب السيارة



٥ اتخذت الكواكب مداراتها المعروفة حول الشمس  
بفعل قوة جذب الشمس  
التي تحكمت في مدارات هذه الكواكب

## العلم والتكنولوجيا والمجتمع

بعض الأجهزة المستخدمة في اكتشاف الفضاء الخارجي :

☐ يستخدم الفلكيون عند دراسة الشمس معدات خاصة مرتكزة على الأرض  
كالتلسكوب الشمسي أو محمولة في الفضاء كتلسكوب هابل.

## ١- التلسكوب (المقراب) الشمسي

☐ أهمية التلسكوب الشمسي : تكوين صور كاملة للشمس لتسهيل دراستها.  
☐ كيفية عمل التلسكوب الشمسي :

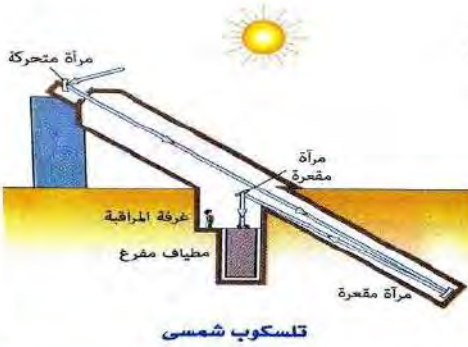
- تنعكس أشعة الشمس لتسقط على مرآة مقعرة توجد عند مؤخرة المنظار في نفق على عمق كبير تحت سطح الأرض.
- تنعكس أشعة الشمس مرة ثانية لتسقط على مرآة مقعرة أخرى أعلى مطياف ضخم فتتجمع في بؤرة داخل المطياف.
- يُظهر المطياف الأطوال الموجية للموجات المختلفة الصادرة من الشمس.
- تتكون صورة كاملة للشمس في غرفة المراقبة.

والجدير بالذكر أن معظم معلومات الفلكيين عن الشمس حصلوا على معلومات عن الشمس من دراسة أطيافها.

## ٢- تلسكوب هابل

◀ يُعد تلسكوب هابل من التلسكوبات الفضائية.

◀ اطلق تلسكوب هابل في ابريل ١٩٩٠م وهو يدور حول الأرض على ارتفاع ٥٠٠ كم  
أهمية تلسكوب هابل : رصد صوراً للكون يرجع عمرها الي ملايين السنين ،  
تتيح لعلماء الفضاء فرصة الاطلاع على الكون منذ نشأته بعد الانفجار العظيم.



تلسكوب شمسي



مرصد فلكي

« مرصد كيت بيك »

## للإطلاع فقط

يعتبر التلسكوب الشمسي مك ماث الموجود في مرصد كيت بيك بولاية أريزونا الأمريكية أكبر تلسكوب شمسي في العالم ، وهو يستخدم في دراسة البقع الشمسية ونافورات اللهب على سطحها.



نموذج لتلسكوب هابل

# الأسئلة

## س ١ أكمل ما يأتي

- ١- تستغرق الشمس ..... مليون سنة لتكمل دورة واحدة حول .....
- ٢- تعتبر ..... وحدة بناء الكون وعددها في الكون حوالي .....
- ٣- تتخذ كل مجرة شكلاً مميزاً حسب ..... و ..... مجموعات النجوم بها.
- ٤- تقاس المسافات في الفضاء ..... وهي تساوى ..... كم
- ٥- بعد دقائق من حدوث الانفجار العظيم تلاحمت الجسيمات الذرية مكونة سحباً من غازي ..... و ..... : ..... على الترتيب اللذان أنتجا المجرات والنجوم والكون عبر ملايين السنين.
- ٦- تفسر نظرية الانفجار العظيم نشأة ..... بينما تفسر نظرية السديم نشأة .....
- ٧- توجد المجرات في ..... من بينها مجرة ..... التي تحتوى على نجم الشمس.
- ٨- تتجمع النجوم الأكبر عمراً (القديمة) في ..... مجرة درب التبانة والأحدث عمراً في ..... لها
- ٩- مؤسس نظرية السديم لنشأة المجموعة الشمسية هو العالم ..... بينما مؤسس النظرية الحديثة هو العالم .....
- ١٠- تتجمع ..... معاً بتأثير الجاذبية مكونة المجرات وتتجمع المجرات معاً بنفس الكيفية مكونة .....

## س ٢ صوب ما تحته خط

- ١- كوكب زحل هو كوكب الحياة.
- ٢- نشر العالم إسحق نيوتن بحثاً بعنوان نظام العالم عام ١٨٦٩م
- ٣- النجم العابر هو أكبر نجم يمكن رؤيته من على سطح الأرض.
- ٤- تقع المجموعة الشمسية في مجرة أندروميديا
- ٥- تم وضع التلسكوب الفضائي مك مات في مدار حول الأرض على ارتفاع ٥٠٠ كم
- ٦- نظرية السديم تفسر نشأة الكون.
- ٧- السنة الأرضية هي المسافة التي يقطعها الضوء في سنة.
- ٨- النيتروجين و الهيدروجين الغازان اللذان أنتجا المجرات والنجوم والكون.
- ٩- تأثر لابلاس عند وضع نظرية النجم العابر بشكل كوكب عطارد في الفضاء.

## س ٣ اكتب المصطلح العلمي

- ١- يشمل جميع المجرات والنجوم والكواكب والأقمار والكائنات الحية.
- ٢- تقع في أحد الأذرع الحلزونية لمجرة درب التبانة.
- ٣- المجرة التي تنتمي إليها المجموعة الشمسية.
- ٤- المسافة التي يقطعها الضوء في سنة.
- ٥- نظرية افترضت أن أصل المجموعة الشمسية نجم كبير هو الشمس.
- ٦- قرص غازي مستدير كَوْن كواكب النظام الشمسي.
- ٧- التباعد المستمر بين المجرات في الكون نتيجة لحركتها المنتظمة.
- ٨- قوة مسنولة عن بقاء كواكب النظام الشمسي في أفلاكها.
- ٩- توهج نجم ما لمدة قصيرة ليصبح من ألمع نجوم السماء، ثم اختفاء توهجه تدريجياً ليعود إلى ما كان عليه.
- ١٠- تحتوى على نجم الشمس والنظام الشمسي.

## س ٤ علل لما يأتي

- ١- الاتساع المستمر للفضاء الكوني.
- ٢- اختلاف اشكال المجرات المكونة للكون.
- ٣- لا تقدر المسافات بين النجوم بوحدة الكيلو متر.
- ٤- تتباعد المجرات عن بعضها البعض.
- ٥- فقدان السديم شكله الكروي وتحوله إلى شكل قرصي مسطح دوار تبعاً لنظرية السديم.
- ٦- انفجار بعض النجوم بشكل مفاجئ.
- ٧- تمكن العلماء من دراسة تاريخ الكون منذ اللحظة الأولى لنشأته.

## س ٥ ماذا يحدث لو

- ١- زاد البعد بين الكواكب السيارة والشمس.
- ٢- انعدمت الجاذبية بين الكواكب السيارة والشمس.

## س ٦ اكتب ما تشير إليه الارقام

- ١- ٢٢٠ مليون سنة.
- ٢- ٧٥ % : ٢٥ %
- ٣- عام ١٩٠٥ م
- ٤- ١٥٠٠٠ مليون سنة.
- ٥- عام ١٩٣٣ م

## س ٧ ما النتائج المترتبة على

- ١- تباعد المجرات عن بعضها بمرور الزمن.
- ٢- حدوث انفجار نووى لنجم بالقرب من الشمس تبعاً لنظرية فريد هويل.
- ٣- فقد السديم حرارته تبعاً لنظرية لابلاس.
- ٤- حدوث الانفجار العظيم.
- ٥- اقتراب نجم عملاق من الشمس تبعاً لنظرية النجم العابر.
- ٦- اندماج الجسيمات الذرية بعد دقائق من الانفجار العظيم.
- ٧- استخدام العلماء التلسكوب الشمسى.



# الوحدة الرابعة التكاثر واستمرار النوع

## الانقسام الخلوي

### الدرس الأول

خلايا أجسام الكائنات الحية الراقية (عديدة الخلايا)

نوعين

### خلايا تناسلية

هي

خلايا المناسل  
( خلايا متخصصة لإنتاج الأمشاج )

في

النباتات الزهرية

الإنسان والحيوان

تشمل

تشمل

خلايا المتك

خلايا المبيض

خلايا الخصية

تنتج

حبوب النقاح  
( أمشاج مذكرة )

البويضات  
( أمشاج مؤنثة )

الحيوانات المنوية  
( أمشاج مذكرة )

وهي

الخلايا الجنسية

### خلايا جسدية

تشمل

جميع خلايا الجسم  
ما عدا المناسل

مثل

خلايا ( الجذر ، الساق ،  
الأوراق ، البذور )  
في النباتات الزهرية

خلايا ( الجلد ، الكبد ،  
الكلية ، الرحم ... )  
في الإنسان والحيوان

### الكروموسومات

- تعتبر النواة هي الجزء المسئول عن عملية الانقسام الخلوي في الخلية ، حيث تحتوي نواة كل خلية على المادة الوراثية للكائن الحي على هيئة أجسام خيطية الشكل تسمى الكروموسومات (الصبغيات).

### الكروموسومات

هي أجسام خيطية الشكل توجد في أنوية الخلايا وتمثل المادة الوراثية للكائن الحي.

### للاطلاع فقط

ترجع تسمية الكروموسومات بالصبغيات إلى أنه لا يمكن رؤيتها أثناء الانقسام الخلوي إلا بعد صبغها بأصبغ خاصة



توجد الكروموسومات  
في نواة الخلية

التركيب الكيميائي	التركيب العام
<p>يتكون الكروموسوم من :</p> <ul style="list-style-type: none"> <li>حمض نووي يسمى DNA ، يحمل المعلومات الوراثية (الصفات الوراثية) للكائن الحي الراقى (عديد الخلايا).</li> <li>بروتين.</li> </ul>	<p>يتركب الكروموسوم ( أثناء انقسام الخلية ) من خيطين متماثلين - يسمى كل منهما كروماتيد - ملتصقان معا عند السنترومير.</p>
<p><b>DNA</b></p> <p>هو الحمض النووي الذي يحمل المعلومات الوراثية للكائن الحي</p>	<p><b>السنترومير</b></p> <p>هو منطقة اتصال كروماتيدي الكروموسوم معا</p>

ويمكن تلخيص ما سبق في المخطط التالي :



### عدد الكروموسومات

- يختلف عدد الكروموسومات في الكائنات الحية من نوع لآخر.
- عدد الكروموسومات ثابت في أفراد النوع الواحد.
- يختلف عدد الكروموسومات في الخلايا الجسدية والتناسلية عن عددها في الخلايا الجنسية لنفس الكائن الحي.

كما يتضح فيما يلي :

الخلايا الجسدية والتناسلية	الخلايا الجنسية (الأمشاج)
يحتوى كل منهما على	
العدد الكامل (مجموعتين متساويتين) من الكروموسومات (احدهما مورثة من الأب والآخرى من الأم)	نصف عدد الكروموسومات الموجودة بالخلية الجسدية (أو التناسلية)
يُعرف عدد الكروموسومات بها	
بالعدد الثنائي ويرمز له بالرمز (2N)	بالعدد الأحادي ويرمز له بالرمز (N)

**مثال ١** إذا كان عدد الكروموسومات في خلية جلد إنسان ٤٦ كروموسوم، فما عدد الكروموسومات في خلاياه التالية :

- خلية مبيضة.
- خلية بنكرياس.
- خلية حيوان منوى.
- خلية خصية.
- خلية بويضة.

**الحل** ١- ٤٦ ٢- ٤٦ ٣- ٢٣ ٤- ٤٦ ٥- ٢٣

**للاطلاع فقط :** الجدول التالي يوضح عدد الكروموسومات في الخلايا الجسدية لبعض الكائنات الحية :

الكائن الحي	الأرنب	الكلب	ملكة النحل	ذبابة الفاكهة	الذرة	البسلة
عدد الكروموسومات	٤٤	٧٨	٣٢	٨	٢٠	١٤

- تمثل الكروموسومات المادة الوراثية للكائن الحي.
- تساعد معرفة عدد الكروموسومات في تحديد أنواع الكائنات الحية ، فكل نوع عدد محدد من الكروموسومات مميز له.
- تقوم الكروموسومات بالدور الرئيسي في عملية الانقسام الخلوي.

## الانقسام الخلوي

الانقسام الخلوي نوعين هما :



### أولاً الانقسام الميوزي

**مكان حدوثه :** يحدث في الخلايا الجسدية فقط مثل :

- خلايا ( البنكرياس ، الجلد ، الكبد ، الكلية ، ..... ) في الإنسان والحيوان.
- خلايا ( الجذر ، الساق ، الأوراق ، البذور ، ..... ) في النبات.

#### ملحوظة

لا تنقسم بعض الخلايا الجسدية مطلقاً ،

مثل :

- خلايا (كرات) الدم الحمراء البالغة.
- الخلايا العصبية.

#### للاطلاع فقط

لأنها لا تحتوي على نواة.  
لأنها لا تحتوي على جسم مركزي.

**الخلايا الناتجة عنه :** ينتج عنه خليتين جسديتين جديدتين بكل منهما نفس عدد كروموسومات الخلية الأم (2N) وبالتالي فإن كل منهما تكون مطابقة تماماً للخلية الأم.



### الانقسام الميوزي

هو انقسام الخلية الجسدية إلى خليتين جسديتين جديدتين بكل منهما نفس عدد الكروموسومات الموجود في الخلية الأم.

### أهمية الانقسام الميوزي :

- 1- نمو الكائن الحي ( كنمو البذرة إلى نبات كامل ) ... **علل ؟**
- 2- تعويض الخلايا التالفة أو المفقودة (كالتئام الجروح وكسور العظام) ... **علل ؟**  
لزيادة (تضاعف) عدد الخلايا الجسدية الناتجة بالانقسام.
- 3- اتمام عملية التكاثر اللاجنسي في بعض الكائنات الحية « سيتم دراسته بالتفصيل في الدرس الثاني »

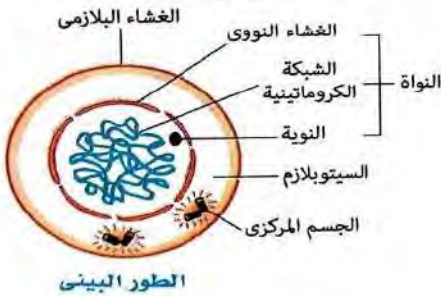


نمو البذرة بالانقسامات الميوزية

□ يسبق الانقسام الخلوي طور يُعرف بالطور البيئي.

### الطور البيئي

□ تمر الخلية قبل عملية الانقسام الخلوي **بمرحلة هامة تسمى الطور البيئي ... علة ؟**  
لتهيئة الخلية للدخول في مراحل الانقسام ،



الطور البيئي

**وذلك عن طريق :**

• القيام ببعض العمليات الحيوية اللازمة للانقسام.

• مضاعفة المادة الوراثية (الكروموسومات).

□ تبدو الكروموسومات في هذا الطور على هيئة خيوط

رفيعة متشابكة تُعرف بالشبكة الكروماتينية.

#### للايضاح فقط

يقصد بمضاعفة المادة الوراثية تكوين نسختين متطابقتين من DNA

#### للاطلاع فقط

يستغرق الطور البيئي حوالي ٩٠٪ من زمن دورة الانقسام الخلوي

□ في ضوء ما سبق يمكن تعريف الطور البيئي ، **كالتالي :**

**الطور البيئي** هو المرحلة التي تسبق عملية الانقسام الخلوي، وفيها تتهيأ الخلية للانقسام بالقيام ببعض العمليات الحيوية اللازمة للانقسام ومضاعفة المادة الوراثية.

**علة ؟ تتضاعف المادة الوراثية في الطور البيئي قبل الدخول في مراحل الانقسام الميتوزي.**

حتى تحصل كل خلية من الخليتين الناتجتين عن الانقسام على نفس عدد الكروموسومات الموجودة في الخلية الأم وبالتالي يظل عدد الكروموسومات ثابتاً في أفراد النوع الواحد بعد إتمام عملية الانقسام.


### مراحل (أطوار) الانقسام الميتوزي

يلي الطور البيئي للانقسام الميتوزي أربعة أطوار ، هي :



**ما التغيرات الحادثة...؟ في كل طور من أطوار الانقسام الميتوزي ، مع التوضيح بالرسم.**

اسم الطور	التغيرات الحادثة في الطور	الشكل التوضيحي
١ الطور التمهيدي	<p>□ تتكثف الشبكة الكروماتينية (المادة الوراثية) لتظهر في شكل خيوط طويلة رفيعة مزدوجة (الكروموسومات).</p> <p>□ في نهاية هذا الطور :</p> <p>□ تختفي (تتحلل) النوية والغشاء النووي.</p> <p>□ تتكون خيوط سيتوبلازمية بين قطبي الخلية تسمى خيوط المغزل ، تتصل بالكروموسومات عند منطقة السنترومير.</p> <p>• في الخلية الحيوانية : تتكون خيوط المغزل بواسطة الجسم المركزي.</p> <p>• في الخلية النباتية : تتكون خيوط المغزل من تكثف السيتوبلازم عند القطبين ( لعدم وجود جسم مركزي )</p>	

	<p>٢</p> <p>الطور الاستوائى</p> <p>تترتب الكروموسومات عند خط استواء الخلية بواسطة خيوط المغزل المتصلة بها عند السنترومير.</p>	<p>٢</p> <p>الطور الاستوائى</p>
 <p>كروموسومات أحادية الكروماتيد</p>	<p>٣</p> <p>الطور الانفصالى</p> <p>ينقسم سنترومير كل كروموسوم طويلاً إلى نصفين فينفصل كروماتيدي كل كروموسوم عن بعضهما.</p> <p>تتقلص (تنكمش) خيوط المغزل ساحبة معها الكروماتيدات فتتكون مجموعتان متماثلتان من الكروموسومات أحادية الكروماتيد تتجه كل مجموعة منهما إلى أحد قطبي الخلية.</p>	<p>٣</p> <p>الطور الانفصالى</p>
 <p>غشاء نووى</p> <p>نوية</p>	<p>٤</p> <p>الطور النهائى</p> <p>تختفى خيوط المغزل.</p> <p>يتكون عند كل قطب من قطبي الخلية نوية وغشاء نووى يحيط بالكروموسومات فتتكون نواتان جديدتان.</p> <p>يتحول تجمع الكروموسومات داخل كل نواة إلى شبكة كروماتينية مرة أخرى.</p> <p>فى نهاية هذا الطور تنقسم الخلية إلى خليتين جديدتين، بكل منهما نفس عدد كروموسومات الخلية الأم (2N) (الخلية التى حدث لها انقسام).</p>	<p>٤</p> <p>الطور النهائى</p>

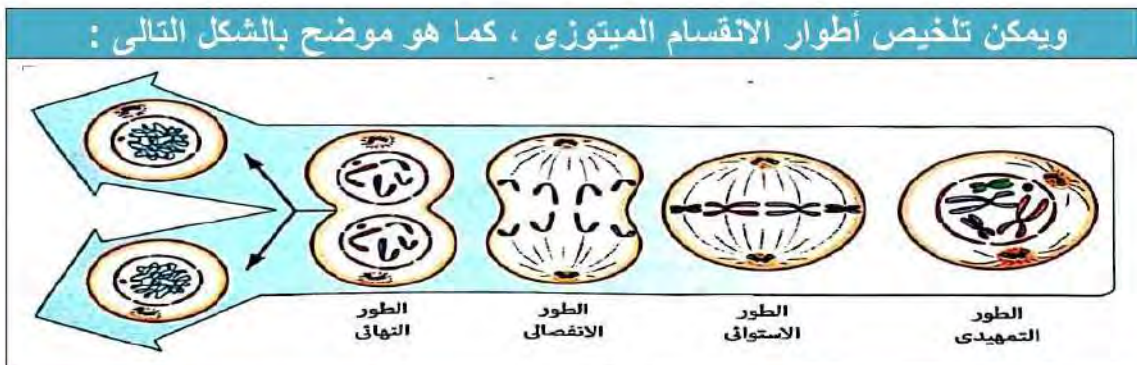
**علل ؟** تسمى التغيرات الحادثة فى الطور النهائى للانقسام الميتوزى بالتغيرات العكسية. لأنها عكس التغيرات الحادثة فى الطور التمهيدى.

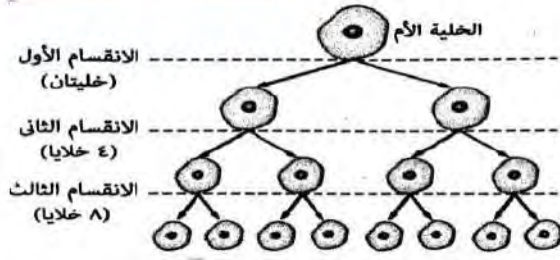
## ملحوظة

 <p>يبدأ ظهور كل كروموسوم على هيئة كروماتيدين ملتصقين معاً عند السنترومير فى الطور التمهيدى ، ويظل حتى نهاية الطور الاستوائى للانقسام الميتوزى.</p>	 <p>يكون الكروموسوم على هيئة كروماتيد واحد : - قبل وبعد الانقسام الخلوئى. - أثناء الطور الانفصالى للانقسام الميتوزى.</p>
--	---

**قارن بين ؟** الخلية الحيوانية و الخلية النباتية من حيث : **تكون خيوط المغزل** .  
 • فى الخلية الحيوانية : بواسطة الجسم المركزى .  
 • فى الخلية النباتية : من تكثف السيتوبلازم عند القطبين ( لعدم وجود جسم مركزى).

ويمكن تلخيص أطوار الانقسام الميتوزى ، كما هو موضح بالشكل التالى :





مثال ٢ إذا حدث ثلاثة انقسامات ميتوزية متتالية

خلية جسدية لكانن حي بها ٢٠ كروموسوم

احسب : (١) عدد الخلايا الناتجة.

(٢) عدد الكروموسومات في كل منها.

الحل

(١) عدد الخلايا الناتجة : ٨ خلايا جسدية.

(٢) عدد الكروموسومات في كل خلية ناتجة = عدد الكروموسومات في الخلية الأم = ٢٠ كروموسوم.

**للاطلاع فقط**

الحل الرياضي للمثال السابق :

يحسب عدد الخلايا الناتجة عن الانقسام الميتوزي من العلاقة  $2^n$  حيث  $n$  : عدد الانقسامات الحادثة  
∴ عدد الخلايا الناتجة عن الانقسام في المثال السابق =  $2^n = 2^3 = 8$  خلايا.

### زراعة الكبد

العلم والتكنولوجيا والمجتمع :



ما الأساس العلمي؟ لعملية زراعة الكبد.

خلايا الكبد لا تنقسم في الأحوال العادية ولكنها تحتفظ بالقدرة على الانقسام تحت ظروف معينة ، فالكبد إذا جرح أو قُطع جزء منه (حتى ثلثيه) فإن الخلايا الباقية منه تنقسم عدة انقسامات ميتوزية حتى تعوض الجزء المفقود منه.

تجرى عملية زراعة الكبد باستبدال كبد مريض

بجزء من كبد لشخص متبرع ، وبمرور الوقت يكتمل كبد كل منهما نتيجة للانقسامات الميتوزية الحادثة.

### ثانياً الانقسام الميوزي (الاختزالي)

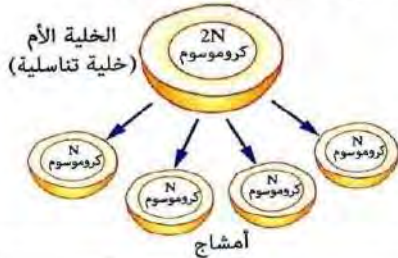
**مكان حدوثه** : يحدث في الخلايا التناسلية (خلايا المناسل).

**الخلايا الناتجة عنه** : ينتج عنه أربع خلايا جنسية (أمشاج) بكل منها نصف عدد كروموسومات الخلية الأم (N).

**أهميته** : تكوين الأمشاج (الخلايا الجنسية) اللازمة لإتمام عملية التكاثر الجنسي

في الكائنات الحية الراقية (عديدة الخلايا) والمسئولة عن انتقال

الصفات الوراثية من الأباء إلى الأبناء.



### الانقسام الميوزي (الاختزالي)

هو انقسام الخلية التناسلية إلى أربع خلايا جنسية (أمشاج) ، بكل منها نصف عدد الكروموسومات الموجود في الخلية الأم.

علل ؟

#### ٢- الانقسام الميتوزي

مهم لجسم الطفل على عكس الانقسام الميوزي.

لأن الانقسام الميتوزي يؤدي إلى النمو الذي يحتاج إليه

جسم الطفل وتعويض الخلايا التالفة والمفقودة

عند حدوث جرح أو كسر في العظام ،

بينما الانقسام الميوزي يؤدي إلى تكوين الأمشاج التي يحتاج إليها البالغون فقط لإتمام التكاثر الجنسي.

#### ١- يسمى الانقسام الميوزي

بالانقسام الاختزالي.

لأنه يختزل

عدد الكروموسومات في كل خلية

من الخلايا الأربعة الناتجة عنه إلى

نصف

عدد كروموسومات الخلية الأم

## ملحوظة هامة

عند اتحاد المشيج المذكر بالمشيج المؤنث - خلال عملية الاخصاب - يتكون الزيجوت الذى يتجمع به العدد الكامل من الكروموسومات ( $2N$ ) وبالتالي يظل عدد الكروموسومات ثابتاً فى أفراد النوع الواحد

## مراحل الانقسام الميوزى

يتم الانقسام الميوزى على مرحلتين متتاليتين ، هما :

ب الانقسام الميوزى الثانى

أ الانقسام الميوزى الأول



الطور البيني

## أ الانقسام الميوزى (الاختزالي) الأول

• يسبق الانقسام الميوزى الأول طور بينى ... علة ؟



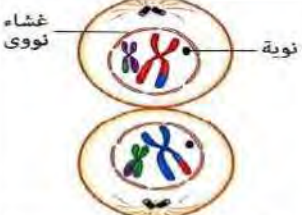
لتهيئة الخلية للدخول فى مراحل الانقسام بالقيام ببعض العمليات الحيوية اللازمة للانقسام ومضاعفة المادة الوراثية (الكروموسومات).

يتضمن الانقسام الميوزى الأول أربعة أطوار ، هى :



ما التغيرات الحادثة ؟ فى كل طور من أطوار الانقسام الميوزى الأول ، مع التوضيح بالرسم.

اسم الطور	التغيرات الحادثة فى الطور	الشكل التوضيحي
١ الطور التمهيدى الأول	<ul style="list-style-type: none"> <li>تتكثف الشبكة الكروماتينية لتظهر فى شكل أزواج متماثلة من الكروموسومات.</li> <li>يتقارب كل كروموسومين متماثلين من بعضهما ليصبحا مجموعة واحدة مكونة من أربعة كروماتيدات ويطلق عليها المجموعة الرباعية.</li> </ul> <p><u>المجموعة الرباعية</u> هى مجموعة مكونة من أربعة كروماتيدات تنشأ من تقارب كل كروموسومين متماثلين من بعضهما أثناء الطور التمهيدى الأول من الانقسام الميوزى.</p> <p>فى نهاية هذا الطور :</p> <ul style="list-style-type: none"> <li>تتبادل قطع من الكروماتيدات المتماثلة فيما يُعرف بظاهرة العبور "الموضحة بصفحة ٨٥".</li> <li>تختفى (تتحلل) النوية والغشاء النووي.</li> <li>تتكون خيوط المغزل التى تتصل بالكروموسومات عند منطقة السنتروميير.</li> <li>يبدأ كل كروموسومين متماثلين من المجموعة الرباعية بالابتعاد عن بعضهما.</li> </ul>	<p>جسم مركزي نوية مجموعة رباعية خيوط المغزل</p>

	<p>تترتب أزواج الكروموسومات المتماثلة عند خط استواء الخلية بواسطة خيوط المغزل المتصلة بها.</p>	<p>٢ الطور الاستوائى الأول</p>
	<p>تتقلص (تتكمش) خيوط المغزل فيبتعد كل كروموسومين متماثلين عن بعضهما البعض ويتجه كل منهما إلى أحد قطبي الخلية، فيصبح عند كل قطب نصف عدد كروموسومات الخلية الأم.</p>	<p>٣ الطور الانفصالي الأول</p>
	<p>تختفى خيوط المغزل. يتكون عند كل قطب من قطبي الخلية نوية وغشاء نووى يحيط بالكروموسومات فتتكون نواتان جديدتان. وفى نهاية هذا الطور ، تنقسم الخلية إلى خليتين تحتوى نواة كل منهما على نصف عدد كروموسومات الخلية الأم (N).</p>	<p>٤ الطور النهائى الأول</p>

### ظاهرة العبور

ما هي الخطوات التي تمر بها؟ الكروموسومات لحدوث ظاهرة العبور.  
تحدث ظاهرة العبور فى نهاية الطور التمهيدي الأول من الانقسام الميوزى كالتالى :



### ظاهرة العبور

هى عملية تبادل للجينات بين الكروماتيدين الداخليين للمجموعة الرباعية.

### أهميتها

تعمل ظاهرة العبور على تنوع الصفات الوراثية فى أفراد النوع الواحد ... علل ؟  
لأنه يتم فيها تبادل للجينات ( التى تحمل الصفات الوراثية فى جزئ الحمض النووى DNA ) بين الكروماتيدين الداخليين للكروموسومين المتماثلين فى كل مجموعة رباعية والتي تتوزع عشوائياً فى الأمشاج.

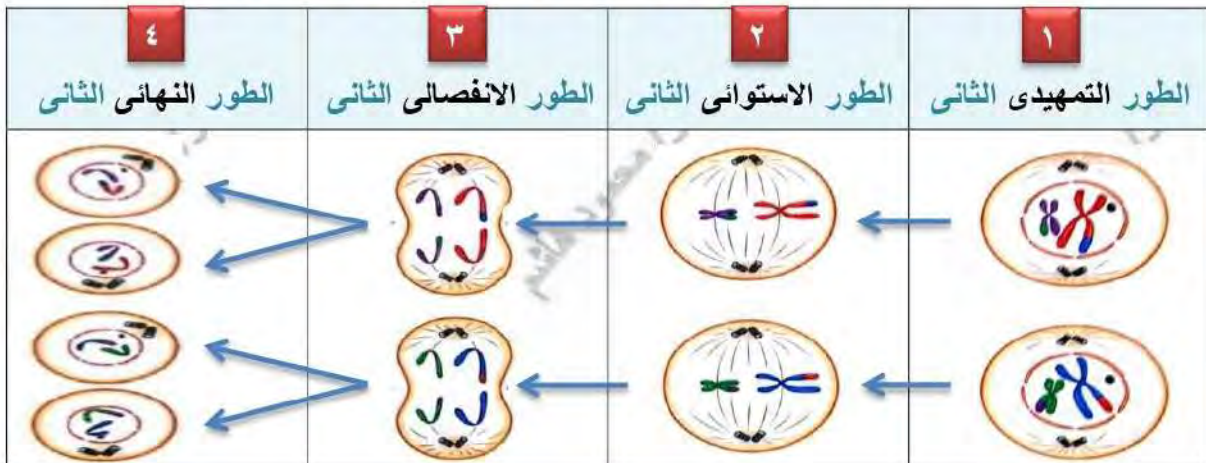
### ب الانقسام الميوزى (الاختزالي) الثانى

يهدف الانقسام الميوزى الثانى إلى زيادة عدد الخلايا الناتجة عن الانقسام الميوزى الأول ، حيث تنقسم كل من الخليتين الناتجتين من الانقسام الميوزى الأول بنفس طريقة الانقسام الميوزى فينتج عنه ٤ خلايا بكل منها نصف عدد كروموسومات الخلية الأم (الخلية التناسلية).





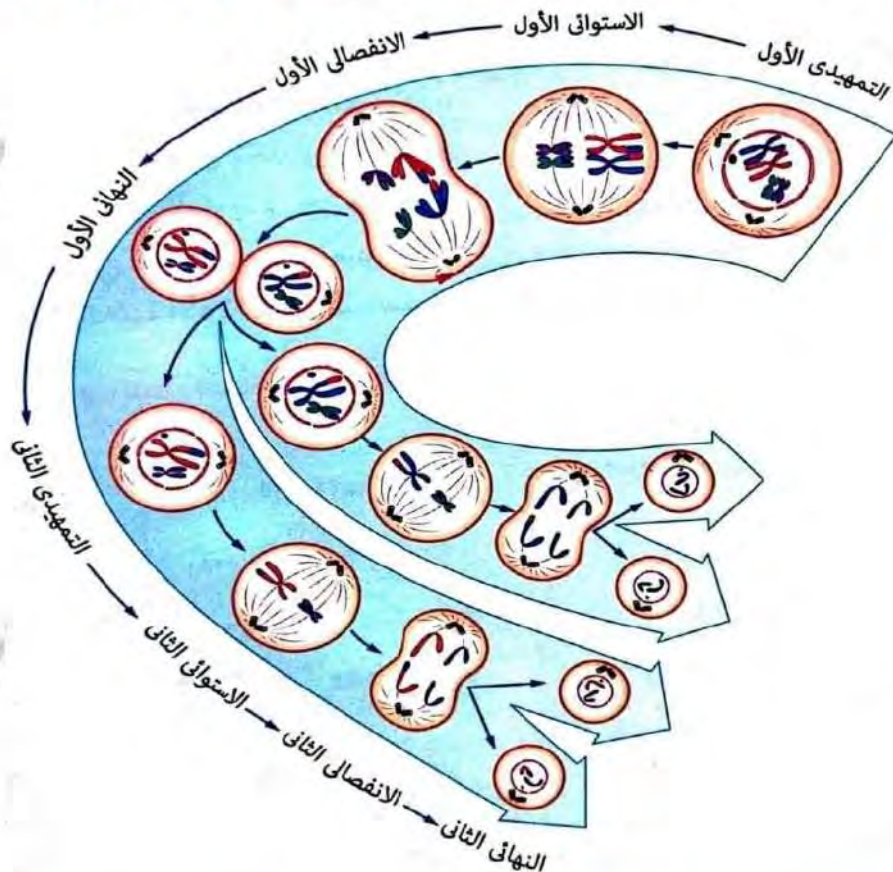
يتضمن الانقسام الميوزي الثاني أربعة أطوار ، هي :



### ملاحظات

- |   |  |
|---|--|
| <p><b>في الانقسام الميوزي الثاني</b></p> <ul style="list-style-type: none"> <li>● لا يسبق الطور التمهيدي الثاني طور بيني فلا تتضاعف فيه المادة الوراثية.</li> <li>● تنقسم السنتروميرات في الطور الانفصالي الثاني حيث تتكون مجموعتان متماثلتان من الكروموسومات أحادية الكروماتيد عند قطبي الخلية.</li> </ul> | <p><b>في الانقسام الميوزي الأول</b></p> <ul style="list-style-type: none"> <li>● يسبق الطور التمهيدي الأول طور بيني تتضاعف فيه المادة الوراثية.</li> <li>● لا تنقسم السنتروميرات في الطور الانفصالي الأول حيث تتكون مجموعتان متماثلتان من الكروموسومات ثنائية الكروماتيد عند قطبي الخلية.</li> </ul> |
|---|--|

ويمكن تلخيص مرحلتى الانقسام الميوزي بأطوارهما ، كما هو موضح بالشكل التالي :



## ١- الانقسام الميوزي و الانقسام الميوزي.

وجه المقارنة	الانقسام الميوزي (المباشر)	الانقسام الميوزي (الاختزالي)
الخلايا التي يحدث لها الانقسام	جميع الخلايا الجسدية ، عدا الخلايا العصبية وخلايا الدم الحمراء البالغة	الخلايا التناسلية (خلايا المناسل) (خلايا الخصية والمبيض والتمتلك)
عدد الخلايا الناتجة عن الانقسام	خليتان جسديتان متماثلتان	أربع خلايا جنسية
عدد الكروموسومات في كل خلية ناتجة	نفس عدد الكروموسومات الموجود في الخلية الأم (2N)	نصف عدد الكروموسومات الموجود في الخلية الأم (N)
أهمية (أهداف) الانقسام	<ul style="list-style-type: none"> <li>• نمو الكائن الحي.</li> <li>• تعويض الخلايا التالفة أو المفقودة.</li> <li>• إتمام عملية التكاثر اللاجنسي في بعض الكائنات الحية.</li> </ul>	<ul style="list-style-type: none"> <li>• تكوين الأمشاج المذكرة والمؤنثة اللازمة لإتمام عملية التكاثر الجنسي في معظم الكائنات الحية الراقية.</li> <li>• التنوع في الصفات الوراثية.</li> </ul>
مراحل الانقسام	مرحلة واحدة تتضمن أربعة أطوار ، هم : ( الطور التمهيدي - الطور الاستوائي - الطور الانفصالي - الطور النهائي )	<ul style="list-style-type: none"> <li>• مرحلتين ، هما :</li> <li>• مرحلة الانقسام الميوزي الأول.</li> <li>• مرحلة الانقسام الميوزي الثاني ، تتضمن كل منهما أربعة أطوار.</li> </ul>

## ٢- الخلية التناسلية و الخلية الجنسية (المشيح).

وجه المقارنة	الخلية التناسلية	الخلية الجنسية ( المشيح )
هي	<ul style="list-style-type: none"> <li>• خلايا الخصية والمبيض في الإنسان والحيوان.</li> <li>• خلايا التمتك والمبيض في النبات.</li> </ul>	<ul style="list-style-type: none"> <li>• الحيوان المنوى والبويضة في الإنسان والحيوان.</li> <li>• حبوب اللقاح والبويضة في النبات.</li> </ul>
عدد الكروموسومات	تحتوى على ضعف عدد الكروموسومات الموجود بالخلية الجنسية ( العدد الثنائي ويرمز له بالرمز 2N )	تحتوى على نصف عدد الكروموسومات الموجود بالخلية التناسلية ( العدد الأحادي ويرمز له بالرمز N )
نوع الانقسام	تنقسم ميوزياً	لا تنقسم
الأهمية	إنتاج الأمشاج	إتمام عملية التكاثر الجنسي

## ٣- الخلية الجسدية و الخلية التناسلية.

وجه المقارنة	الخلية الجسدية	الخلية التناسلية
هي	جميع خلايا الجسم ، عدا خلايا المناسل	خلايا المناسل (أعضاء التذكير والتأنيث) فقط
عدد الكروموسومات	تحتوى على العدد الكامل لكروموسومات النوع (2N)	تحتوى على العدد الكامل لكروموسومات النوع (2N)
نوع الانقسام	تنقسم ميوزياً ، عدا : <ul style="list-style-type: none"> <li>• خلايا الدم الحمراء البالغة.</li> <li>• الخلايا العصبية.</li> </ul>	تنقسم ميوزياً
عدد الخلايا الناتجة عن الانقسام وعدد الكروموسومات بها	نفس عدد كروموسومات الخلية الأم (2N) خليتان جسديتان جديدتان بكل منها	أربع خلايا جنسية (أمشاج) بكل منها نصف عدد كروموسومات الخلية الأم (N)

## العلم والتكنولوجيا والمجتمع **تكنولوجيا النانو وعلاج مرض السرطان**

يُعد مرض السرطان من أخطر أمراض العصر وهو ينشأ عن انقسام بعض خلايا الجسم بشكل مستمر بصورة غير طبيعية ، مما ينتج عنه تكون كتلة من الخلايا يطلق عليها اسم ورم سرطاني.

### الورم السرطاني

هو كتلة الخلايا الناتجة عن الانقسام المستمر غير الطبيعي للخلايا الحية.

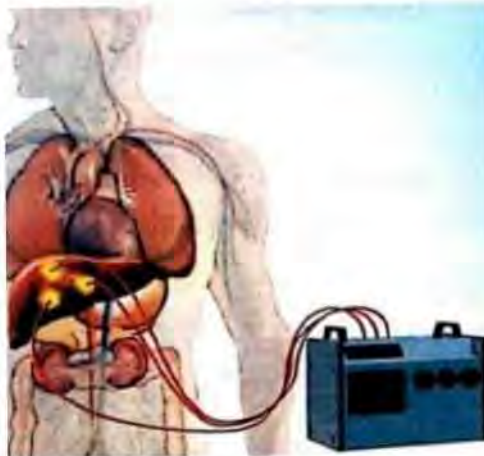


وقد توصل العالم المصري د/ **مصطفى السيد** إلى طريقة للكشف عن الخلايا السرطانية وقتلها باستخدام جزيئات صغيرة جداً من الذهب تقاس أبعادها بوحدة **النانومتر**، ولذلك سميت **بالجزيئات النانوية** وسميت هذه **التقنية بتكنولوجيا النانو** والتي يمكن الاستفادة منها في :

### الكشف عن مرض السرطان، كالتالي :

- تحمل جزيئات الذهب النانوية بروتينات تتميز بالقدرة على الالتصاق بإفرازات الخلية السرطانية.
- يتم حقن المريض بهذه الجزيئات فتسرى في دمه وتلتصق البروتينات المحملة عليها بسطح الخلية السرطانية وبالتالي يمكن رصدها بل ورؤيتها عبر الميكروسكوب لوجود جزيئات الذهب النانوية عليها.

### علاج مرض السرطان، كالتالي :



علاج السرطان باستخدام  
جزيئات الذهب النانوية

### ١- باستخدام جزيئات الذهب النانوية ، كالتالي :

يتم تركيز ضوء الليزر بدرجة معينة على جزيئات الذهب النانوية (الموجودة على سطح الخلية السرطانية) فتمتص طاقة الضوء وتحولها إلى طاقة حرارية تؤدي لحرق وقتل هذه الخلايا المصابة التي التصقت بها، أما الخلايا الأخرى السليمة فلا تتأثر.

### ٢- باستخدام القنابل المجهرية الذكية :

- طور العلماء باستخدام تكنولوجيا النانو قنابل مجهرية ذكية (لا ترى بالعين المجردة) تخترق الخلايا السرطانية وتفجرها من الداخل.
- وعند تجريب هذه القنابل علي فئران تجارب مصابة بالمرض. كانت النتائج كالتالي :



علاج السرطان باستخدام  
القنابل المجهرية الذكية

- الفئران التي تلقت العلاج استطاعت أن تعيش ٣٠٠ يوم .
- الفئران التي لم تتلق العلاج لم تستطع أن تعيش أكثر من ٤٣ يوم.

# الأسئلة

## س ١ أكمل ما يأتي

- ١- تحتوى ..... الخلية علي المادة الوراثية التي تتكون من عدد من .....
- ٢- يتركب الكروموسوم كيميائياً من ..... و .....
- ٣- قبل انقسام الخلية ميتوزياً تدخل في طور ..... تتضاعف فيه .....
- ٤- تحدث ظاهرة العبور في نهاية الطور ..... من الانقسام .....
- ٥- تتكون خيوط المغزل في الخلية الحيوانية بواسطة ..... أما في الخلية النباتية فتتكون من ..... عند القطبين.
- ٦- يحدث الانقسام ..... في الخلايا ..... لتكوين الأمشاج.
- ٧- يُعرف عدد الكروموسومات في الخلايا الجسدية باسم ..... بينما في الخلايا الجنسية يُعرف باسم .....
- ٨- تختفى النوية و ..... في نهاية الطور ..... من الانقسام الميوزي.
- ٩- تمر خلايا الجلد بالطور ..... قبل انقسامها انقساماً .....
- ١٠- بعض الخلايا الجسدية في الإنسان لا تنقسم مطلقاً مثل ..... وبعضها ينقسم تحت ظروف خاصة مثل .....

## س ٢ اكتب المصطلح العلمي

- ١- شبكة من الخيوط تمتد بين قطبي الخلية تتكون في الطور التمهيدى.
- ٢- عملية تبادل للجينات بين الكروماتيدين الداخليين للمجموعة الرباعية.
- ٣- منطقة اتصال كروماتيدى الكروموسوم معاً.
- ٤- الطور الذي تترتب فيه أزواج الكروموسومات علي خط الاستواء في وسط الخلية.
- ٥- كتلة الخلايا الناتجة عن الانقسام المستمر غير الطبيعي للخلايا الحية.
- ٦- انقسام خلوى يهدف لتكوين الأمشاج.
- ٧- الطور الذي تتكون فيه النوية أثناء الانقسام الميوزي.
- ٨- الجزء المسئول عن عملية الانقسام الخلوى في الخلية.
- ٩- خلايا تنتج عن الانقسام الاختزالي للخلايا التناسلية في الكائنات الحية الراقية.
- ١٠- تقنية تعمل على علاج مرض السرطان باستخدام جزيئات صغيرة جداً من الذهب.

## س ٣ ما النتائج المترتبة على

- ١- انقسام خلية جسدية في جسم الانسان انقساماً ميتوزياً.
- ٢- تبادل أجزاء من الكروماتيدين الداخليين في المجموعة الرباعية.
- ٣- جرح كبد أو قطع جزء منه.
- ٤- انقسام خلية تناسلية في الانسان ميوزياً.
- ٥- تركيز ضوء الليزر على جزيئات الذهب النانوية التي يتم حقنها لمريض السرطان.
- ٦- حدوث انقسام ميوزى فى خلايا متك ومبيض زهرة نبات ما.

## س ٤ قارن بين كل من

- |                     |   |   |
|---------------------|---|---|
| ١- الانقسام الميوزى | — | الانقسام الميتوزى. (من حيث عدد الخلايا الناتجة - الأهمية) |
| ٢- الخلايا الجسدية  | — | الخلايا التناسلية. (من حيث نوع الانقسام الحادث)           |
| ٣- الخلايا الجسدية  | — | الأمشاج. (من حيث عدد الكروموسومات)                        |
| ٤- المتك فى النبات  | — | المبيض فى الإنسان. (من حيث نوع الأمشاج التى تنتجها)       |
| ٥- الخلية الحيوانية | — | الخلية النباتية. (من حيث تكوّن خيوط المغزل)               |

- ١- يحدث تضاعف للمادة الوراثية في الطور .....  
( التمهيدى - البينى - النهائى - الاستوائى )
- ٢- خلية نواة حبة لقاح بها ١٠ صبغيات فإن نواة خلية أوراقه تحتوى على ..... أزواج من الكروموسومات ( ٥ - ١٠ - ١٥ - ٢٠ )
- ٣- تظهر خيوط المغزل عند انقسام الخلية فى نهاية الطور ..... من الانقسام الميتوزى.  
( التمهيدى - الانفصالى - النهائى - الاستوائى )
- ٤- عدد الكروموسومات فى البويضة ..... عدد الكروموسومات فى الحيوان المنوى.  
( ضعف - نصف - نفس - ربع )
- ٥- يحدث الانقسام الميوزى فى خلايا .....  
( الكبد - المبيض - الخصية - الخصية والمبيض معاً )
- ٦- خلية جسدية انقسمت ٩ انقسامات متتالية يكون عدد الخلايا الناتجة ..... خلية.  
( ١٢٨ - ٢٥٦ - ٥١٢ - ١٠٢٤ )
- ٧- عدد الكروموسومات فى المشيج يساوى ..... عدد الصبغيات فى الخلية الأصلية.  
( ربع - نفس - نصف - ضعف )

## س ٦ علل لما يأتى

- ١- يسمى الانقسام الميوزى بالانقسام الاختزالى.
- ٢- انكماش خيوط المغزل أثناء الطور الانفصالى من الانقسام الميتوزى.
- ٣- تتضاعف المادة الوراثية فى الطور البينى قبل الدخول فى مراحل الانقسام الميتوزى.
- ٤- لا يتعرض الشخص المتبرع فى عملية زراعة الكبد لضرر نتيجة نقل جزء من كبده السليم.

س ٧ إذا كان عدد الكروموسومات فى حيوان منوى إنسان ٢٣ كروموسوم فما عدد

الكروموسومات فى الخلايا التالية :

( مبيض - رئة - جلد - كبد - خصية - بويضة - قلب )

## التكاثر اللاجنسى والتكاثر الجنسى



يتميز الكائن الحي بقدرته على التكاثر بهدف استمرار نوعه وذلك بإنتاج أفراد جديدة تتفاعل مع البيئة وتؤثر فيه مما يحميه من الانقراض. **في عملية التكاثر:** تنتقل الصفات الوراثية من الآباء إلى الأبناء كما سيتضح فيما بعد.

## التكاثر

هو عملية حيوية يقوم فيها الكائن الحي بإنتاج أفراد جديدة من نفس نوعه مما يضمن استمراره وحمايته من الانقراض.

## التكاثر في الكائنات الحية

تتكاثر الكائنات الحية بإحدى نوعي التكاثر، هما:



## أولاً التكاثر اللاجنسى (اللاتزاوجي)

تحدث عملية التكاثر اللاجنسى في:

جميع الكائنات الحية وحيدة الخلية (البسيطة) مثل • الأميبا. • فطر الخميرة.	بعض الكائنات الحية عديدة الخلايا مثل • نجم البحر. • فطر عيش الغراب. • الهيدرا.
---	--

## خصائص التكاثر اللاجنسى

- 1- يتم عن طريق كائن حي واحد يسمى الفرد الأبوي
- 2- لا يتطلب حدوثه أجهزة أو تراكيب متخصصة في الكائن الحي.
- 3- يعتمد على حدوث الانقسام الميتوزي.
- 4- يحافظ التكاثر اللاجنسى على التركيب الوراثي للكائن الحي .... اشرح مع التفسير؟  
حيث أن الأفراد الناتجة عن التكاثر اللاجنسى تحصل على نسخة كاملة من الصفات الوراثية للفرد الأبوي أثناء حدوث الانقسام الميتوزي ، وبالتالي ينتج عنه أفراد جديدة مطابقة تماماً للفرد الأبوي حيث لا يحدث أي تغير في التركيب الوراثي يؤدي لاختلاف النسل الناتج عن الفرد الأبوي.

☐ مما سبق يمكن تعريف التكاثر اللاجنسى ، كالتالي :

## التكاثر اللاجنسى (اللاتزاوجي)

هو عملية حيوية يقوم فيها الفرد الأبوي بإنتاج أفراد جديدة مطابقة له تماماً في صفاته الوراثية.

يحدث التكاثر اللاجنسى بعدة صور ، يوضحها المخطط التالى :

## صور التكاثر اللاجنسى



### ١ التكاثر بالانشطار الثنائى

**يحدث فى :** الكائنات الحية وحيدة الخلية

**مثل :**

- الطحالب البسيطة. □ البكتيريا.
- الأوليات الحيوانية ، مثل :
- الأميبا. ● اليوجلينا.
- البرامسيوم.

**كيفية حدوثه :** يتم الانشطار الثنائى فى الكائنات الحية ، كالتالى :

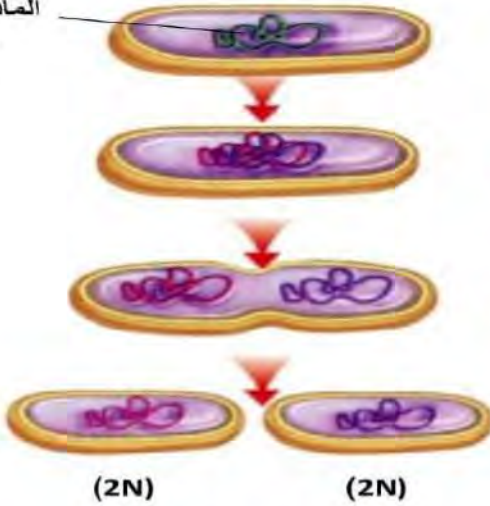
- تنقسم نواة الخلية انقساماً ميتوزياً.
- تنشط الخلية ( التى تمثل جسم الكائن الحى ) إلى خليتين ، ليصبح كل منهما فرداً جديداً مطابقاً للفرد الأبوى.



الأوليات الحيوانية

### تطبيق الانشطار الثنائى فى البكتيريا

المادة الوراثية (2N)



- تضاعف**  
المادة الوراثية داخل الخلية
- تنحصر**  
الخلية إلى جزئين غير منفصلين  
تنوزع المادة الوراثية بينهما بالتساوى
- تنشط**  
الخلية إلى خليتين متماثلتين  
كل منهما  
مطابقة تماماً للفرد الأبوى

□ مما سبق يمكن تعريف التكاثر بالانشطار الثنائى ، كالتالى :

### التكاثر بالانشطار الثنائى

هو تكاثر لاجنسى يتم عن طريق انشطار الفرد الأبوى وحيد الخلية إلى خليتين متماثلتين ، كل منهما مطابقة له تماماً فى صفاته الوراثية.

**علل ؟** يختفى الفرد الأبوى الذى يتكاثر بالانشطار الثنائى.

لأنه ينشط إلى خليتين متماثلتين تماماً.



## يحدث التكاثر بالتبرعم في الكائنات الحية :

عديدة الخلايا  
مثل

• الإسفنج.



التكاثر بالتبرعم في الإسفنج

• الهيدرا.



التكاثر بالتبرعم في الهيدرا

وحيدة الخلية  
مثل

• فطر الخميرة



التكاثر بالتبرعم في فطر الخميرة

## التكاثر بالتبرعم في فطر الخميرة.

تطبيق

لاكتشاف كيف يتكاثر فطر الخميرة ، يمكنك إجراء النشاط التالي :

## التكاثر في فطر الخميرة.

نشاط

## المواد الأدوات المستخدمة :

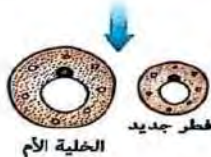
- قطعة من الخميرة.
- طبق بترى (طبق خاص بالتجارب المعملية).
- شريحة زجاجية وغطاءها.
- محلول سكري.
- ميكروسكوب.
- عود (خلة) أسنان.
- ماء دافئ.

## الخطوات :

- (١) أضف ٤ مل من الماء الدافئ إلى قطعة الخميرة مع التقليب جيداً لعمل محلول خميرة.
- (٢) أضف ١ مل من المحلول السكري إلى ٢ مل من محلول الخميرة في طبق بترى ، ثم اتركه لمدة ١٠ دقائق في مكان مظلم دافئ.
- (٣) ضع قطرة من المخلوطة على الشريحة الزجاجية باستخدام عود الاسنان، ثم غطها بالغطاء الخاص بها.
- (٤) افحص الشريحة تحت الميكروسكوب وسجل ملاحظاتك.

## الملاحظة :

يتكاثر فطر الخميرة ، كالتالي :



## ينشأ بروز جانبي

في الخلية الأم ، يُعرف بالبرعم.

## تنقسم نواة الخلية

ميتوزيا إلى نواتين ،  
تبقى إحدهما في الخلية الأم  
وتهاجر الأخرى إلى البرعم.

## ينمو البرعم تدريجياً

ويبقى متصلاً بالخلية الأم  
حتى اكتمال نموه ، ثم :  
• يتفصل عنها ويصبح فطر جديد.

أو

• يستمر متصلاً بها ، ويتكاثر بنفس  
الطريقة مكوناً مستعمرة.

## الاستنتاج :

يتكاثر فطر الخميرة بالتبرعم.

◉ مما سبق يمكن تعريف التكاثر بالتبرعم والبرعم ، كالتالى :

### التكاثر بالتبرعم

هو تكاثر لاجنسى يتم عن طريق البراعم النامية من الفرد الأبوى

### البرعم

هو تركيب ينشأ كبروز جانبي فى الخلية الأم تهاجر إليه إحدى النواتين الناتجتين من انقسام الميتوزياً.

### ٣ التكاثر بالتجدد

**يحدث فى :** بعض الكائنات الحية عديدة الخلايا ،  
مثل : نجم البحر.

**كيفية حدوثه :** يتم عن طريق نمو أحد الأجزاء المفقودة من جسم الكائن الحى - والتي تحتوى على جزء من القرص الوسطى بواسطة الانقسام الميتوزي مكوناً كائن كامل مطابق له تماماً.



نجم البحر  
«يتركب من قرص وسطى،  
تخرج منه عدة أذرع»

### تطبيق

### التجدد والتكاثر بالتجدد فى نجم البحر.

عندما يفقد حيوان نجم البحر إحدى أذرع ، فإن :



### الذراع المفقودة من الحيوان

تستطيع أن تنمو بالانقسام الميتوزي لخلاياها مكونة حيواناً كاملاً مطابقاً للفرد الأبوى ،  
بشرط

احتوائها على جزء من القرص الوسطى للحيوان فيما يعرف بالتكاثر بالتجدد

### الجزء المتبقي من الحيوان

يستطيع تكوين ذراع جديدة ،  
بالانقسام الميتوزي لخلاياه فيما يعرف بالتجدد

### التكاثر بالتجدد

هو قدرة الجزء المفقود من بعض الكائنات الحية على النمو مكوناً كائن كامل مطابق تماماً للفرد الأبوى.

### التجدد

هو قدرة بعض الكائنات الحية على تعويض الأجزاء المفقودة منها.



### للاطلاع فقط

يفترس نجم البحر الواحد حوالى ١٠ محارات من تلك التى يتكون بداخلها اللؤلؤ وهو ما دعى أصحاب مزارع محارات اللؤلؤ إلى محاولة التخلص منه ، بجمعه وتقطيعه وإلقائه فى البحر مرة أخرى ، وكانت المفاجأة أن ذلك أدى إلى إكثاره وليس التخلص منه !! ومن هنا كانت بداية معرفتنا بالتكاثر بالتجدد.

علل ؟ لا يعتبر التجدد فى جميع الحالات تكاثراً.

لأنه قد يحدث بهدف النمو أو تعويض الخلايا التالفة.



فطر عيش الغراب

**يحدث في :** بعض الكائنات الحية ، وهو أكثر شيوعاً في :

- كثير من الفطريات مثل :
- فطر عفن الخبز.
- فطر عيش الغراب.
- بعض الطحالب.

**كيفية حدوثه :** تحمل بعض الكائنات الحية أعضاء خاصة

(أكياس) تسمى الحوافظ الجرثومية

تحتوى بداخلها على عدد كبير من الجراثيم.

■ عند نضج الجراثيم تنفجر هذه الحوافظ وتنتشر الجراثيم الموجودة في الهواء.

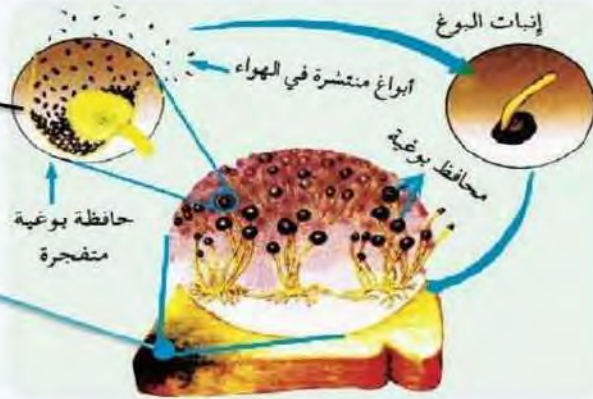
■ عند سقوط الجراثيم الناضجة على بيئة مناسبة ، فإنها تنمو بالانقسامات الميتوزية

إلى كائنات حية كاملة من نفس النوع.

### تطبيق التكاثر بالجراثيم في فطر عفن الخبز.

**نضج الجراثيم**  
أدى إلى انفجار الحافظة الجرثومية  
وتنتشر الجراثيم الموجودة بها في الهواء

**سقوط الجراثيم على بيئة مناسبة**  
لتنمو كل منها بالانقسام الميتوزي  
مكوناً فطراً جديداً مطابقاً تماماً للفرد الأبوي



### التكاثر بالجراثيم (الأبواغ) في فطر عفن الخبز

■ مما سبق يمكن تعريف التكاثر بالجراثيم (الأبواغ) والحوافظ الجرثومية ، كالتالى :

#### الحوافظ الجرثومية

هى أعضاء خاصة تحملها بعض الكائنات  
وتحتوى بداخلها على عدد كبير من الجراثيم

#### التكاثر بالجراثيم (الأبواغ)

هو تكاثر لاجنسى يتم عن طريق  
الجراثيم التى تنتجها الكائنات الحية.

#### ٥ التكاثر الخضري

**يحدث في :** بعض النباتات لإنتاج نباتات جديدة مطابقة  
لها تماماً دون الحاجة الى بذور.

- كيفية حدوثه :** ■ يتم التكاثر الخضري بالانقسام الميتوزي ، إما :
- طبيعياً : بواسطة أجزاء مختلفة من النباتات (كالجذر والساق والاوراق).
  - صناعياً : بعدة طرق أحدثها زراعة الأنسجة النباتية.

التكاثر الخضري الطبيعي  
في درنة (ساق) البطاطس

■ مما سبق يمكن تعريف التكاثر الخضري ، كالتالى :

#### التكاثر الخضري

هو تكاثر لاجنسى يتم بواسطة أجزاء من النباتات المختلفة دون الحاجة إلى بذور.

يحدث التكاثر الجنسي في أغلب الكائنات الحية الراقية

### خصائص التكاثر الجنسي

- 1- يتم عن طريق فردين من نفس النوع، أحدهما مذكر والآخر مؤنث ، يطلق عليهما الفردين الأبويين.
- 2- يتم بواسطة أجهزة وأعضاء تناسلية متخصصة.
- 3- يعتمد علي حدوث الانقسام الميوزي.
- 4- يُعد التكاثر الجنسي مصدراً للتغير الوراثي ... اشرح مع التفسير ؟



التكاثر الجنسي مصدر للتغير الوراثي

لحدوث ظاهرة العبور أثناء الانقسام الميوزي عند تكون الأمشاج ، كما أن النسل الناتج عنه يجمع صفاته الوراثية من فردين أبويين مختلفين (ذكر وأنثى) وليس من فرد أبوي واحد كما في التكاثر اللاجنسي.

☐ مما سبق يمكن تعريف التكاثر الجنسي ، كالتالي :

**التكاثر الجنسي (التزاوجي)** هو عملية حيوية يشترك فيها فردين من نفس النوع أحدهما مذكر والآخر مؤنث لإنتاج أفراد جديدة، تجمع في صفاتها بين صفات الفردين الأبويين.

### كيفية حدوث التكاثر الجنسي

يعتمد التكاثر الجنسي على عمليتين أساسيتين ، هما :

(ب)		(أ)
<b>الإخصاب</b>		تكوين الأمشاج ( الجاميتات )



### (أ) عملية تكوين الأمشاج (الجاميتات)

- ☐ علمت من الدرس السابق أن **الأمشاج** :
- تتكون في الكائن الحي نتيجة الانقسام الميوزي لخلاياه التناسلية.
  - تحتوي علي نصف عدد الكروموسومات (N) الموجودة بالخلية الجسدية والتناسلية.
  - نوعان ، أحدهما مذكر والآخر مؤنث.

### (ب) عملية الإخصاب

في عملية الإخصاب		
<b>يتحد</b>	<b>مع</b>	<b>مكونا</b>
المشيج المذكر الذي يحتوي على N كروموسوم	المشيج المؤنث الذي يحتوي على N كروموسوم	زيجوت يحمل العدد الكامل من كروموسومات النوع 2N

### الزيجوت

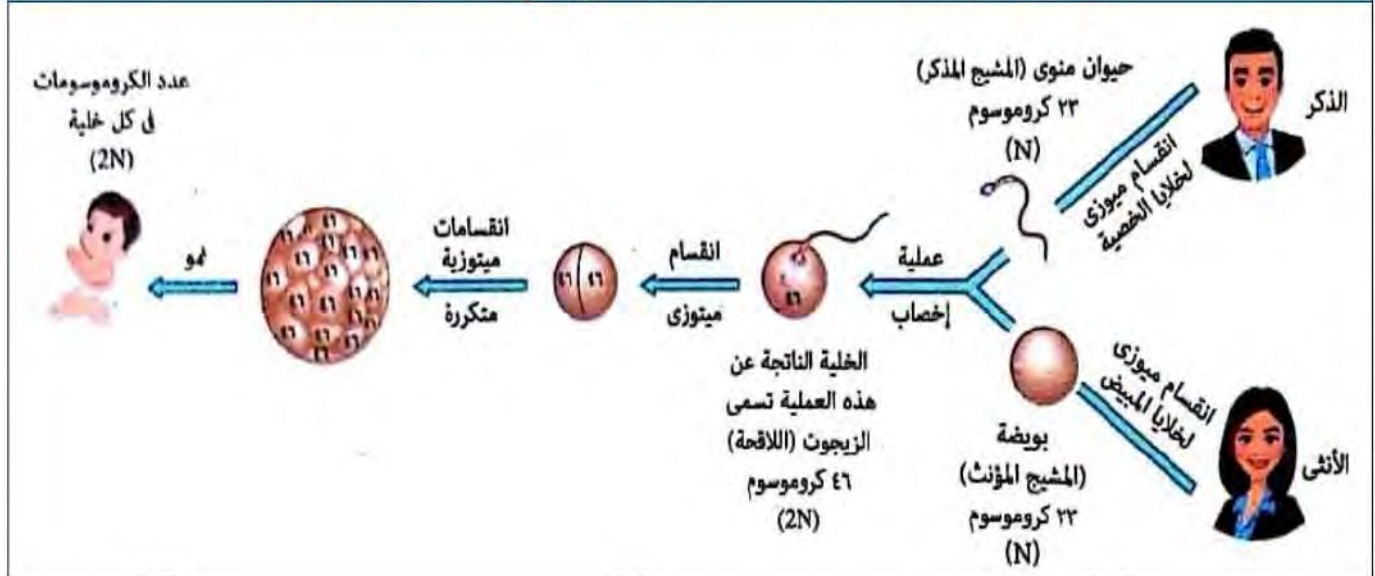
هي الخلية الناتجة عن عملية الإخصاب والتي تحتوي على العدد الكامل من كروموسومات النوع.

### الإخصاب

هو اندماج المشيج المذكر مع المشيج المؤنث لتكوين الزيجوت.

يعطى الزيجوت عند نموه بالانقسام الميتوزي فرداً جديداً يجمع في صفاته الوراثية بين صفات الفردين الأبويين.

ويمكن إجمال عملية التكاثر الجنسي في الشكل المقابل :



علل ؟

- يظل عدد الكروموسومات ثابتاً في أفراد النوع الواحد بعد حدوث عملية الإخصاب.
- ثبات عدد الكروموسومات في خلايا أفراد النوع الواحد التي تتكاثر جنسياً.
- يحتوى الزيجوت على المادة الوراثية كاملة.

لاندماج المشيج المذكر مع المشيج المؤنث

واللذان يحتوى كل منهما على نصف عدد كروموسومات النوع (N) ،

فيتكون الزيجوت الذي يحمل العدد الكامل من كروموسومات النوع (2N).

التكاثر الجنسي (التزاوجي)	التكاثر اللاجنسي (اللاتزاوجي)	وجه المقارنة
يحدث في أغلب الكائنات الحية الراقية	يحدث في : • جميع الكائنات الحية وحيدة الخلية. • بعض النباتات والحيوانات عديدة الخلية.	<b>حدوثه</b>
فردين أبويين من نفس النوع أحدهما ذكر والآخر مؤنث	فرد أبوي واحد فقط	عدد الأفراد المشاركين في التكاثر
تجمع بين صفات الفردين الأبويين	مطابقة تماماً للصفات الوراثية لل فرد الأبوي	الصفات الوراثية للنسل الناتج
الانقسام الميوزي	الانقسام الميتوزي	نوع الانقسام الذي يعتمد عليه التكاثر
يتطلب أجهزة وأعضاء تناسلية متخصصة	لا يتطلب وجود أجهزة أو تراكيب متخصصة في الكائن الحي	<b>شروطه</b>

## الأسئلة

### س ١ أكمل ما يأتى

- ١- من الكائنات وحيدة الخلية التى تتكاثر بالتبرعم ..... وعديدة الخلايا .....
- ٢- من الأوليات الحيوانية التى تتكاثر بالانشطار الثنائى ..... و .....
- ٣- يعتمد التكاثر الجنسى على عمليتين أساسيتين هما ..... و .....
- ٤- من الفطريات التى تتكاثر بالجراثيم ..... و .....
- ٥- يعطى الزيغوت عند نموه بالانقسامات ..... فرداً جديداً يجمع صفاته الوراثية من .....
- ٦- يتكاثر فطر عفن الخبز لا جنسياً عن طريق ..... بينما يتكاثر حيوان الهيدرا لا جنسياً عن طريق .....

### س ٢ قارن بين كلاً من

- ١- نجم البحر - فطر الخميرة ( من حيث نوع التكاثر اللاجنسى )
- ٢- الزيغوت - الأمشاج (من حيث عدد الكروموسومات)
- ٣- التكاثر الجنسى - التكاثر اللاجنسى (من حيث نوع الانقسام الذى يعتمد عليه - الصفات الوراثية للنسل الناتج)

### س ٣ اكتب المصطلح العلمى

- ١- عملية يقوم فيها الكائن الحى بإنتاج أفراد جديدة لها صفات وراثية مطابقة تماماً للآباء.
- ٢- قدرة بعض الحيوانات على تعويض الأجزاء المفقودة منها.
- ٣- خلية تحتوى على مادة وراثية من كل من الأبوين، وتعطى عند نموها فرداً جديداً يجمع فى صفاته بين صفات كل من الفردين الأبويين.
- ٤- تتكون فى الكائنات الحية نتيجة الانقسام الميوزى لخلاياه التناسلية.
- ٥- اندماج المشيج المذكر مع المشيج المؤنث لتتكون اللاقحة.
- ٦- تكاثر لاجنسى يتم بواسطة أجزاء من النباتات المختلفة دون الحاجة إلى بذور.

## س ٤ علل لما يأتي

- ١- اختلاف الصفات الوراثية بين أفراد النوع الواحد في التكاثر التزاوجي.
- ٢- حدوث تضاعف للمادة الوراثية قبل انشطار الخلية البكتيرية.
- ٣- التكاثر اللاجنسي ينتج أفراداً تتشابه في تركيبها الوراثي.
- ٤- يختفى الفرد الأبوي الذي يتكاثر بالانشطار الثنائي.
- ٥- يتم التكاثر اللاجنسي في النبات دون الحاجة إلى أمشاج.
- ٦- يحتوى الزيغوت على المادة الوراثية كاملة.

## س ٥ ماذا يحدث إذا

- ١- اندماج حيوان منوى لذكر الإنسان مع بويضة لأنثى الإنسان.
- ٢- انفجار الحواظ الجراثومية لفطر عفن الخبز.
- ٣- انقسام خلية أميبا ثلاثة انقسامات ميتوزية.
- ٤- فقد حيوان نجم البحر إحدى أذرعه وكان يحتوى على جزء من قرصه الوسطى.
- ٥- انفصال البرعم عن فطر الخميرة بعد اكتمال نموه.

## س ٦ اذكر مثلاً واحداً لكل مما يأتي

- ١- كائن حي يتكاثر بالتجدد.
- ٢- حيوان أولى يتكاثر بالانشطار الثنائي.
- ٣- كائن حي وحيد الخلية يتكاثر بالتبرعم.
- ٤- فطر يتكاثر بالأبواغ (الجراثيم).
- ٥- كائن حي يتكاثر جنسياً عن طريق فردين أبويين.

## س ٧ صوب ما تحته خط

- ١- يحدث التكاثر بالأبواغ في نجم البحر.
- ٢- يتم التكاثر في فطر الخميرة لا جنسياً بالتجدد.
- ٣- تتكون الجراثيم في فطر عيش الغراب داخل أكياس خاصة تسمى المبيض.
- ٤- تنقسم الأميبا بالتبرعم إلى خليتين متطابقتين كل منهما مطابقة للخلية الأم.
- ٥- تتكاثر بعض النباتات خضرياً بواسطة البذور.
- ٦- يحدث التكاثر بالانشطار الثنائي في بعض الطحالب.
- ٧- النسل الناتج من التكاثر الخضري يكتسب صفات وراثية جديدة تجمع بين صفات الأبوين.
- ٨- يختفى الفرد الأبوي في الكائنات الحية التي تتكاثر بالتبرعم.
- ٩- يعتمد التكاثر الجنسي على الانقسام الميتوزي.
- ١٠- يتكاثر فطر عفن الخبز بواسطة خلايا صغيرة تسمى حبوب اللقاح.

## س ٨ اختر الإجابة الصحيحة من بين الأقواس

- ١- يحدث التكاثر بالتبرعم في .....  
( الأميبا - نجم البحر - فطر عيش الغراب - الإسفنج )
- ٢- يهدف التكاثر اللاجنسي إلى .....  
( التنوع في الصفات الوراثية - نمو الكائن الحي - إنتاج أفراد جديدة مطابقة تماماً للأباء - إنتاج أفراد جديدة متباينة عن الآباء )
- ٣- من أمثلة الكائنات وحيدة الخلية .....  
( الإسفنج - البراميسيوم - الهيدرا - نجم البحر )
- ٤- يحدث التكاثر بالانشطار الثنائي في .....  
( الأميبا والهيدرا - الخميرة والبكتيريا - الأميبا والإسفنج - البكتيريا واليوجلينا )
- ٥- يتكاثر نجم البحر لا جنسياً ب .....  
( البذور - التبرعم - التجدد - الانشطار الثنائي )
- ٦- يمكن إنتاج نباتات جديدة مشابهة تماماً للنبات الأم عن طريق .....  
( تكوين الأمشاج - حدوث الإخصاب - زراعة الأنسجة - التبرعم )
- ٧- جميع الكائنات الحية الأتية تتكاثر لاجنسياً ، ما عدا .....  
( الهيدرا - الخميرة - عفن الخبز - بذور الفول )
- ٨- يتم ..... في التكاثر الجنسي بالانقسام الميتوزي.  
( الإخصاب - تكوين الأمشاج - نمو الزيجوت - تكوين اللاقحة )
- ٩- يتم التكاثر الخضري في النبات دون الحاجة إلى .....  
( جذور - بذور - أوراق - سيقان )
- ١٠- الانقسام الميتوزي ضروري للكائنات الحية وحيدة الخلية بهدف .....  
( التجدد - تكوين الأنسجة - النمو في الحجم - التكاثر )